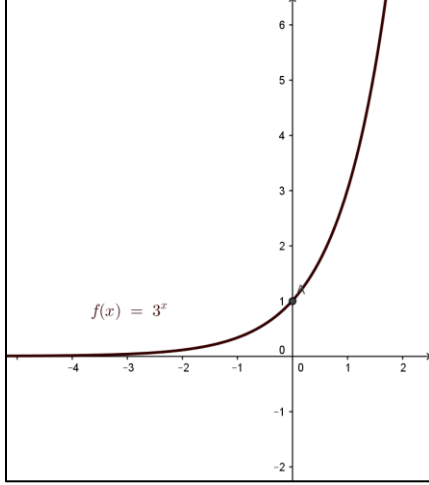


الوحدة الثانية: الاقترانات الأسية واللوغاريتمية

الدرس الأول: الاقترانات الأسية

اتحقق من فهمي مثال 1 صفحة 61

a)\_



مجال الاقتران هو الاعداد الحقيقية ومداه الفترة  $(0, \infty)$   
وله خط تقارب افقي هو المحور  $x$

b)\_

ليس للإقتران مقطع  $x$  وله مقطع  $y$  هو 1 عند  $x=0$

c)\_

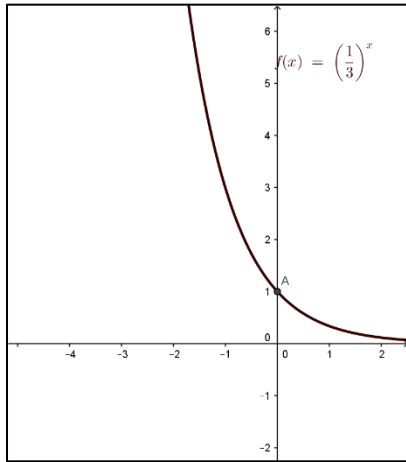
الاقتران متزايد

d)\_

الاقتران واحد لواحد

اتحقق من فهمي مثال 2 صفحة 63

a)



مجال الإقتران هو الاعداد الحقيقية ومداه الفترة  $(0, \infty)$   
وله خط تقارب افقي هو المحور x

b)

ليس للإقتران مقطع x وله مقطع y هو 1 عند  $x=0$

c)

الإقتران متناقص

d)

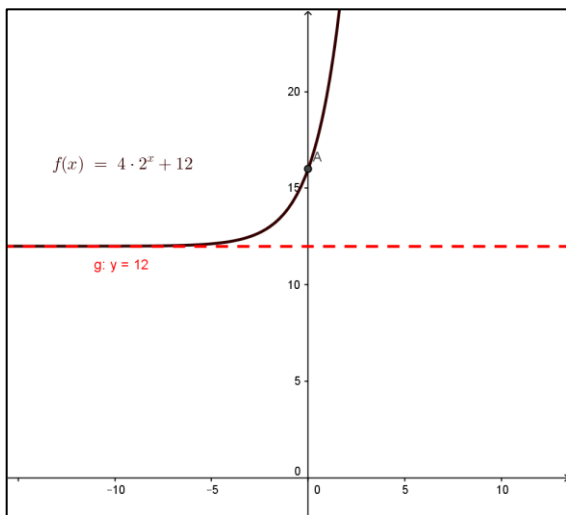
منهاجي  
متعة التعليم الهادف



الإقتران واحد لواحد

اتحقق من فهمي مثال 3 صفحة 65

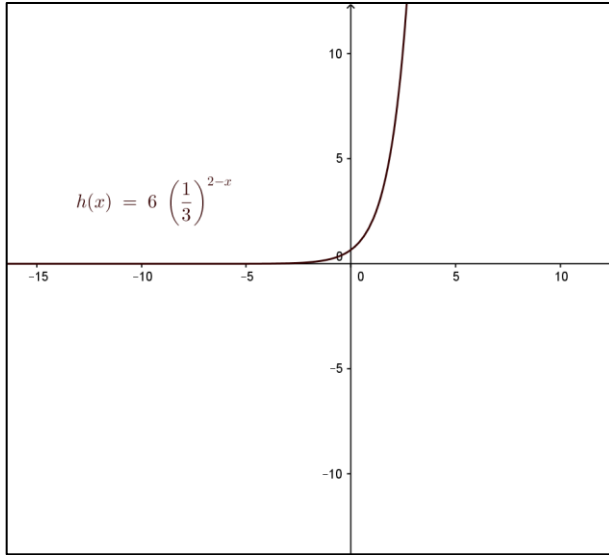
a)



خط التقارب الافقي  $y=12$   
مجال الإقتران الاعداد الحقيقية R  
المدى في الفترة  $(12, \infty)$

b)

خط التقارب الافقي هو محور X  
مجال الإقتران الاعداد الحقيقية R المدى في الفترة  $(0, \infty)$



اتحقق من فهمي مثال 4 صفحة 66

a)

$$N(t) = \left(\frac{1}{2}\right)^{\frac{t}{30}} \Rightarrow N(30) = \left(\frac{1}{2}\right)^{\frac{30}{30}} = \frac{1}{2}$$

كمية السيزيوم 137 المتبقية بعد 30 سنة هي  $\frac{1}{2}g$

b)

$$\begin{aligned} N(t) &= \left(\frac{1}{2}\right)^{\frac{t}{30}} \\ \Rightarrow 0.25 &= \left(\frac{1}{2}\right)^{\frac{t}{30}} \\ \Rightarrow (0.5)^2 &= (0.5)^{\frac{t}{30}} \\ \Rightarrow 2 &= \frac{t}{30} \Rightarrow t = 60 \end{aligned}$$

إذن بعد 60 سنة يتبقى من (السيزيوم 137)  $0.25g$

اتحقق من فهمي مثال 5 صفحة 67

a)

$$\begin{aligned} r &= 2.4\% \Rightarrow r = 0.024 \\ \Rightarrow 1 + r &= 1.024 \\ \Rightarrow A(t) &= 84370(1.024)^t \end{aligned}$$

b)

عام 2015 هو القيمة الابتدائية أي عند  $t=0$  فعند عام 2050 تكون قيمة  $t=35$

$$\Rightarrow A(t) = 84370(1.024)^t$$

$$A(35) = 84370(1.024)^{35} \approx 193502$$

فيكون عدد السكان عام 2050 تقريبا 193502 نسمة

c)



اتحقق من فهمي مثال 6 صفحة 69

a)

$$r = 10\% \Rightarrow r = 0.1$$

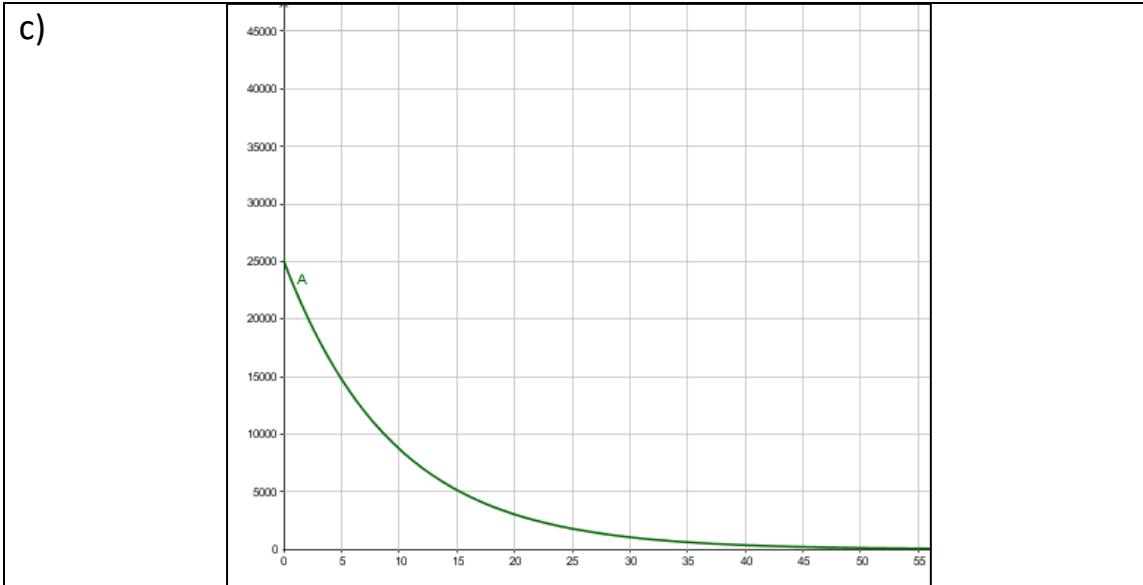
$$\Rightarrow 1 - r = 0.9$$

$$\Rightarrow A(t) = 25000(0.9)^t$$

b)

$$A(t) = 25000(0.9)^t$$

$$\Rightarrow A(5) = 25000(0.9)^5 = 14762.25 \text{ JD}$$



اتحقق من فهمي مثال 7 صفحة 70

a)

$$P(t) = 34.706e^{0.0097t}$$

عام 2015 تكون  $t=0$

$$\Rightarrow P(0) = 34.706e^0 = 34.706$$

b)

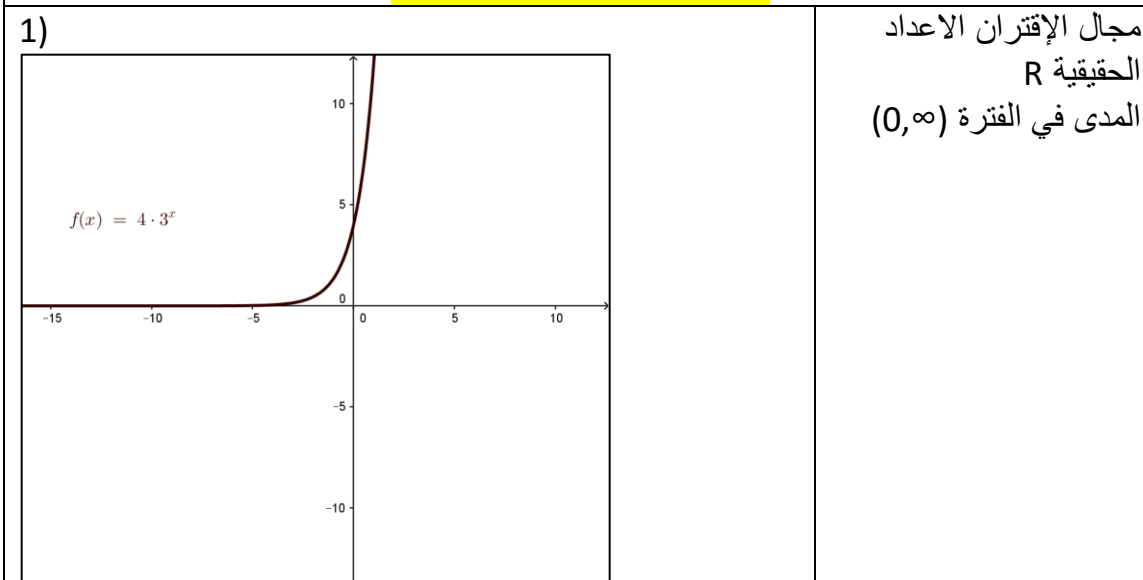
عام 2030 تكون  $t=15$

$$\Rightarrow P(15) = 34.706e^{0.0097 \times 15}$$

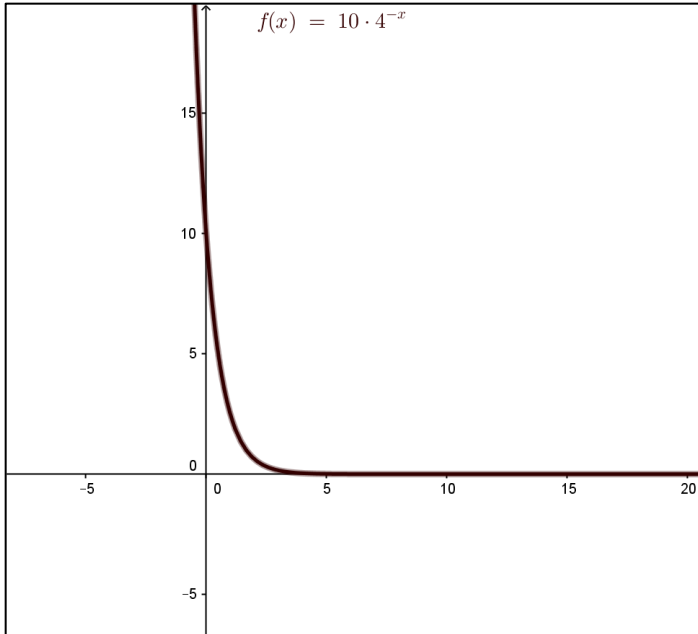
$$= 34.706e^{0.1455}$$

$$\approx 40$$

اتدرب وأحل المسائل صفحة 71

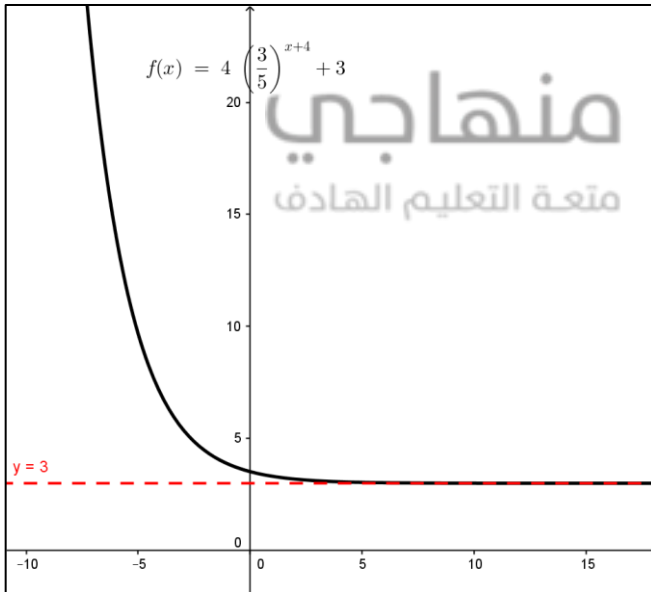


2)




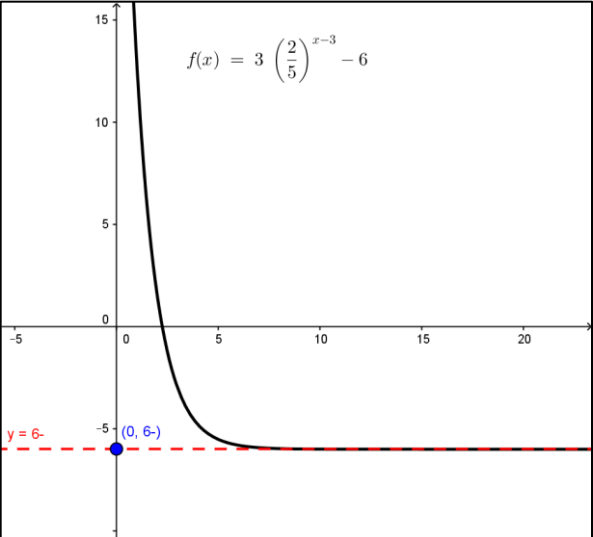
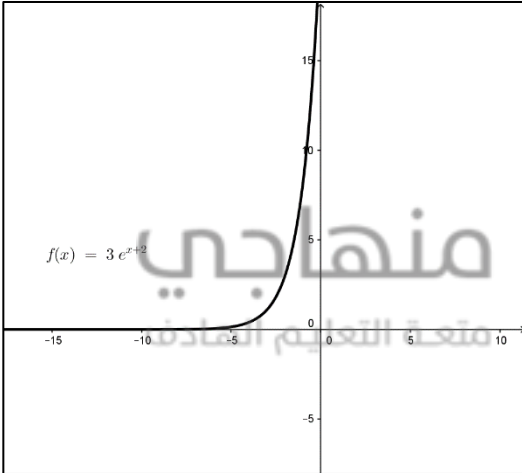

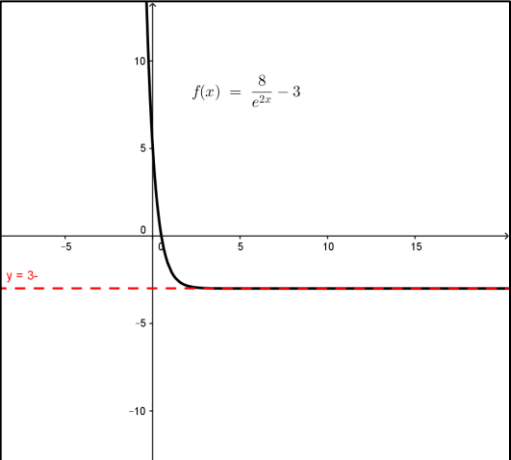
مجال الإقتران الاعداد  
الحقيقية R  
المدى في الفترة  $(0, \infty)$

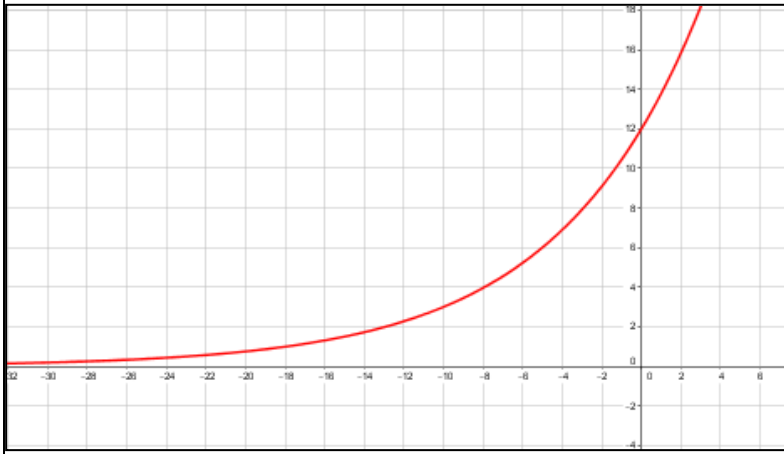
3)



مجال الإقتران الاعداد  
الحقيقية R  
المدى في الفترة  $(3, \infty)$



<p>4)</p>  <p><math>f(x) = 3 \left(\frac{2}{5}\right)^{x-3} - 6</math></p> <p><math>y = 6-</math></p> <p><math>(0, 6-)</math></p>	<p>مجال الإقتران الاعداد الحقيقية R المدى في الفترة <math>(-6, \infty)</math></p>
<p>5)</p>  <p><math>f(x) = 3 e^{x+2}</math></p>	<p>مجال الإقتران الاعداد الحقيقية R المدى في الفترة <math>(0, \infty)</math></p> 
<p>6)</p>  <p><math>f(x) = \frac{8}{e^{2x}} - 3</math></p> <p><math>y = -3</math></p>	<p>مجال الإقتران الاعداد الحقيقية R المدى في الفترة <math>(-3, \infty)</math></p>

<p>7)</p> 	<p>خط التقارب الافقي هو محور x</p>
<p>8)</p> <p>أجد المقطع y</p> $f(x) = 12(2)^{\frac{x}{5}}$ $\Rightarrow f(0) = 12(2)^{\frac{0}{5}}$ $= 12 \Rightarrow y = 12$ <p>وهذا يعني أن طول الشجرة الحالي هو 12 قدم لأن <math>x=0</math> تمثل الوقت الحاضر</p>	
<p>9)</p> <p>من الرسم البياني يتضح أن عدد الخلايا في البداية (عند <math>h=0</math>) هو <math>a=200</math> خلية</p>	
<p>10)</p> <p>من الرسم البياني أجد أن قيمة عدد خلايا البكتيريا A عند <math>h=2</math> هو 440 خلية وهو إقتران نمو أسّي إذن:</p> $A(2) = 440$ $a = 200$ $A(h) = a(1+r)^h$ $\Rightarrow 440 = 200(1+r)^2$ <p>بالقسمة على 200</p> $\Rightarrow 2.2 = (1+r)^2$ $\Rightarrow 1+r \approx 1.48$ $\Rightarrow r \approx 0.48 = 48\%$	
<p>11)</p> $A(h) = a(1.48)^h$	
<p>12)</p> $a = 200 \Rightarrow 3a = 600$ <p>من الرسم نجد قيمة h عند <math>A=600</math> فيكون تقريبا 2.8 ساعة</p>	



13)

$$\begin{aligned}y &= k(2)^x + c \\(0,10) &\Rightarrow 10 = k(2)^0 + c \\ \Rightarrow 10 &= k + c \Rightarrow k = 10 - c \dots\dots 1 \\(-1,7) &\Rightarrow 7 = k(2)^{-1} + c \\ &\Rightarrow 7 = \frac{k}{2} + c \\ &\Rightarrow 14 = k + 2c \dots\dots 2\end{aligned}$$

بتعويض المعادلة 1 في 2

$$\begin{aligned}14 &= 10 - c + 2c \Rightarrow c = 4 \\ &\Rightarrow k = 10 - 4 = 6\end{aligned}$$

14)

$$\begin{aligned}y &= k(2)^x + c \\ k &= 6, c = 4 \\ \Rightarrow y &= 6(2)^x + 4\end{aligned}$$

بتعويض x=3

$$\begin{aligned}\Rightarrow y &= 6(2)^3 + 4 \\ &\Rightarrow y = 52\end{aligned}$$

15)

ثمن الدراجة عند شرائها أي عند t=0 وهو 1000JD

16)

متعة التعليم الهادف

من الرسم أجد أن ثمن الدراجة عند t=2 هو P(2)=500 وبما أن الثمن عند t=0 هو a=1000 إذن:

$$\begin{aligned}P(t) &= a(1 - r)^t \\ \Rightarrow 500 &= 1000(1 - r)^2\end{aligned}$$

بالقسمة على 1000

$$\begin{aligned}\Rightarrow 0.5 &= (1 - r)^2 \Rightarrow 1 - r \approx 0.7 \\ &\Rightarrow r \approx 0.3 = 30\%\end{aligned}$$

17)

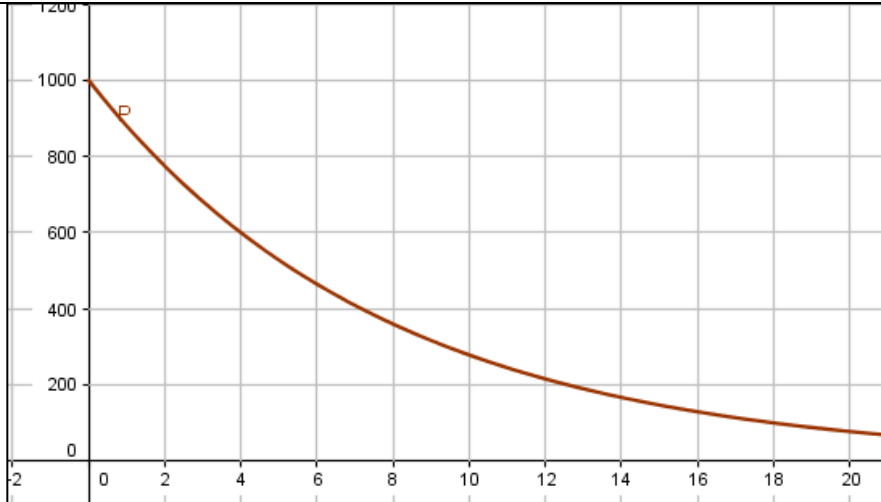
$$P(t) = 1000(0.7)^t$$

18)

عند سطح البحر تكون h=0 أي أن الضغط عند البداية يكون 1000

$$\begin{aligned}P(h) &= a(1 - r)^h \\ P(h) &= 1000(1 - 0.12)^h \\ P(h) &= 1000(0.88)^h\end{aligned}$$

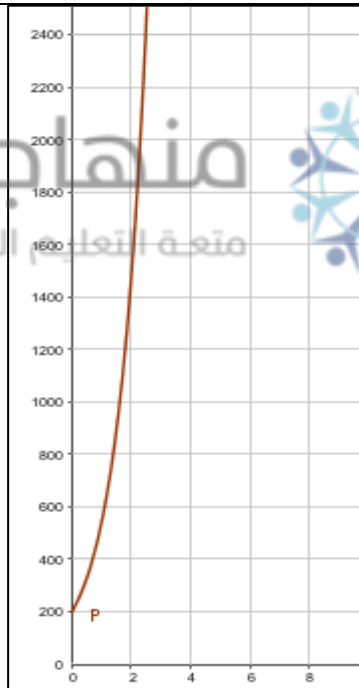
19)



20)

$$P(t) = 200(e)^t$$
$$P(3) = 200(e)^3 \approx 4017$$

21)



22)

$$r = 40\% = 0.4$$
$$\Rightarrow 1 - r = 0.6$$
$$\Rightarrow M(t) = m(0.6)^t$$

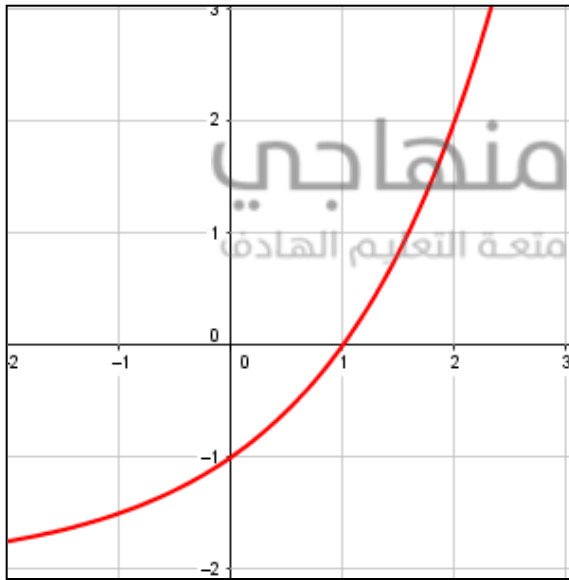
23)

خطأ، لأن الرسم البياني ليس على شكل الإقتران الأسّي حيث أن الإقتران الأسّي المتزايد يكون مقعرا للأعلى وليس للأسفل

24)

$$\begin{aligned}P &= e^{2x} \\ \Rightarrow P &= (e^x)^2 \\ \Rightarrow e^x &= \sqrt{P} = P^{\frac{1}{2}} \\ \Rightarrow e^{3x} &= P^{\frac{3}{2}} \\ \Rightarrow e^{-2x} &= P^{-1} = \frac{1}{P} \\ \Rightarrow e^{-x} &= P^{-\frac{1}{2}} \\ \Rightarrow e^{2x+1} &= P \times e \approx 2.7P \\ \Rightarrow e^{4x} &= P^2\end{aligned}$$

25)



الإقتران الأسّي يقطع محور  $x$  إذا كان على صورة  $f(x) = ab^x + c$  حيث  $c < 0$  مثل  $f(x) = 2^x - 2$  حيث يكون تمثيله البياني كما في الشكل المجاور:

26)

$$\begin{aligned}g(x) &= \frac{1}{16}(4)^x = \frac{4^x}{4^2} = 4^{x-2} = f(x) \\ \Rightarrow g(x) &= f(x)\end{aligned}$$

الدرس الثاني: الإقترانات اللوغاريتمية

اتحقق من فهمي مثال 1 صفحة 74

a)

$$\log_3 9 = 2 \Leftrightarrow 3^2 = 9$$

b)

$$\log_5 5 = 1 \Leftrightarrow 5^1 = 5$$

c)

$$\log_4 \frac{1}{256} = -4 \Leftrightarrow 4^{-4} = \frac{1}{256}$$

d)

$$\log_8 1 = 0 \Leftrightarrow 8^0 = 1$$

اتحقق من فهمي مثال 2 صفحة 74

a)

$$25^2 = 625 \Leftrightarrow \log_{25} 625 = 2$$

b)

$$81^{\frac{1}{2}} = 9 \Leftrightarrow \log_{81} 9 = \frac{1}{2}$$

c)

$$10^{-4} = \frac{1}{10000} \Leftrightarrow \log_{10} \frac{1}{10000} = -4$$

d)

$$19^0 = 1 \Leftrightarrow \log_{19} 1 = 0$$

اتحقق من فهمي مثال 3 صفحة 75

a)

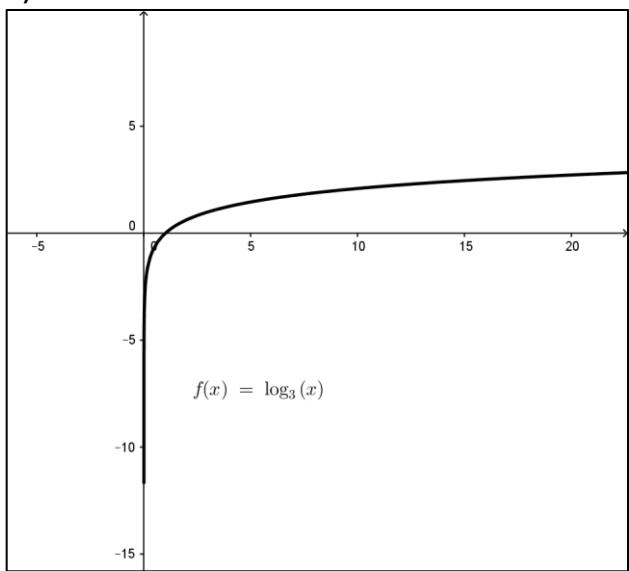
$$\begin{aligned} \log_8 64 = y &\Rightarrow 8^y = 64 \\ \Rightarrow 8^y &= 8^2 \Rightarrow y = 2 \\ \Rightarrow \log_8 64 &= 2 \end{aligned}$$

b)

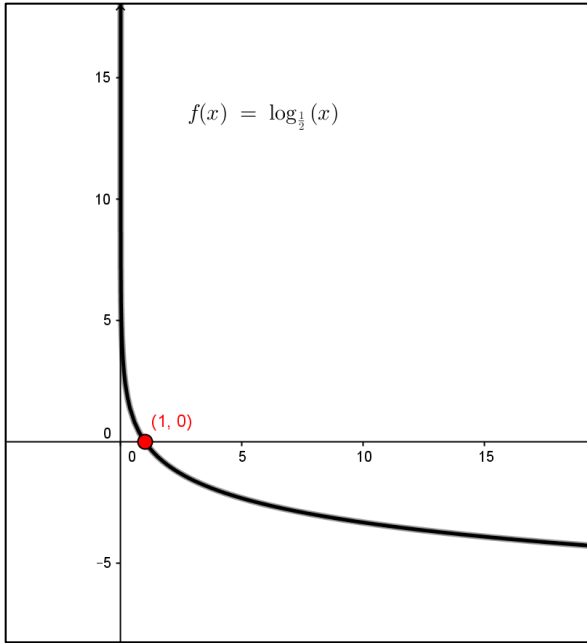
$$\begin{aligned} \log_{11} \sqrt{11} = y &\Rightarrow 11^y = 11^{\frac{1}{2}} \Rightarrow y = \frac{1}{2} \\ \log_{11} \sqrt{11} &= \frac{1}{2} \end{aligned}$$

c)

$$\begin{aligned} \log_{25} 5 = y & \\ \Rightarrow 25^y = 5 &\Rightarrow 5^{2y} = 5 \\ \Rightarrow 2y = 1 &\Rightarrow y = \frac{1}{2} \end{aligned}$$

d)	$\log_2 \frac{1}{8} = \log_2 2^{-3} = y \Rightarrow 2^y = 2^{-3} \Rightarrow y = -3$
	<p style="text-align: center;">اتحقق من فهمي مثال 4 صفحة 76</p>
a)	$\log_2 64 = \log_2 2^6 = 6$
b)	$\log_{19} \sqrt{19} = \log_{19} 19^{\frac{1}{2}} = \frac{1}{2}$
c)	$\log_{18} 18 = 1$
d)	$4^{\log_4 15} = 15$
	<p style="text-align: center;">اتحقق من فهمي مثال 5 صفحة 78</p>
a)	$\log 1200 \approx 3.08$
b)	$\log(6.3 \times 10^5) \approx 5.8$
c)	$\ln 0.00025 \approx -8.29$
	<p style="text-align: center;">اتحقق من فهمي مثال 6 صفحة 80</p>
a)	<div style="display: flex; align-items: flex-start;"> <div style="flex: 1;">  <p style="text-align: center;"><math>f(x) = \log_3(x)</math></p> </div> <div style="flex: 1; padding-left: 20px;"> <p>المجال في الفترة <math>(0, \infty)</math>  المدى الأعداد الحقيقية <math>R</math>  الإقتران متزايد  ليس له مقطع <math>y</math>  مقطع <math>x</math> هو <math>x=1</math>  له خط تقارب رأسي هو محور <math>y</math></p> </div> </div>

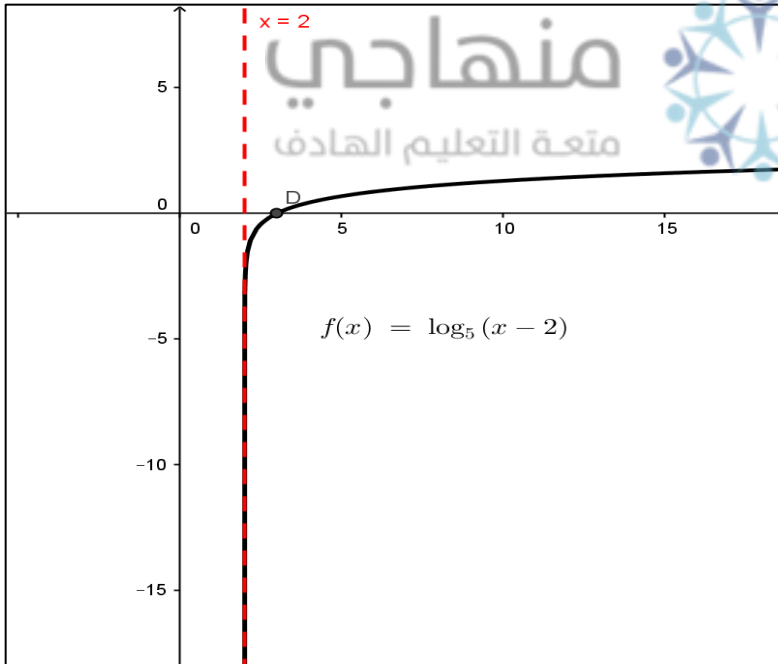
b)



المجال في الفترة  $(0, \infty)$   
المدى الاعداد الحقيقية  $R$   
الإقتران متناقص  
ليس له مقطع  $y$   
مقطع  $x$  هو  $x=1$   
له خط تقارب رأسي هو محور  
 $y$

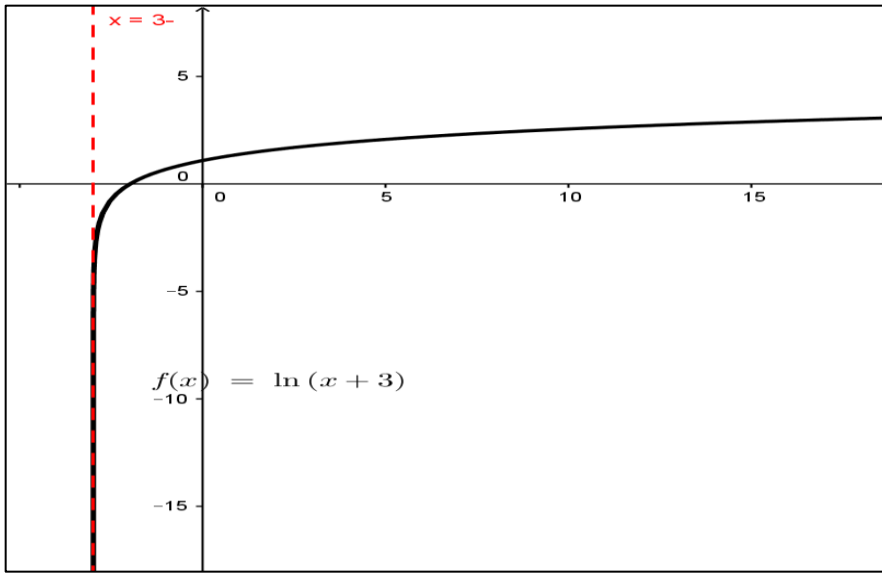
اتحقق من فهمي مثال 7 صفحة 82

a)

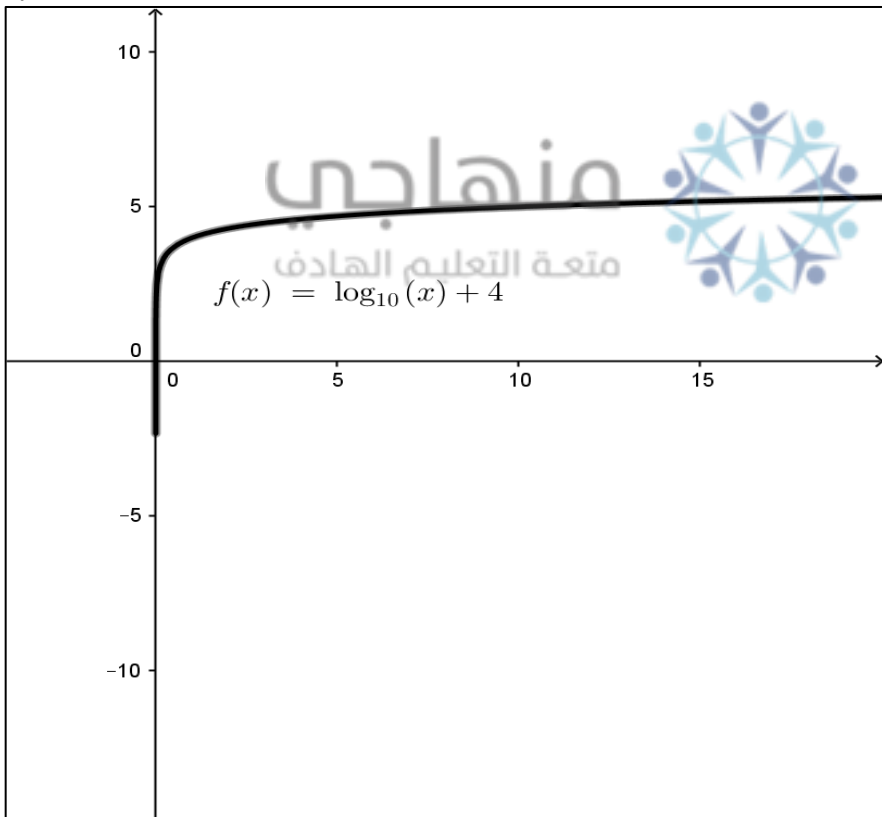


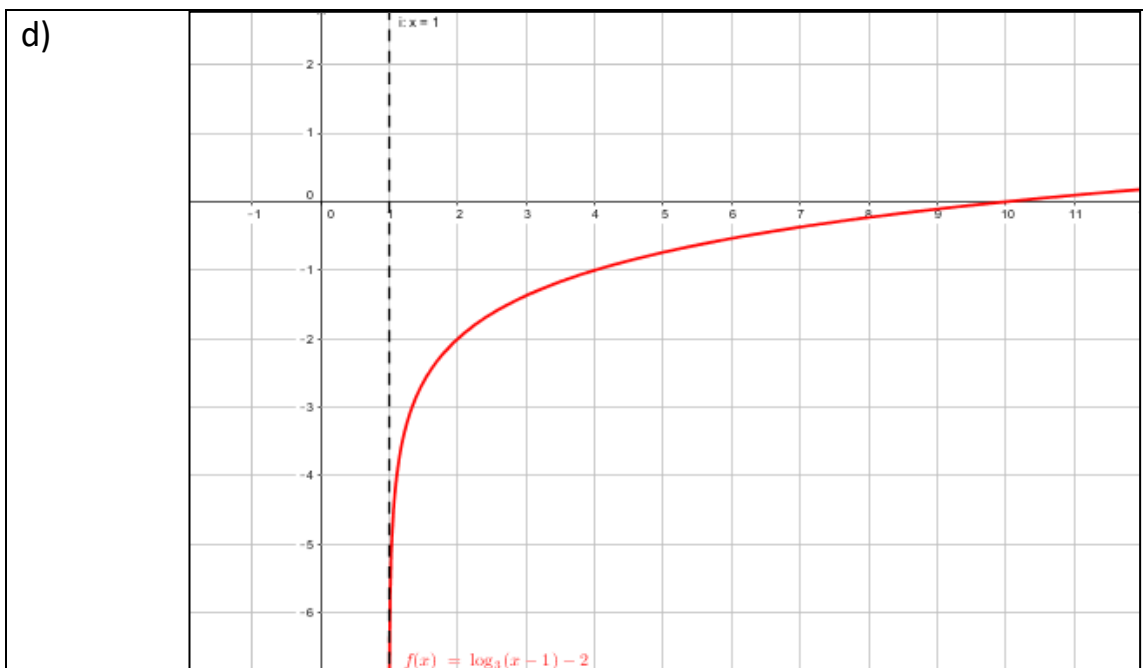
منهاجي  
متعة التعليم الهادف

b)



c)





اتحقق من فهمي مثال 8 صفحة 83

$$p^H = -\log[H^+]$$

$$p^H = -\log(5.88 \times 10^{-7}) \approx 6.23$$

إذن الشامبو حمضي

أتدرب وأحل المسائل صفحة 84

1)

$$\log_4 1025 = 5 \Leftrightarrow 4^5 = 1025$$

2)

$$\log_3 729 = 6 \Leftrightarrow 3^6 = 729$$

3)

$$\log_8 2 = \frac{1}{3} \Leftrightarrow 8^{\frac{1}{3}} = 2$$

4)

$$\log_{25} 5 = 0.5 \Leftrightarrow 25^{0.5} = 5$$

5)

$$6^3 = 216 \Leftrightarrow \log_6 216 = 3$$

6)

$$3^{-2} = \frac{1}{9} \Leftrightarrow \log_3 \frac{1}{9} = -2$$

7)

$$5^4 = 625 \Leftrightarrow \log_5 625 = 4$$

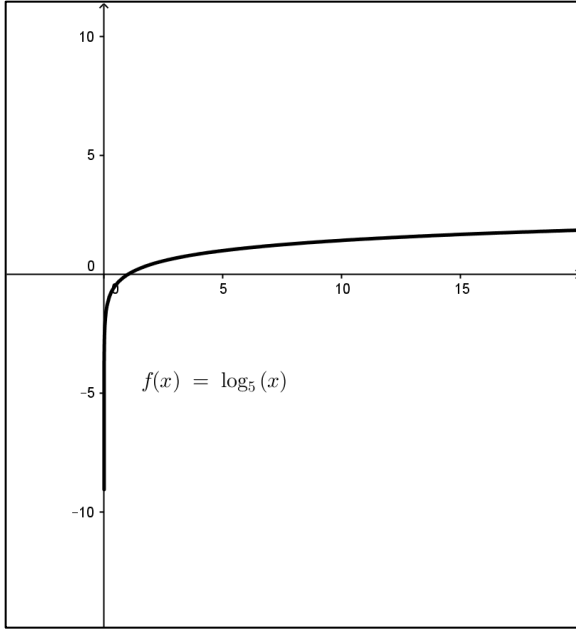
8)

$$2^{-3} = 0.125 \Leftrightarrow \log_2 0.125 = -3$$



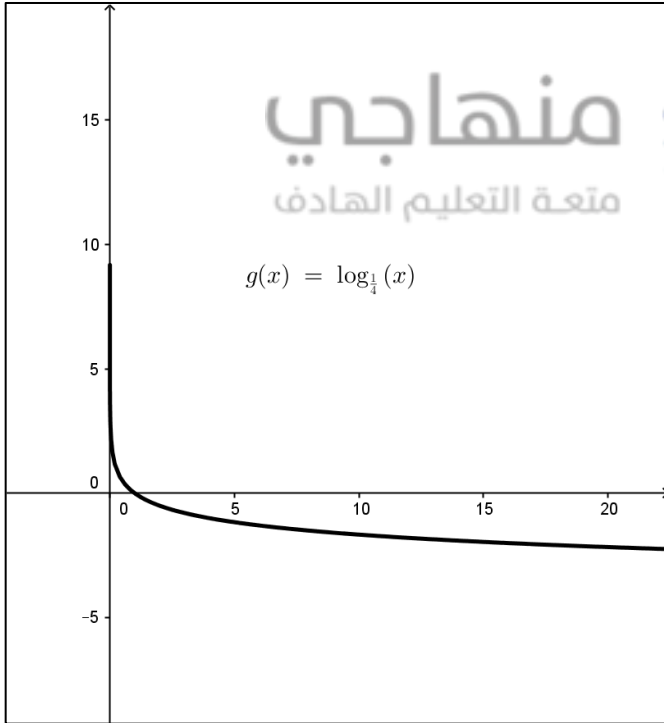
9)	$\log_2 256 = \log_2 2^8 = 8$
10)	$\begin{aligned} \log_9 27 = y &\Rightarrow 9^y = 27 \\ 3^{2y} = 3^3 &\Rightarrow 2y = 3 \\ \Rightarrow y &= \frac{3}{2} \end{aligned}$
11)	$\log 0.1 = \log 10^{-1} = -1$
12)	$\log_7 1 = 0$
13)	$e^{\ln \frac{1}{2}} = \frac{1}{2}$
14)	$\log_y \sqrt[3]{y} = \log_y y^{\frac{1}{3}} = \frac{1}{3}$
15)	$\log(0.1 \times 10^{-6}) = \log(10^{-1} \times 10^{-6}) = -7$
16)	$6^{\log_6 2.8} = 2.8$
17)	$\log \frac{1}{32} \approx -1.5$
18)	$\log(2.77 \times 10^{-4}) \approx -3.6$
19)	$\ln 0.000062 \approx -9.7$
20)	$\ln \pi \approx 1.1$

21)



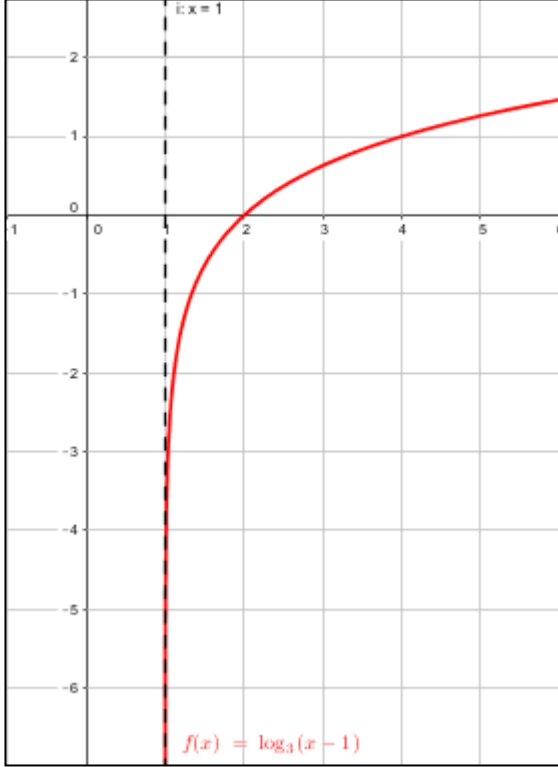
المجال في الفترة  $(0, \infty)$   
المدى الاعداد الحقيقية  $R$   
الإقتران متزايد  
ليس له مقطع  $y$   
مقطع  $x$  هو  $x=1$   
له خط تقارب رأسي هو محور  $y$

22)



المجال في الفترة  $(0, \infty)$   
المدى الاعداد الحقيقية  $R$   
الإقتران متناقص  
ليس له مقطع  $y$   
مقطع  $x$  هو  $x=1$   
له خط تقارب رأسي هو محور  $y$

23)



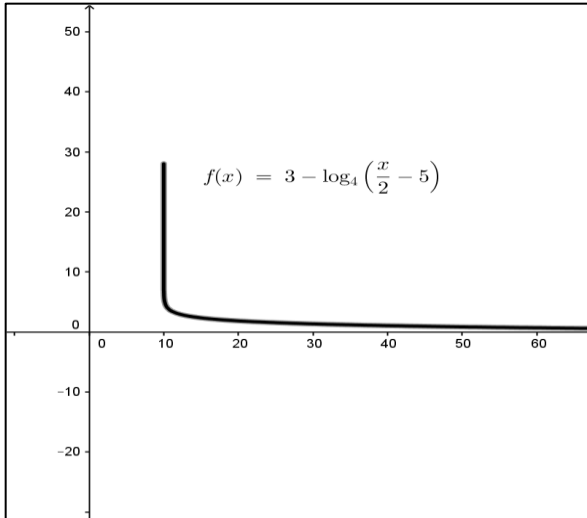
المجال في الفترة  $(1, \infty)$   
 المدى الاعداد الحقيقية  $R$   
 الإقتران متزايد  
 ليس له مقطع  $y$   
 مقطع  $x$  هو  $x=2$   
 له خط تقارب رأسي هو  $x=1$

24)



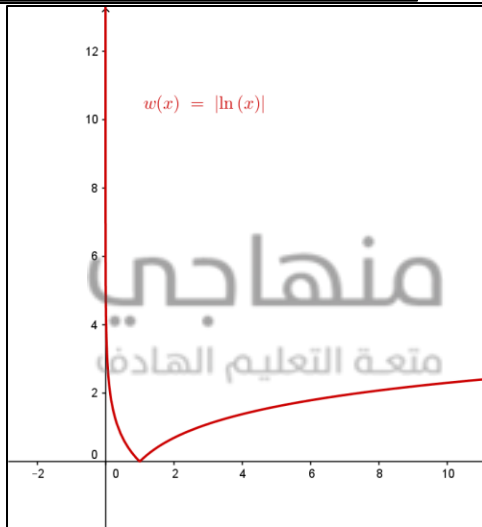
المجال في الفترة  $(-0.5, \infty)$  المدى  
 الاعداد الحقيقية  $R$   
 الإقتران متزايد  
 له مقطع  $y$  هو  $y=8$   
 مقطع  $x$  هو  $x=-0.4$   
 له خط تقارب رأسي هو  $x=-0.5$

25)



المجال في الفترة  $(10, \infty)$  المدى  
 الأعداد الحقيقية  $R$   
 الإقتران متناقص  
 ليس له مقطع  $y$   
 ليس له مقطع  $x$   
 له خط تقارب رأسي هو  $x=10$

26)



المجال في الفترة  $(0, \infty)$   
 المدى الأعداد الحقيقية  $R$   
 الإقتران متناقص في الفترة  $(0, 1)$   
 ومنتزايد في الفترة  $(1, \infty)$   
 ليس له مقطع  $y$   
 مقطع  $x$  هو  $x=1$   
 له خط تقارب رأسي هو محور  $y$

27)

$$S(t) = 78 - 15 \log(t + 1)$$

$$S(0) = 78 - 15 \log 1 = 78$$

28)

$$S(t) = 78 - 15 \log(t + 1)$$

$$S(4) = 78 - 15 \log(5) \approx 67.5$$

29)

$$f(x) = \log_a x$$

$$2 = \log_a 2$$

$$a^2 = 2 \Rightarrow a = \sqrt{2}$$

30)

$$f(x) = \log_c x$$

$$-4 = \log_c \frac{1}{2}$$

$$\Rightarrow c^{-4} = \frac{1}{2} \Rightarrow c^4 = 2 \Rightarrow c = 2^{\frac{1}{4}}$$

31)

$$A = 2 - \log 100T$$

$$A = 2 - \log(100 \times 0.72) \approx 0.143$$

32)

$$A = 2 - \log 100T$$

$$0.174 = 2 - \log 100T$$

$$\log 100T = 2 - 0.174 = 1.826$$

$$\Rightarrow 100T = 10^{1.826} \Rightarrow T = \frac{10^{1.826}}{100} \approx 0.67$$

33)

التمثيل البياني له هو الرسم b لأن مجاله في الفترة  $(1, \infty)$

34)

التمثيل البياني له هو الرسم c لأن مقطع x هو  $x=3$  والاقتران متزايد

35)

التمثيل البياني له هو الرسم a لأن مقطع x له هو  $x=3$  والاقتران متناقص

36)

مقطع x عندما  $f(x)=0$

$$f(x) = \log(x - k)$$

$$0 = \log(x - k)$$

$$x - k = 1 \Rightarrow x = k + 1$$

37)

عبارة صحيحة لأن الاقتران اللوغاريتمي يجب أن يكون ما بداخله قيمة موجبة

38)

عبارة صحيحة لأن مدى الاقتران اللوغاريتمي دائما الاعداد الحقيقية

39)

عبارة صحيحة لأن مجال الاقتران يكون دائما محدد بنقطة بداية وتشكل خط التقارب الرأسي للاقتران

40)

$$\log_5 28 = h \Rightarrow 5^h = 28 \Rightarrow h > 2$$

$$\log_6 32 = y \Rightarrow 6^y = 32 \Rightarrow y < 2$$

$$\log_7 40 = z \Rightarrow 7^z = 40 \Rightarrow z < 2$$

إذن الاقتران الاكبر هو  $\log_5 28$

الدرس الثالث: قوانين اللوغاريتمات

اتحقق من فهمي مثال 1 صفحة 88

a)

$$\log_b 12 = \log_b 3 \times 4 = \log_b 3 + \log_b 4 \\ \approx 0.68 + 0.86 = 1.54$$

b)

$$\log_b 9 = \log_b 3^2 \\ = 2 \log_b 3 \approx 2 \times 0.68 = 1.36$$

c)

$$\log_b 0.75 = \log_b \frac{3}{4} \\ = \log_b 3 - \log_b 4 \\ \approx 0.68 - 0.86 = -0.18$$

d)

$$\log_b \frac{1}{3} = \log_b 1 - \log_b 3 \\ \approx 0 - 0.68 = -0.68$$

اتحقق من فهمي مثال 2 صفحة 89

a)

$$\log_3 a^2 bc^3 \\ = \log_3 a^2 + \log_3 b + \log_3 c^3 \\ = 2 \log_3 a + \log_3 b + 3 \log_3 c$$

b)

$$\ln a^2 \sqrt{a-1} = \ln a^2 + \ln(a-1)^{\frac{1}{2}} \\ = 2 \ln a + \frac{1}{2} \ln(a-1)$$

c)

$$\log \left( \frac{x^2 - 1}{x^3} \right) = \log(x^2 - 1) - \log x^3 \\ = \log(x^2 - 1) - 3 \log x$$

d)

$$\log_b \left( \frac{x^2 y}{b^3} \right) = \log_b x^2 + \log_b y - \log_b b^3 \\ = 2 \log_b x + \log_b y - 3$$

اتحقق من فهمي مثال 3 صفحة 91

a)

$$\ln 25 + \ln 4 = \ln 25 \times 4 = \ln 100 = 2 \ln 10$$

b)

$$\begin{aligned}\ln(3x + 1) - \ln(3x^2 - 5x - 2) \\ &= \ln\left(\frac{3x + 1}{3x^2 - 5x - 2}\right) \\ &= \ln\left(\frac{3x + 1}{(3x + 1)(x - 2)}\right) \\ &= \ln\left(\frac{1}{x - 2}\right) = \ln 1 - \ln(x - 2) \\ &= -\ln(x - 2)\end{aligned}$$

c)

$$\begin{aligned}\frac{1}{2}(\log_2(a^2 + ab) - \log_2 a) \\ &= \frac{1}{2}(\log_2 a(a + b) - \log_2 a) \\ &= \frac{1}{2}(\log_2 a + \log_2(a + b) - \log_2 a) = \frac{1}{2}\log_2(a + b)\end{aligned}$$

d)

$$\begin{aligned}\frac{1}{3}(\log_2 x + \log_2(x - 4)) \\ &= \frac{1}{3}(\log_2 x(x - 4)) \\ &= \log_2(x^2 - 4x)^{\frac{1}{3}} \\ &= \log_2 \sqrt[3]{x^2 - 4x}\end{aligned}$$

اتحقق من فهمي مثال 4 صفحة 92

a)

$$\log_2 89 = \frac{\log 89}{\log 2} \approx 6.48$$

b)

$$\log_5 19 = \frac{\ln 19}{\ln 5} \approx 1.83$$

c)

$$\log_{\frac{1}{2}} 12 = \frac{\ln 12}{\ln \frac{1}{2}} \approx -3.58$$

d)

$$\log_8 e^2 = \frac{\ln e^2}{\ln 8} \approx \frac{2}{2.08} \approx 0.96$$

a)

$$5^x = 8$$

بأخذ اللوغاريتم للطرفين

$$\begin{aligned} \log 5^x &= \log 8 \Rightarrow x \log 5 = \log 8 \\ \Rightarrow x &= \frac{\log 8}{\log 5} \approx 1.2920 \end{aligned}$$

b)

$$4e^{2x} - 3 = 2$$

$$4e^{2x} = 5$$

$$e^{2x} = \frac{5}{4}$$

$$\ln e^{2x} = \ln 1.25$$

$$2x \approx 0.2231$$

$$x \approx 0.1116$$

c)

$$2^{x-1} = 3^{3x+2}$$

$$2^x \times 2^{-1} = 3^{3x} \times 3^2$$

$$\frac{2^x}{2} = 27^x \times 9$$

$$\left(\frac{2}{27}\right)^x = 18$$

$$x \log\left(\frac{2}{27}\right) = \log 18$$

$$x = \frac{\log 18}{\log\left(\frac{2}{27}\right)} \approx -1.8128$$

d)

$$9^x + 3^x - 20 = 0$$

بفرض  $y = 3^x$

$$y^2 + y - 20 = 0$$

$$(y + 5)(y - 4) = 0$$

$$y = -5 \Rightarrow 3^x = -5 \text{ مرفوض}$$

Or

$$y = 4 \Rightarrow 3^x = 4 \Rightarrow \log_3 4 = x$$

$$\Rightarrow x \approx 1.2619$$



اتحقق من فهمي مثال 6 صفحة 97

a)

$$\begin{aligned}5 + 2\ln x &= 4 \\ \ln x^2 &= -1 \Rightarrow x^2 = e^{-1} \\ \Rightarrow x &= e^{-\frac{1}{2}}\end{aligned}$$

b)

$$\begin{aligned}\log_5(x + 6) + \log_5(x + 2) &= 1 \\ \log_5(x + 6)(x + 2) &= 1 \\ x^2 + 8x + 12 &= 5^1 \\ x^2 + 8x + 7 &= 0 \\ (x + 1)(x + 7) &= 0 \\ x &= -7 \text{ مرفوض} \\ \text{or } x &= -1\end{aligned}$$

اتحقق من فهمي مثال 7 صفحة 98

$$\begin{aligned}A(p) &= \frac{\ln p}{-0.000121} \\ 4000 &= \frac{\ln p}{-0.000121} \\ \ln p &= -0.484 \\ p &= e^{-0.484} \approx 0.62 = 62\%\end{aligned}$$

أتدرب وأحل المسائل صفحة 98

1)

$$\log_a \frac{7}{11} = \log_a 7 - \log_a 11 \approx -0.196$$

2)

$$\log_a 77 = \log_a 7 \times 11 = \log_a 7 + \log_a 11 \approx 1.886$$

3)

$$\frac{\log_a 11}{\log_a 7} \approx 1.232$$

4)

$$\log_a \frac{1}{7} = \log_a 1 - \log_a 7 \approx 0 - 0.845 = -0.845$$

5)

$$\log_a 539 = \log_a 7^2 \times 11 = 2 \log_a 7 + \log_a 11 \approx 2.731$$

6)	$\log_7 11 = \frac{\log_a 11}{\log_a 7} \approx 1.232$
7)	$\log_a 11a^2 = \log_a 11 + 2\log_a a \approx 3.041$
8)	$\log_a \sqrt[3]{121} = \log_a 11^{\frac{2}{3}} = \frac{2}{3}\log_a 11 \approx 0.694$
9)	$\log_a \left(\frac{xy}{z}\right) = \log_a x + \log_a y - \log_a z$
10)	$\log_a (xyz) = \log_a x + \log_a y + \log_a z$
11)	$\ln \sqrt[3]{5x^2} = \ln 5^{\frac{1}{3}} + \ln x^{\frac{2}{3}} = \frac{1}{3}\ln 5 + \frac{2}{3}\ln x \approx 0.536 + \frac{2}{3}\ln x$
12)	$\log \sqrt{\frac{m^8 n^{12}}{a^3 b^5}} = \log \frac{m^4 n^6}{a^{\frac{3}{2}} b^{\frac{5}{2}}}$ $= 4\log m + 6\log n - \frac{3}{2}\log a - \frac{5}{2}\log b$
13)	$\ln 75 + \ln 2 = \ln 150$
14)	$\log x + \log(x^2 - 1) - \log 7 - \log(x + 1)$ $= \log \left(\frac{x(x^2 - 1)}{7(x + 1)}\right) = \log \left(\frac{x(x + 1)(x - 1)}{7(x + 1)}\right)$ $= \log \left(\frac{x(x - 1)}{7}\right) = \log \left(\frac{x^2 - x}{7}\right)$
15)	$\log_a \frac{a}{\sqrt{x}} - \log_a \sqrt{ax}$ $= \log_a a - \log_a x^{\frac{1}{2}} - \log_a a^{\frac{1}{2}} - \log_a x^{\frac{1}{2}}$ $= 1 - 2\log_a x^{\frac{1}{2}} - \frac{1}{2}$ $= 1 - \log_a x - \frac{1}{2} = \frac{1}{2} - \log_a x$

16)

$$\begin{aligned}
& \frac{2}{3}(\ln(x^2 - 9) - \ln(x + 3) + \ln(x + y)) \\
&= \frac{2}{3}(\ln(x - 3) + \ln(x + 3) - \ln(x + 3) + \ln(x + y)) \\
&= \frac{2}{3}(\ln(x - 3) + \ln(x + y)) \\
&= \ln \sqrt[3]{(x^2 - 3x - 3y + xy)^2}
\end{aligned}$$

17)

$$\log_4 17 = \frac{\log 17}{\log 4} \approx 2.0437$$

18)

$$\log_4 \frac{1}{100} = \frac{\ln 0.01}{\ln 4} \approx -3.3219$$

19)

$$\log_9 0.0006 = \frac{\log 0.0006}{\log 9} \approx -3.3763$$

20)

$$\log_8 120 = \frac{\log 120}{\log 8} \approx 2.3022$$

21)

$$\begin{aligned}
H &= 15500(5 - \log p) \\
8850 &= 15500(5 - \log p) \\
0.57 &= 5 - \log p \\
\log p &= 5 - 0.57 \\
\log p &= 4.43 \Rightarrow p = 10^{4.43} \approx 26915.35
\end{aligned}$$

22)

$$\begin{aligned}
5^{x+2} &= 4^{1-x} \\
\Rightarrow 5^x \times 5^2 &= \frac{4^1}{4^x} \\
\Rightarrow 5^x \times 4^x \times 25 &= 4 \\
\Rightarrow 20^x &= \frac{4}{25} \\
\Rightarrow \ln 20^x &= \ln 0.16 \\
\Rightarrow x &= \frac{\ln 0.16}{\ln 20} \approx -0.6117
\end{aligned}$$

23)

$$e^x + e^{-x} - 6 = 0$$

بالضرب في  $e^x$ 

$$e^{2x} + 1 - 6e^x = 0$$

بفرض  $y = e^x$ 

$$y^2 - 6y + 1 = 0$$

$$y = \frac{6 \pm \sqrt{32}}{2}$$

$$y = 3 \pm 2\sqrt{2}$$

$$e^x = 3 + 2\sqrt{2} \Rightarrow x = \ln(3 + 2\sqrt{2}) \approx 1.7627$$

or

$$e^x = 3 - 2\sqrt{2} \Rightarrow x = \ln(3 - 2\sqrt{2}) \approx -1.7627$$

24)

$$3^{x^2+4x} = \frac{1}{27}$$

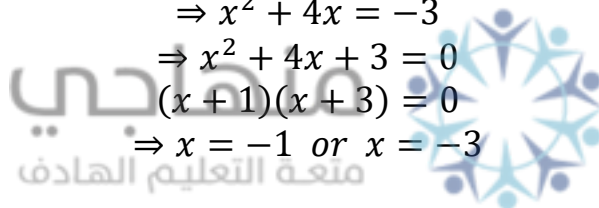
$$\Rightarrow 3^{x^2+4x} = 3^{-3}$$

$$\Rightarrow x^2 + 4x = -3$$

$$\Rightarrow x^2 + 4x + 3 = 0$$

$$(x+1)(x+3) = 0$$

$$\Rightarrow x = -1 \text{ or } x = -3$$



25)

$$25^x - 3(5^x) + 2 = 0$$

$$\Rightarrow 5^{2x} - 3(5^x) + 2 = 0$$

$$\Rightarrow (5^x - 2)(5^x - 1) = 0$$

$$5^x = 2 \Rightarrow \log_5 2 = x$$

$$\Rightarrow x = \frac{\log 2}{\log 5} \approx 0.4307$$

or

$$5^x = 1 \Rightarrow x = 0$$

26)

$$\log(x+5) - \log(x-3) = \log 2$$

$$\log\left(\frac{x+5}{x-3}\right) = \log 2$$

$$\frac{x+5}{x-3} = 2$$

$$x+5 = 2x-6 \Rightarrow x = 11$$

27)

$$\begin{aligned}\ln(x+8) + \ln(x-1) &= 2\ln x \\ \ln(x+8)(x-1) &= \ln x^2 \\ (x+8)(x-1) &= x^2 \\ x^2 + 7x - 8 &= x^2 \Rightarrow 7x = 8 \Rightarrow x = \frac{8}{7}\end{aligned}$$

28)

$$\begin{aligned}\log_3(\log_4 x) &= 0 \Rightarrow \log_4 x = 3^0 \\ &\Rightarrow \log_4 x = 1 \Rightarrow x = 4\end{aligned}$$

29)

$$\begin{aligned}\ln x^2 &= (\ln x)^2 \\ 2\ln x - (\ln x)^2 &= 0 \\ \ln x(2 - \ln x) &= 0 \\ \Rightarrow \ln x = 0 &\Rightarrow x = 1 \\ &\text{or} \\ \ln x = 2 &\Rightarrow x = e^2\end{aligned}$$

30)

$$\begin{aligned}2\log 50 &= 3\log 25 + \log(x-2) \\ 2(\log 5 + \log 10) &= 3\log 5^2 + \log(x-2) \\ 2\log 5 + 2 &= 6\log 5 + \log(x-2) \\ 2 &= 4\log 5 + \log(x-2) \\ \log(x-2)(5^4) &= 2 \\ (x-2)(625) &= 10^2 \\ 625x - 1250 &= 100 \Rightarrow x = \frac{1350}{625} = 2.16\end{aligned}$$

31)

$$\begin{aligned}T &= 27 + 219e^{-0.032t} \\ 100 &= 27 + 219e^{-0.032t} \\ 73 &= 219e^{-0.032t} \\ \frac{1}{3} &= e^{-0.032t} \Rightarrow \ln \frac{1}{3} = -0.032t \Rightarrow t = \frac{\ln \frac{1}{3}}{-0.032} \approx 34.332\end{aligned}$$

32)

$$7e^{3k} - 7e^{-3k} - 48 = 0$$

بالضرب في  $e^{3k}$ 

$$7e^{6k} - 7 - 48e^{3k} = 0$$

بفرض  $y = e^{3k}$ 

$$7y^2 - 48y - 7 = 0$$

$$y = \frac{48 \pm \sqrt{2108}}{14}$$

$$e^{3k} = \frac{48 + \sqrt{2108}}{14} \Rightarrow e^{3k} \approx 6.7 \Rightarrow 3k = \ln 6.7 \Rightarrow k \approx 0.634$$

or

$$e^{3k} = \frac{48 - \sqrt{2108}}{14} \Rightarrow e^{3k} \approx 0.15 \Rightarrow 3k = \ln 0.15 \Rightarrow k \approx -0.634$$

33)

$$|2^{x^2} - 8| = 3$$

$$2^{x^2} - 8 = 3 \quad \text{or} \quad 2^{x^2} - 8 = -3$$

$$2^{x^2} - 8 = 3 \Rightarrow 2^{x^2} = 11 \Rightarrow x^2 \log 2 = \log 11 \Rightarrow x^2 \approx 3.459 \Rightarrow x \approx 1.86$$

or

$$2^{x^2} - 8 = -3 \Rightarrow 2^{x^2} = 5 \Rightarrow x^2 \log 2 = \log 5 \Rightarrow x^2 \approx 2.322 \Rightarrow x \approx 1.52$$

34)

$$\log_3 x = k \log_2 x$$

$$\frac{\log x}{\log 3} = k \frac{\log x}{\log 2}$$

$$\Rightarrow k = \left( \frac{\log x}{\log 3} \right) \left( \frac{\log 2}{\log x} \right) \Rightarrow k = \frac{\log 2}{\log 3} \approx 0.6309$$

35)

$$f(x) = e^x - e^{-x}$$

$$f(x) = y$$

$$\Rightarrow y = e^x - e^{-x}$$

$$e^x(y) = e^{2x} - 1$$

$$\Rightarrow y = \frac{e^{2x} - 1}{e^x}$$

$$\Rightarrow \ln y = \ln \left( \frac{e^{2x} - 1}{e^x} \right)$$

$$\Rightarrow \ln y = \ln(e^{2x} - 1) - \ln(e^x)$$

$$\Rightarrow \ln y = 2x - 1 - x$$

$$\Rightarrow \ln y = x - 1$$

$$\Rightarrow x = \ln y + 1$$

$$\Rightarrow f^{-1}(x) = \ln x + 1$$

اختبار نهاية الوحدة صفحة 100

1) a	2) b	3) a	4) b	5) d	6) d
7)	$\log_3 15 = \log_3 5 + \log_3 3 = c + 1$				
8)	$\log_3 0.2 = \log_3 \frac{1}{5} = \log_3 1 - \log_3 5 = -c$				
9)	$\log_3 125 = \log_3 5^3 = 3c$				
10)	$\log_9 5 = \frac{\log_3 5}{\log_3 9} = \frac{c}{2}$				
11)	$\frac{1}{4} \log_3(x-3) = \log_3 6$ $\log_3(x-3)^{\frac{1}{4}} = \log_3 6$ $\Rightarrow (x-3)^{\frac{1}{4}} = 6$ $\Rightarrow x-3 = 1296 \Rightarrow x = 1299$				
12)	$\log_4(x+3) + \log_4(x-3) = 2$ $\Rightarrow \log_4(x+3)(x-3) = 2$ $\Rightarrow x^2 - 9 = 4^2 \Rightarrow x^2 = 25 \Rightarrow x = 5$				
13)	$e^x + e^{-x} = 5 \Rightarrow e^{2x} + 1 = 5e^x$ <p align="right"><i>بفرض <math>y = e^x</math></i></p> $\Rightarrow y^2 - 5y + 1 = 0$ $\Rightarrow y = \frac{5 \pm \sqrt{21}}{2}$ $\Rightarrow y \approx 4.791 \quad \text{or} \quad y \approx 0.209$ $\Rightarrow e^x = 4.791 \Rightarrow x = \ln 4.791 \approx 1.57$ <p align="center"><i>or</i></p> $\Rightarrow e^x = 0.209 \Rightarrow x = \ln 0.209 \approx -1.57$				
14)	$27 = 9^{x^2} \times 3^{5x}$ $3^3 = 3^{2x^2} \times 3^{5x}$ $\Rightarrow 2x^2 + 5x = 3$				

$$(2x - 1)(x + 3) = 0 \Rightarrow x = \frac{1}{2} \text{ or } x = -3$$

15)

$$T = 18 + 12e^{0.002t}$$

$$T = 18 + 12e^{0.002 \times 5}$$

$$T \approx 30.121$$

16)

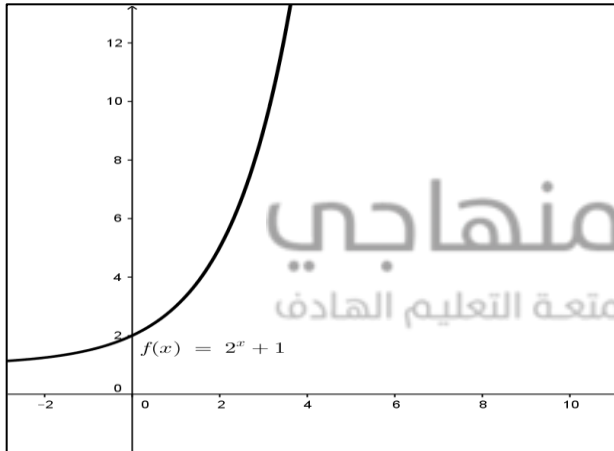
$$T = 18 + 12e^{0.002t}$$

$$50 = 18 + 12e^{0.002t}$$

$$32 = 12e^{0.002t} \Rightarrow e^{0.002t} \approx 2.7$$

$$\Rightarrow e^{0.002t} = e \Rightarrow t = \frac{1}{0.002} = 500$$

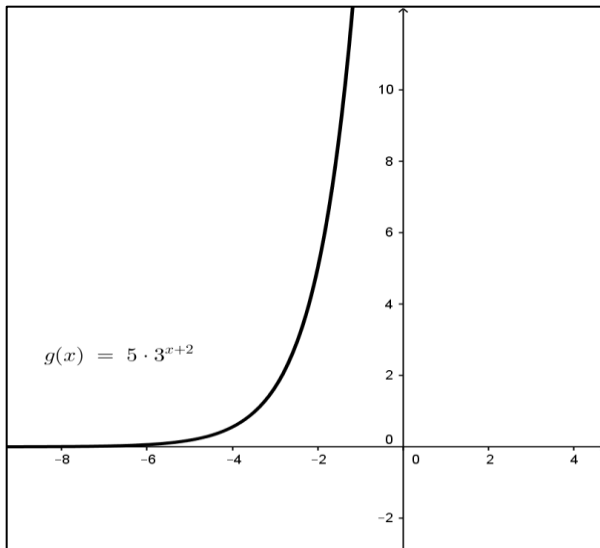
17)



المجال الأعداد الحقيقية  $\mathbb{R}$   
المدى  $(1, \infty)$



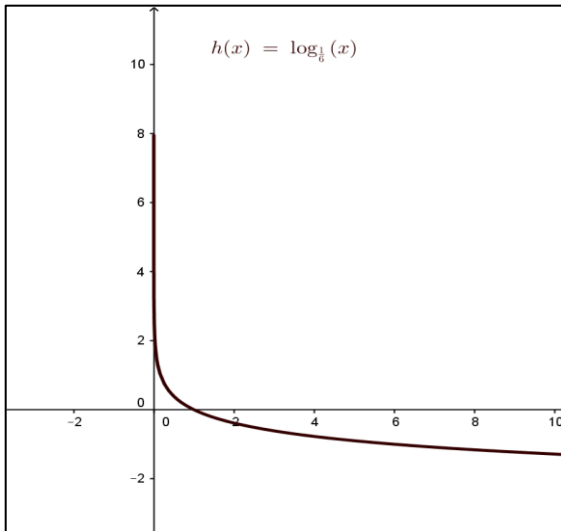
18)



المجال الأعداد الحقيقية  $\mathbb{R}$   
المدى  $(0, \infty)$

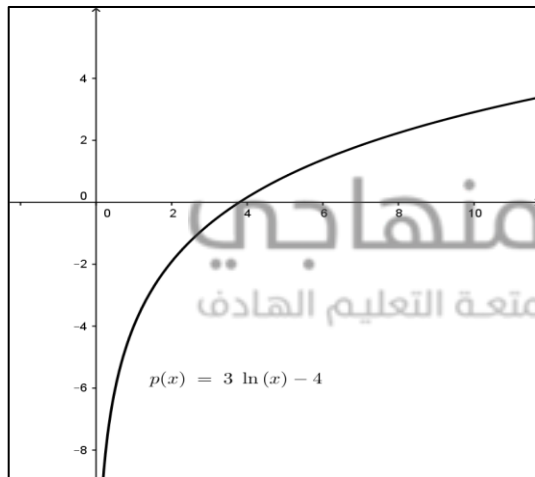


19)



المجال  $(0, \infty)$   
المدى الأعداد الحقيقية  $\mathbb{R}$

20)



المجال  $(0, \infty)$   
المدى الأعداد الحقيقية  $\mathbb{R}$



21)

$$L = 10 \log\left(\frac{I}{I_0}\right)$$

$$L = 10 \log\left(\frac{5500 I_0}{I_0}\right)$$

$$L = 10 \log 5500 \approx 37.404$$

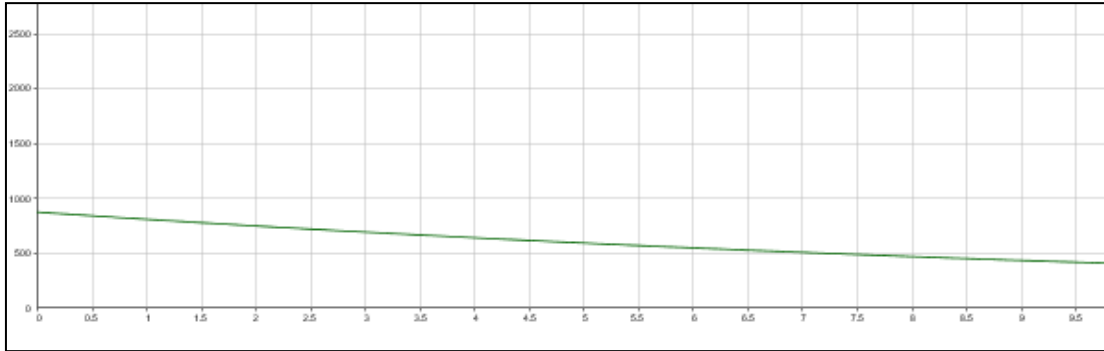
22)

$$L = 10 \log\left(\frac{I}{I_0}\right)$$

$$32 = 10 \log\left(\frac{I}{I_0}\right)$$

$$3.2 = \log\left(\frac{I}{I_0}\right) \Rightarrow 10^{3.2} = \frac{I}{I_0} \Rightarrow I = 10^{3.2} I_0$$

23)



24)

$$N = 873e^{-0.078t}$$

$$N = 873e^{-0.078 \times 10} \approx 400$$

25)

$$\log_a \sqrt{xyz} = \frac{1}{2} (\log_a x + \log_a y + \log_a z)$$

26)

$$\ln \left( \frac{2}{3x^3y} \right) = \ln 2 - \ln 3 - 3 \ln x - \ln y$$

27)

$$\ln \left( \frac{x}{\sqrt{x^2 + 1}} \right) = \ln x - \frac{1}{2} \ln(x^2 + 1)$$

28)

$$\log_a x \sqrt{y} = \log_a x + \frac{1}{2} \log_a y$$

29)

$$2 \log x - \log(x + 1) = \log \left( \frac{x^2}{x + 1} \right)$$

30)

$$\begin{aligned} & \log(x^2 - 5x - 14) - \log(x^2 - 4) \\ &= \log \left( \frac{x^2 - 5x - 14}{x^2 - 4} \right) \\ &= \log \left( \frac{(x - 7)(x + 2)}{(x - 2)(x + 2)} \right) = \log \left( \frac{x - 7}{x - 2} \right) \end{aligned}$$

31)

$$\begin{aligned} & 4 \log_b x - 2 \log_b 6 - \frac{1}{2} \log_b y \\ &= \log_b x^4 - \log_b 36 - \log_b \sqrt{y} \\ & \log_b \left( \frac{x^4}{36\sqrt{y}} \right) \end{aligned}$$

32) b

33) a

34) c

منهاجي  
متعة التعليم الهادف

