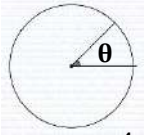




1- عند تحويل الزاوية $(\frac{-11\pi}{4})$ الى القياس بالدرجات يساوي

- a) -450° b) -135° c) -495° d) 135°

2- في الشكل المجاور قياس θ

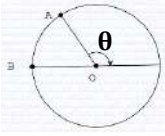


- a) $\theta = 1 \text{ rad}$ او 180° b) $\theta = \pi$ او 57.3° c) $\theta = 1 \text{ rad}$ او 57.3° d) $\theta = 1 \text{ rad}$ او $\frac{\pi}{2}$

3- الزاويتان المشتركتان في ضلع الانتهاء مع الزاوية $(\frac{2\pi}{3})$ في الوضع القياسي هما :

- a) $(\frac{4\pi}{3})$ و $(\frac{-8\pi}{3})$ b) $(\frac{-4\pi}{3})$ و $(\frac{5\pi}{3})$ c) $(\frac{-4\pi}{3})$ و $(\frac{8\pi}{3})$ d) $(\frac{\pi}{3})$ و $(\frac{4\pi}{3})$

4- في الشكل المجاور اذا كان طول القوس (AB) يساوي وحدتين و $(r=2)$ فإن قياس θ



- a) $\pi - 1$ b) $\pi + 1$ c) $\frac{\pi}{2} + 1$ d) $\frac{\pi}{2} - 1$

5- قطاع دائري اطواله بالسنتيمترات وطول قوسه يساوي عددياً مساحته ، فإن نصف قطره (r) يساوي

- a) $\frac{1}{2}$ b) 1 c) 2 d) $\sqrt{2}$

6- مساحة القطاع الذي تصنعه زاويه مركزية مقدارها (30°) هي :

- a) $6\pi \text{ cm}^2$ b) $3\pi \text{ cm}^2$ c) $2\pi \text{ cm}^2$ d) $\frac{\pi}{2} \text{ cm}^2$

7- طول قوس القطاع الدائري الذي يقابل الزاوية المركزية أعلاه هو :

- a) $\pi \text{ cm}$ b) $6\pi \text{ cm}$ c) $\frac{\pi}{6} \text{ cm}$ d) 36cm

8- دائرة نصف قطرها $(r=\sqrt{2})$ و (θ) زاويه مركزية فيها ، اذا كانت النسبة بين محيط الدائرة الى مساحتها يساوي عددياً طول القوس المقابل للزاوية المركزية (θ)

فان قياسها هو :

- a) 0.1 rad b) 0.01 rad c) 1 rad d) 10 rad

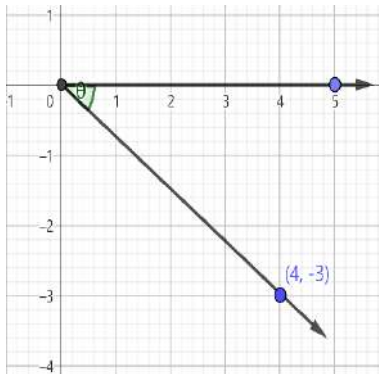
9- يتكون جزيء الماء من ذرة أوكسجين (O) تتوسط وترتبط مع ذرتين هيدروجين (H) مكونة زاوية $(\theta = \frac{7\pi}{12})$ ، فإن $(\cos \theta)$ يساوي

- a) $\cos \frac{5\pi}{12}$ b) $-\cos \frac{5\pi}{12}$ c) $\sin \frac{5\pi}{12}$ d) $-\sin \frac{5\pi}{12}$

10- قيمة $(\tan 5\pi)$ هي

- a) 1 b) -1 c) 5 d) 0

11- في الشكل المجاور قيمة $(\csc \theta)$



- a) $\frac{-5}{4}$ b) $\frac{-5}{3}$ c) $\frac{-3}{5}$ d) $\frac{5}{3}$

12- قيمة $(\tan^{-1} \sqrt{3})$ هي

- a) $\frac{\pi}{6}$ b) $\frac{-\pi}{6}$ c) $\frac{\pi}{3}$ d) $\frac{-\pi}{3}$

13- اذا كانت النقطة $(-2,3)$ تقع على ضلع انتهاء الزاوية (θ) المرسومة في الوضع القياسي ، فإن قيمة $(\cot \theta)$ هي

- a) $\frac{-2}{3}$ b) $\frac{2}{3}$ c) $\frac{3}{2}$ d) $\frac{-3}{2}$

14- للاقتران $[g(x) = 2 \tan 2x - 1]$ خط تقارب رأسي عندما $(x) =$

- a) $\frac{\pi}{2}$ b) $\frac{\pi}{4}$ c) $\frac{\pi}{8}$ d) π

15- للاقتران الجيبى $[y = -4 \cos(x + \frac{\pi}{2})]$ قيمة صغرى هي :

- a) $(\frac{-\pi}{2}, 4)$ b) $(\frac{-\pi}{2}, -4)$ c) $(\frac{\pi}{2}, 4)$ d) $(\frac{\pi}{2}, -4)$

16- الاقتران الجيبى الذي سعته (2) هو :

- a) $\frac{-1}{2} \cos(2x - \pi) + 2$ b) $-3 \cos(2x - 2\pi) + 2$
c) $-2 \cos(x - 2\pi) + 3$ d) $\frac{-1}{2} \cos(x - 4\pi) + 2$

17- الاقتران الجيبى الذي طول دورته (2π) هو :

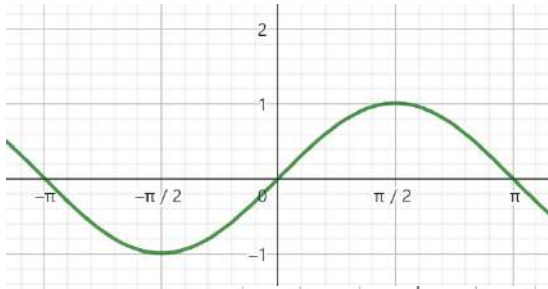
- a) $-2 \sin(x - \pi)$ b) $-2 \sin(\frac{\pi}{2} - 3x) + 2$
c) $-2 \tan x - 1$ d) $1 + \frac{1}{2} \cos 2\pi$

18- يمكن وصف التحويلات الهندسية التي طُبقت على منحنى الاقتران $[f(x) = \cos x + 9]$ لينتج منحنى الاقتران $[g(x) = \cos 6(x - \pi) + 9]$

- a) تضيق افقي بمعامل مقداره (6) وازاحة افقية نحو اليمين بمقدار (π)
b) تضيق افقي بمعامل مقداره $(\frac{1}{6})$ وازاحة رأسية للأعلى بمقدار (9)

c) تضيق افقي بمعامل مقداره $(\frac{1}{6})$ وإزاحة أفقية نحو اليمين بمقدار (π)

d) b + c



a) $\sin(\pi - x)$

b) $1 - \sin\frac{1}{2}x$

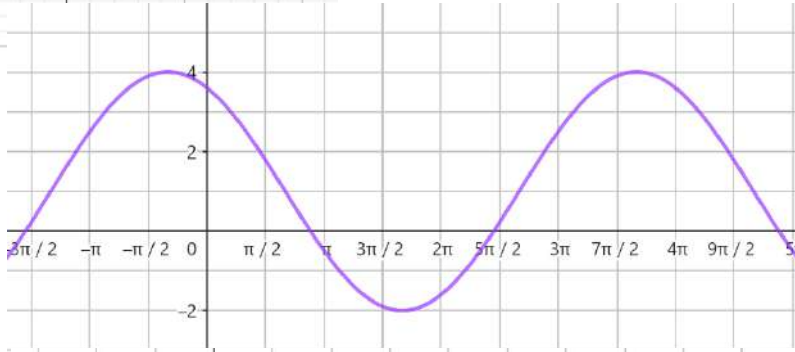
c) $1 + \sin\frac{1}{2}x$

d) $-\sin(x + \pi)$

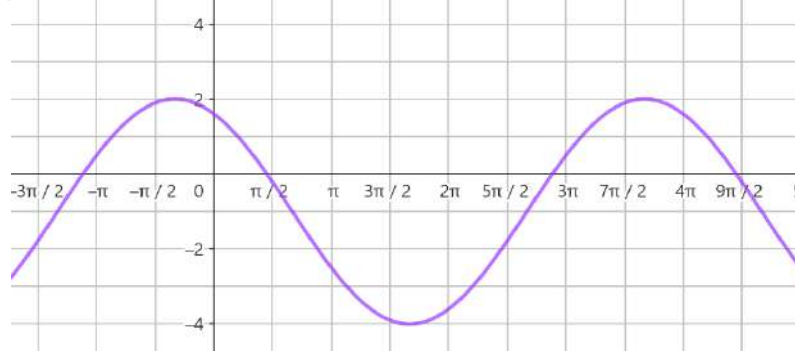
19- الرسم المقابل يمثل الاقتران الجيبي :

20- التمثيل المناسب الذي يمثل الاقتران الجيبي $[3 \cos(\frac{x}{2} - \frac{\pi}{6}) + 1]$:

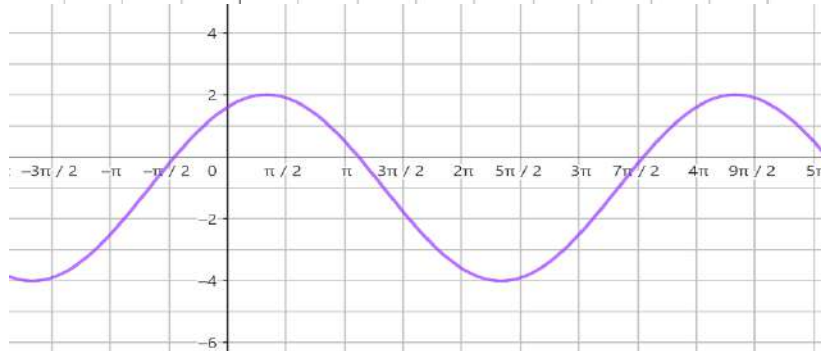
a)



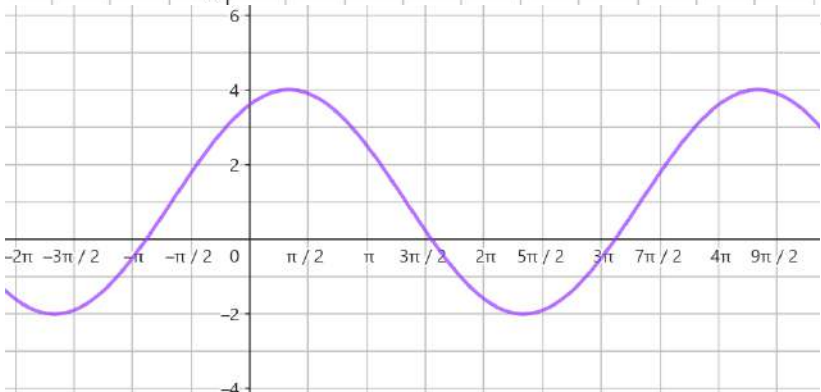
b)



c)



d)



السؤال الثاني :

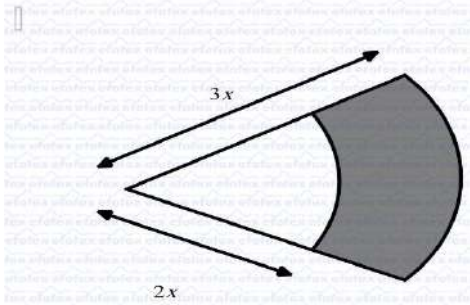
- a) استعمل العلماء عجلة المجداف لقياس سرعة التيارات المائية بناءً على معدل الدوران، إذا درت العجلة (120) دورة في الدقيقة و طول العجلة (0.6m) جد السرعة الخطية والسرعة الزاوية للمجداف بوحدة (m/s).
- b) يمثل الاقترانان $[y = 10\sin 4\pi t]$ ، $[y = 3\cos \frac{1}{2}\pi t]$ إزاحة كتلة معلقة في زنبرك بالسنتيمتر ، (t) الزمن بالثواني جد لكل منهما أقصى إزاحة وطول الدورة والتردد لحركة الكتلة.

السؤال الثالث :

- (1) إذا كان ΔABC قائم الزاوية في (A) وكان $\sin \angle ABC = \frac{1}{\sqrt{2}}$ جد
- a) أطوال اضلاع المثلث .
b) النسب المثلثية للزاوية $\angle ABC$.
- (2) إذا كان الاقتران $[\sec \theta = \frac{5}{4}]$ جد قيم النسب المثلثية للزاوية (θ) في الحالتين الآتيتين:
- a) $\sin \theta > 0$ (a)
b) $\cot \theta < 0$ (b)
- c) قياس الزاوية $m\angle ABC$.

السؤال الرابع :

- a) في الشكل المجاور قطاعين دائريين متحدين بالمركز ناتجين عن زاوية مركزية مشتركة قياسها (0.75) ومساحة المنطقة المظللة (36cm^2) جد قيمة (x) .



- b) ما قيمة المقدار $\cos \frac{\pi}{4} - \sin \frac{2\pi}{3} + \sin \pi - \tan \frac{4\pi}{3} + \sin \frac{5\pi}{3} - \sin 2\pi$

السؤال الخامس :

- (1) جد السعة والدورة والقيمة العظمى والصغرى ومعادلة خط الوسط للاقترانات الجيبية الآتية:
- a) $[\cos(1-x) + 2]$ (a)
b) $[\sin(\frac{x}{3} + \frac{\pi}{4}) - 1]$ (b)
- (2) مثل الاقتران الجيبى $[y = \cos 2(x - \frac{\pi}{2})]$

مع تحيات لؤي مرعي



الإجابات

السؤال الأول

$$1- \frac{-11\pi}{4} \times \frac{180^\circ}{\pi} = \frac{-11 \times 180^\circ}{4} = \frac{-11 \times 90^\circ}{2} = \frac{-11 \times 45^\circ}{1} = -11 \times 45^\circ = -495^\circ \quad (c)$$

$$2- \text{من الرسم نجد ان } (\theta) \text{ زاوية حادة} \quad (c)$$

$$3- \frac{2\pi}{3} + 2\pi = \frac{2\pi+6\pi}{3} = \frac{8\pi}{3}, \frac{2\pi}{3} - 2\pi = \frac{2\pi-6\pi}{3} = \frac{-4\pi}{3} \quad \text{او} \quad \frac{2\pi}{3} + \pi = \frac{2\pi+3\pi}{3} = \frac{5\pi}{3}, \frac{2\pi}{3} + \pi = \frac{2\pi-3\pi}{3} = \frac{-\pi}{3}$$

(c)

$$\left(\frac{-4\pi}{3}\right) \text{ و } \left(\frac{8\pi}{3}\right) \quad \text{او} \quad \left(\frac{-\pi}{3}\right) \text{ و } \left(\frac{5\pi}{3}\right)$$

$$4- \theta = \pi - \theta' \Rightarrow s = r\theta' \Rightarrow 2 = 2\theta' \Rightarrow \theta' = 1 \quad \therefore \theta = \pi - 1 \quad (a)$$

$$5- A=S \Rightarrow \frac{1}{2}r^2 \theta = r\theta$$

$$\Rightarrow \frac{1}{2}r^2 = r$$

$$\Rightarrow \frac{1}{2}r = 1$$

$$\Rightarrow r = 2 \quad (c)$$

$$6- A_c = \pi r^2 \Rightarrow 36\pi = \pi r^2 \Rightarrow r^2 = 36$$

$$\Rightarrow r = 6 \text{ cm}$$

$$\therefore A = \frac{1}{2}r^2 \theta, r=6 \text{ cm}, \theta=30^\circ = \frac{\pi}{6}$$

$$\Rightarrow A = \frac{1}{2}6^2 \times \frac{\pi}{6} \Rightarrow A = \frac{1}{2}36 \times \frac{\pi}{6}$$

$$\Rightarrow A = 3 \times \pi = 3\pi \text{ cm}^2 \quad (b)$$

$$7- S = r\theta \quad r=6 \text{ cm}, \theta=30^\circ = \frac{\pi}{6}$$

$$\Rightarrow S = 6 \times \frac{\pi}{6} \Rightarrow S = \pi \text{ cm} \quad (a)$$

$$8- \frac{S_c}{A_c} = S \Rightarrow \frac{2\pi r}{\pi r^2} = r\theta$$

$$\Rightarrow \theta = \frac{2}{r^2} \text{ rad}, r=\sqrt{2} \Rightarrow \theta = \frac{2}{2} = 1 \quad (c)$$

$$9- \theta = \frac{7\pi}{12}, \frac{\pi}{2} < \theta < \pi, \Rightarrow \theta' = \pi - \theta, 0 < \theta' < \frac{\pi}{2} \quad \text{الزاويتان متكاملتان}$$

$$\therefore \theta' = \pi - \frac{7\pi}{12} = \frac{12\pi-7\pi}{12} = \frac{5\pi}{12}$$

$$\therefore \cos \theta = -\cos \theta'$$

$$\therefore \cos \frac{7\pi}{12} = -\cos \frac{5\pi}{12} \quad (b)$$

$$10- \tan 5\pi = \tan \pi = 0 \quad (d)$$

$$11- \sin \theta = \frac{y}{r}, r = \sqrt{x^2 + y^2}, \Rightarrow r = \sqrt{4^2 + (-3)^2} = \sqrt{16 + 9} = \sqrt{25} = 5$$

$$\therefore \sin \theta = \frac{-3}{5}, \csc \theta = \frac{-5}{3} \quad (b)$$

$$12- \tan^{-1} \sqrt{3} = \frac{\pi}{3} \quad (c)$$

$$13- \text{النقطة } (-2,3) \text{ تقع في الربع الثاني في المستوى الاحداثي}$$

$$\tan \theta = \frac{y}{x}, (x,y) (-2,3) \Rightarrow \cot = \frac{x}{y} = \frac{-2}{3} \quad (a)$$

$$14- g(x) = 2 \tan 2x - 1$$

$$\therefore 2x = \frac{\pi}{2} \Rightarrow x = \frac{\pi}{4} \quad (b)$$

$$15- [y = -4 \cos(x + \frac{\pi}{2})]$$

$$|-4| = 4, d=0 \Rightarrow \min_v = -1 \times |a| + d \therefore \min_v = -4 + 0 = -4$$

نعوض قيمة y في الاقتران وينتج

$$-4 = -4 \cos(x + \frac{\pi}{2})$$

$$\Rightarrow 1 = \cos(x + \frac{\pi}{2}) \Rightarrow x + \frac{\pi}{2} = 0 \Rightarrow x = -\frac{\pi}{2}$$

$$\therefore \min_v \left(-\frac{\pi}{2}, -4\right) \quad (b)$$

$$16- c) -2 \cos(x - 2\pi) + 3$$

$$|a| = \text{السعة}$$

$$17- a) -2 \sin(x - \pi), \frac{2\pi}{|b|} = \text{طول الدورة}$$

18- التحويلات الهندسية التي طُبقت على منحنى الاقتران $f(x) = \cos x + 9$ لينتج منحنى الاقتران $g(x) = \cos 6(x - \pi) + 9$

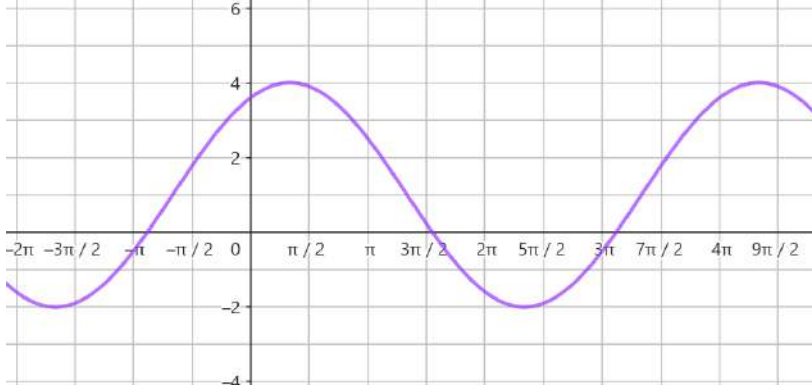
$$g(x) = \cos 6(x - \pi) + 9 \Rightarrow g(x) = \cos(6x - 6\pi) + 9$$

تضيق افقي بمعامل مقداره $(\frac{1}{6})$ وازاحة رأسية للاعلى بمقدار (9) وازاحة افقية نحو اليمين بمقدار (π)

d) b + c

19-d) $-\sin(x + \pi)$

20-d)



السؤال الثاني

a) درات العجله (120) دورة في الدقيقة و طول العجلة (0.6m)

$$v = \frac{S}{t}, S = r\theta, r=0.6m, \theta = 120 \times 2\pi = 240\pi, t=60s$$

$$\therefore v = \frac{r\theta}{t} = \frac{0.6 \times 240\pi}{60} = 2.4\pi \text{ m/s}$$

$$\omega = \frac{\theta}{t} = \frac{240\pi}{60} = 4\pi \text{ m/s}$$

b) $[y = 10\sin 4\pi t] \Rightarrow y = a \sin \omega t \therefore a = 10, \omega = 4\pi$

$|a| = 10\text{cm}$ اقصى إزاحة للكتلة

$$T = \frac{2\pi}{\omega} = \frac{2\pi}{4\pi} = \frac{1}{2} \quad \text{دورة الاقتران (الزمن الدوري) أي ان الكتلة تكمل دورة كاملة في نصف ثانية}$$

$$f = \frac{\omega}{2\pi} = \frac{4\pi}{2\pi} = 2\text{Hz} \quad \text{التردد أي ان الكتلة تكمل دورتين في الثانية}$$

$$[y = 3 \cos \frac{1}{2}\pi t] \Rightarrow y = a \cos \omega t \therefore a = 3, \omega = \frac{1}{2}\pi$$

$|a| = 3\text{cm}$ اقصى إزاحة للكتلة

$$T = \frac{2\pi}{\omega} = \frac{2\pi}{\frac{1}{2}\pi} = 4 \quad \text{دورة الاقتران (الزمن الدوري) أي ان الكتلة تكمل دورة كاملة في اربع ثوان}$$

$$f = \frac{\omega}{2\pi} = \frac{\frac{1}{2}\pi}{2\pi} = \frac{1}{4}\text{Hz} \quad \text{التردد أي ان الكتلة تكمل ربع دورة في الثانية}$$

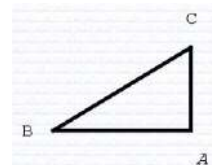
السؤال الثالث

1)

a) $\sin \angle ABC = \frac{1}{\sqrt{2}}$, قائم الزاوية في (A) $\triangle ABC$

$$\sin B = \frac{1}{\sqrt{2}} = \frac{\text{المقابل}}{\text{الوتر}} = \frac{AC}{BC} \Rightarrow AC = 1 \text{ Unit}, BC = \sqrt{2} \text{ Unit},$$

$$\therefore \overline{AB}^2 + \overline{AC}^2 = \overline{BC}^2 \Rightarrow \overline{AB}^2 = \overline{BC}^2 - \overline{AC}^2 \Rightarrow \overline{AB}^2 = 2 - 1 = 1 \Rightarrow \overline{AB} = 1 \text{ Unit}$$



$$b) \sin \angle ABC = \frac{1}{\sqrt{2}}, \cos \angle ABC = \frac{1}{\sqrt{2}}, \tan \angle ABC = 1, \csc \angle ABC = \sqrt{2}, \sec \angle ABC = \sqrt{2}, \cot \angle ABC = 1$$

$$c) m\angle ABC = \sin^{-1} \frac{1}{\sqrt{2}} = \frac{\pi}{4}$$

$$2) a) [\sec \theta = \frac{5}{4}], \sin \theta > 0 \Rightarrow \sin \theta, \cos \theta > 0 \Rightarrow \text{الزاوية في الربع الاول}$$

$$\therefore \cos \theta = \frac{4}{5} \Rightarrow \sin^2 \theta + \cos^2 \theta = 1 \Rightarrow \sin^2 \theta + \frac{16}{25} = 1 \Rightarrow \sin^2 \theta = 1 - \frac{16}{25} = \frac{25-16}{25} = \frac{9}{25} \Rightarrow \sin \theta = \sqrt{\frac{9}{25}} = \frac{3}{5}$$

$$\csc \theta = \frac{5}{3}, \tan \theta = \frac{\sin \theta}{\cos \theta} = \frac{\frac{3}{5}}{\frac{4}{5}} = \frac{3}{4}, \cot \theta = \frac{4}{3}$$

$$b) [\sec \theta = \frac{5}{4}], \cot \theta < 0 \Rightarrow \text{الزاوية في الربع الرابع}$$

$$\therefore \cos \theta = \frac{4}{5}, \sin \theta = -\frac{3}{5}, \csc \theta = -\frac{5}{3}, \tan \theta = \frac{\sin \theta}{\cos \theta} = \frac{-\frac{3}{5}}{\frac{4}{5}} = -\frac{3}{4}, \cot \theta = -\frac{4}{3}$$

السؤال الرابع

$$a) \Delta A = A_2 - A_1 = 36, \theta = 0.75, A = \frac{1}{2} r^2 \theta$$

$$\therefore 36 = (\frac{1}{2} 3X^2 \times 0.75) - (\frac{1}{2} 2X^2 \times 0.75) \Rightarrow 36 = (\frac{9}{2} X^2 \times 0.75) - (\frac{4}{2} X^2 \times 0.75) \Rightarrow 36 = 3.375X^2 - 1.5X^2 \Rightarrow 36 = 1.875X^2 \Rightarrow$$

$$X^2 = \frac{36}{1.875} = 19.2$$

$$\Rightarrow X = \sqrt{19.2} \text{ cm}$$

$$b) \cos \frac{\pi}{4} - \sin \frac{2\pi}{3} + \sin \pi - \tan \frac{4\pi}{3} + \sin \frac{5\pi}{3} - \sin 2\pi = \frac{1}{\sqrt{2}} - (-1) + 0 - (-\frac{1}{\sqrt{3}}) + (-\frac{\sqrt{3}}{2}) - 0 = \frac{1}{\sqrt{2}} + 1 + \frac{1}{\sqrt{3}} - \frac{\sqrt{3}}{2}$$

السؤال الخامس

$$1- a) \cos(1-x) + 2$$

$$1- \text{السعة} = |a| = 1$$

$$2- \text{الدورة} = \frac{2\pi}{|b|} = \frac{2\pi}{1} = 2\pi$$

$$3- \text{القيمة العظمى والصغرى} \min_v = -1 \times |a| + d \therefore \min_v = -1, \max_v = 1 \times |a| + d = 3$$

$$4- \text{ومعادلة خط الوسط} y = 2$$

$$b) \sin\left(\frac{x}{3} + \frac{\pi}{4}\right) - 1$$

$$1- \text{السعة} = |a| = 1$$

$$2- \text{الدورة} = \frac{2\pi}{|b|} = \frac{2\pi}{\frac{1}{3}} = 6\pi$$

$$3- \text{القيمة العظمى والصغرى} \min_v = -1 \times |a| + d \therefore \min_v = -2, \max_v = 1 \times |a| + d = 0$$

$$4- \text{ومعادلة خط الوسط} y = -1$$

2-

$$y = \cos 2\left(x - \frac{\pi}{2}\right) = \cos(2x - \pi)$$

$$1- \text{السعة} = |a| = 1$$

$$2- \text{الدورة} = \frac{2\pi}{|b|} = \frac{2\pi}{2} = \pi, \text{ ربع الدورة} = \frac{\pi}{4}$$

$$3- \text{القيمة العظمى والصغرى} \min_v = -1 \times |a| + d \therefore \min_v = -1, \max_v = 1 \times |a| + d = 1$$

$$4- \text{ومعادلة خط الوسط} y = 0$$

$$5- C = \frac{\pi}{2}$$

6-

x	0	$\frac{\pi}{4}$	$\frac{\pi}{2}$	$\frac{3\pi}{4}$	π
2x	0	$\frac{\pi}{2}$	π	$\frac{3\pi}{2}$	2 π
2x- π	- π	$-\frac{\pi}{2}$	0	$\frac{\pi}{2}$	π
$\cos(2x - \pi)$	-1	0	1	0	-1

