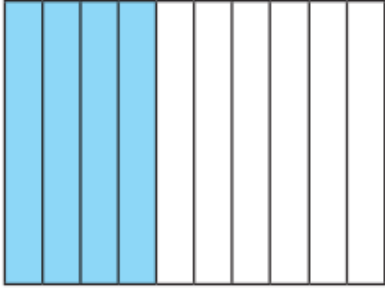
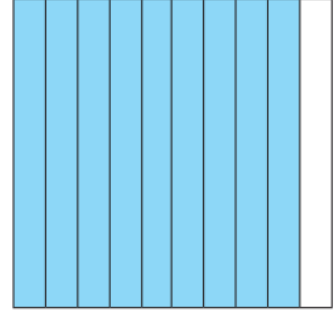


السؤال الأول: اكتب الكسر العادي والكسر العشري الذي يمثل الجزء المظلل :



الكسر العادي

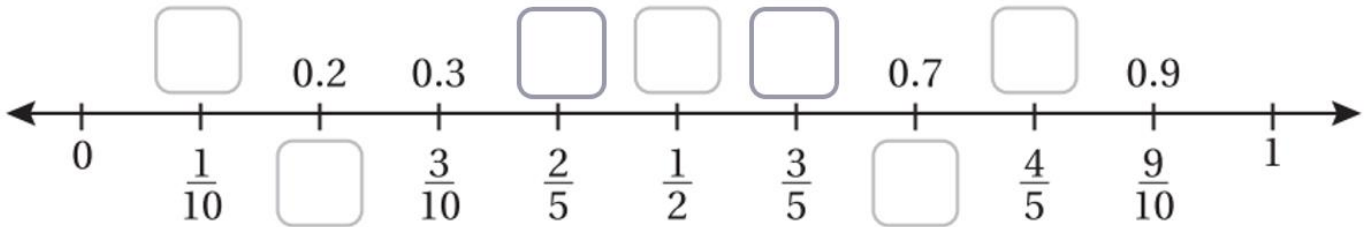
الكسر العشري



الكسر العادي

الكسر العشري

السؤال الثاني: املأ الفراغ بالكسر العشري المناسب:



السؤال الثالث: اكتب كلا من الكسور العشرية الآتية بالصيغة اللفظية :

..... 0.4

..... 0.6

..... 0.9

السؤال الأول: حدد القيمة المنزلية للرقم الذي تحته خط:

0.98

0.54

0.23

0.13

0.82

السؤال الثاني: اكتب كل كسر عشري مما يأتي: بالصيغتين اللفظية والتحليلية :

0.56

0.41

..... الصيغة اللفظية

..... الصيغة اللفظية

..... الصيغة التحليلية

..... الصيغة التحليلية

السؤال الثالث: اكتب كلا من الكسور العشرية الآتية بالصيغة القياسية:

واحد وخمسون من مئة

ثلاثة من عشرة

ثلاثة وسبعون من مئة

أربعة وثلاثون من مئة

السؤال الرابع: حول كلا من الكسور العادية الآتية إلى كسور عشرية .

$\frac{2}{10}$

$\frac{16}{100}$

$\frac{7}{100}$

السؤال الخامس: اكتب الكسر العشري الممثل بنقطة على خط الأعداد.

