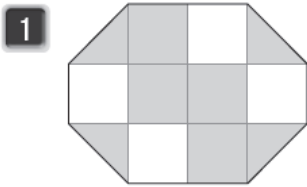


إجابات كتاب التمارين

النسبة المئوية

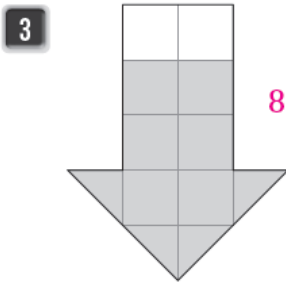
أحدّد النسبة المئوية التي يُمثّلها الجزء المُظلل في الأشكال الآتية:



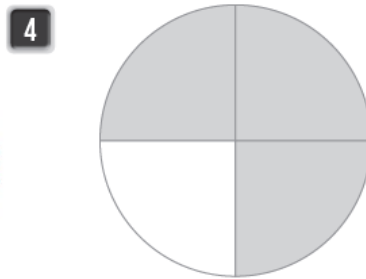
60%



60%



80%



75%

الرياضة المُفضّلة	عدد الطلّبة
كرة القدم	40
كرة السلة	18
السباحة	22
الجري	20

يُبيّن الجدول المُجاور الرياضة المُفضّلة لـ 100 طالبٍ من طلبة الصفّ الخامس.

5 ما النسبة المئوية للطلّبة الذين يُفضّلون رياضة كرة السلة؟ 18%

6 ما النسبة المئوية للطلّبة الذين يُفضّلون رياضة السباحة؟ 22%

7 عائلاتٌ تتكوّن عائلة من 3 بناتٍ و7 أولادٍ، ما النسبة المئوية للأولاد في العائلة؟ 70%