


إجابات كتاب التمارين

تصنيف المثلثات حسب أطوال أضلاعها

1 أَصْنَفِ المثلثات الآتية حسب أطوال أضلاعها:

المثلث	نوعه
	متطابق الضلعين
	مختلف الأضلاع
	متطابق الأضلاع

أَكْتُبْ نَوْعَ المثلث المُعْطَاةِ أَطْوَالُ أضْلاعِهِ فِي كُلِّ مِمَّا يَأْتِي:

2 32 cm, 22 cm, 32 cm

متطابق الضلعين

3 15 cm, 12 cm, 11 cm


مختلف الأضلاع

4 9 cm, 9 cm, 9 cm

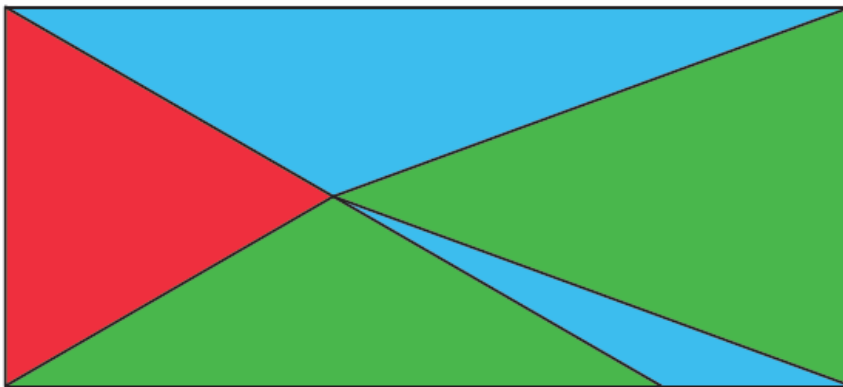
متطابق الأضلاع



5 أَرَسِّمْ مِثْلًا مُخْتَلِفَ الأضْلاعِ، وَمِثْلًا مُتَطَابِقِ الضُّلْعَيْنِ. تَخْتَلِفُ الرِّسُومُ



6 أَلْوَنُ المثلث حسب الوفتاح المعطى:



أَحْمَرُ: مُتَطَابِقِ الأضْلاعِ.

أَخْضَرُ: مُتَطَابِقِ الضُّلْعَيْنِ.

أَزْرَقُ: مُخْتَلِفِ الأضْلاعِ.