

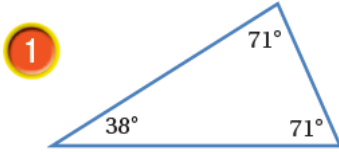
أتحقق من فهمي

تصنيف المثلثات حسب قياسات زواياها

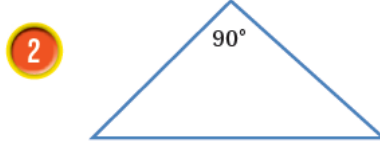
أَتَحَقَّقُ مِنْ فَهْمِي:



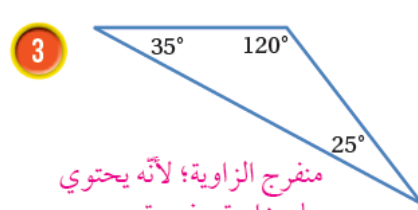
أَصْنَفُ كُلًّا مِنَ الْمُثَلَّثَاتِ الْآتِيَةِ حَسَبَ قِيَاسَاتِ زَوَايَاهَا، وَأُبَرِّرُ إِجَابَتِي:



حاد الزوايا؛ لأن زواياها جميعها حادة.



قائم الزاوية؛ لأنه يحتوي على زاوية قائمة.

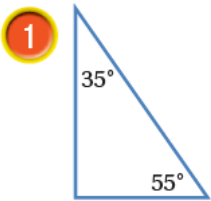


منفرج الزاوية؛ لأنه يحتوي على زاوية منفرجة.

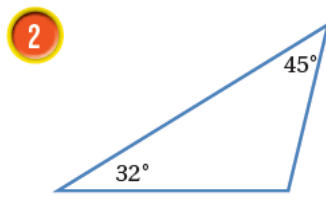
أَتَحَقَّقُ مِنْ فَهْمِي:



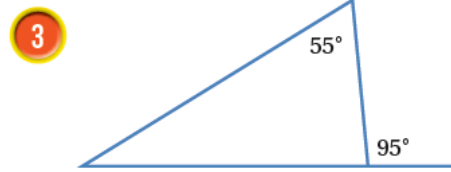
أَصْنَفُ كُلًّا مِنَ الْمُثَلَّثَاتِ الْآتِيَةِ حَسَبَ قِيَاسَاتِ زَوَايَاهَا، وَأُبَرِّرُ إِجَابَتِي:



قائم الزاوية.



منفرج الزاوية.



حاد الزوايا.