

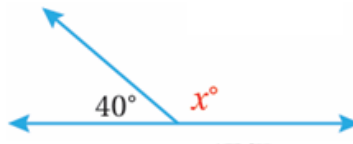
أتحقق من فهمي

مجموع الزوايا على مستقيم وحول نقطة

أتحقق من فهمي صفحة (63)

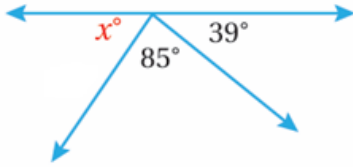
x أجد قيمة في كل مما يأتي:

(1)



140°

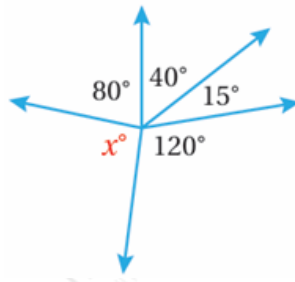
(2)



56°

أتحقق من فهمي صفحة (64)

x أجد قيمة في الشكل المجاور:



105°