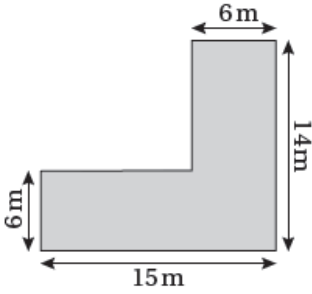


إجابات كتاب التمارين

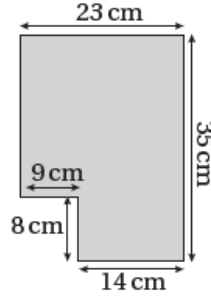
محيط الشكل المركب ومساحته

أحسبُ مُحيطَ كُلِّ مِنَ الأشكالِ الآتية:

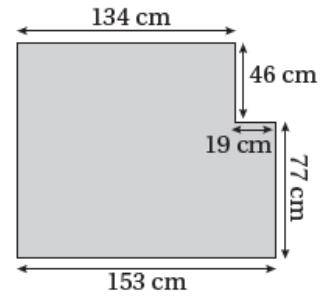
1 58 m



2 116 cm

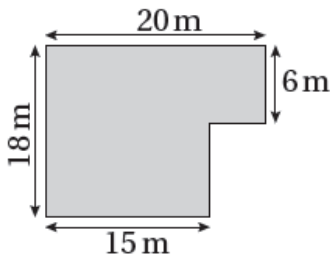


3 552 cm

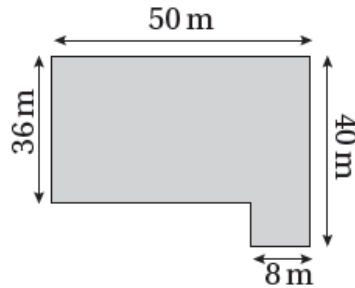


أحسبُ مساحةَ كُلِّ مِنَ الأشكالِ الآتية بطريقتين مُختلفتين:

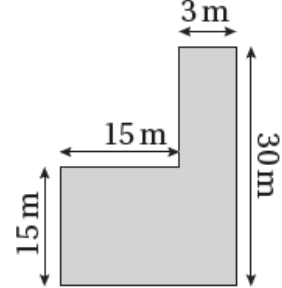
4 300 m²



5 1832 m²



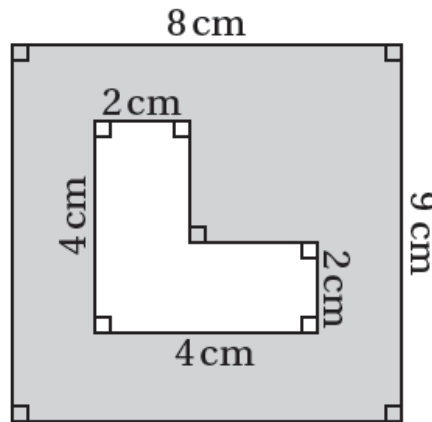
6 315 m²



7 أحسبُ مساحةَ المنطقةِ المُظلَّلةِ في الشكلِ الآتي: 60 cm²

منهاجي

منهاجي



منهاجي