

أُتَدْرَب وَأُحَلِّ المسائل

أجزاء العشرة

أُتَدْرَبْ

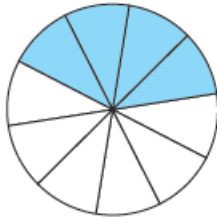
وَأُحَلِّ المسائل



أَكْتُبُ الكَسْرَ العَشْرِيَّ الَّذِي يُمَثِّلُ الأجزاء المُظَلَّلَ، بِالصِّيغَتَيْنِ اللَّفْظِيَّةِ وَالْقِيَاسِيَّةِ فِي كُلِّ

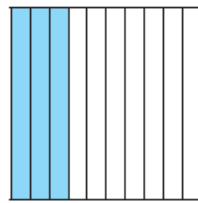
أربعة أعشار، 0.4

1



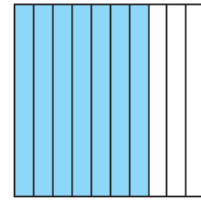
ثلاثة أعشار، 0.3

2



سبعة أعشار، 0.7

3



أَكْتُبُ كُلَّ كَسْرٍ عَادِيٍّ مِمَّا يَأْتِي عَلَى صُورَةِ كَسْرٍ عَشْرِيٍّ، وَأُمَثِّلُهُ عَلَى خَطِّ الأعداد:

4 $\frac{8}{10}$ 0.8

5 $\frac{5}{10}$ 0.5

6 $\frac{2}{10}$ 0.2

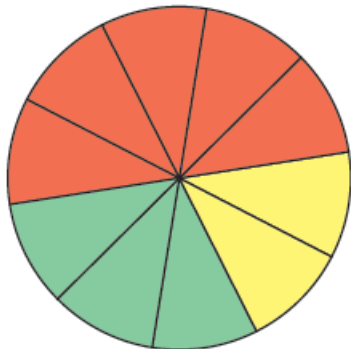
أَكْتُبُ كُلَّ كَسْرٍ عَشْرِيٍّ مِمَّا يَأْتِي عَلَى صُورَةِ كَسْرٍ عَادِيٍّ، وَأُمَثِّلُهُ عَلَى خَطِّ الأعداد:

7 0.9 $\frac{9}{10}$

8 0.6 $\frac{6}{10}$

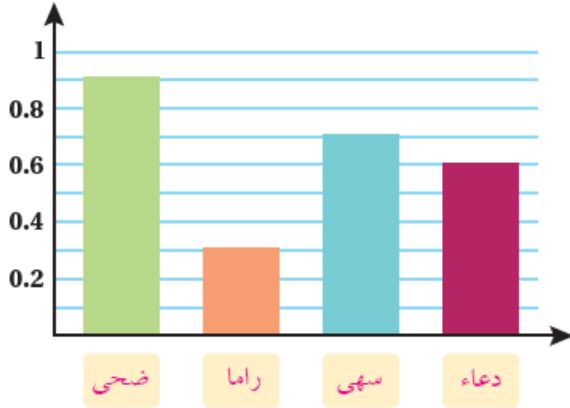
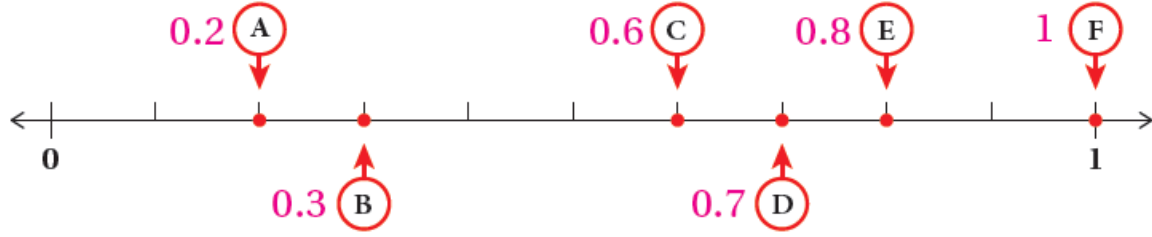
9 0.1 $\frac{1}{10}$

10 أَكْتُبُ مَا تُمَثِّلُهُ كُلُّ مِنَ الأجزاء المُلوَّنةِ فِي الدَّائِرَةِ، بِاسْتِعْمَالِ كَسْرٍ عَادِيٍّ وَكَسْرٍ عَشْرِيٍّ.



اللَوْنُ	الكَسْرُ العَادِيُّ	الكَسْرُ العَشْرِيُّ
أَصْفَرُ	$\frac{2}{10}$	0.2
أَحْمَرُ	$\frac{5}{10}$	0.5
أَخْضَرُ	$\frac{3}{10}$	0.3

11 أكتب الكسر العشري الذي يمثله كل حرف مما يأتي:



12 **كتابة:** اشتركت 4 طالبات في كتابة بحث مؤلف من 10 صفحات. بدأت كل منهن بالكتابة؛ فكتبت سهى 7 صفحات، وكتبت راما 3 صفحات، وكتبت دعاء 6 صفحات، وكتبت ضحى 9 صفحات. أضع اسم الطالبة تحت العمود الذي يمثله الكسر العشري لعدد الصفحات التي كتبتها.

مهارات التفكير

13 **اكتشف الخطأ:** لدى عبد الله 10 حبات جوز، أكل منها 3 حبات، فكتب الكسر العشري الذي يمثله ما أكله هكذا: 3.0. اكتشف خطأ عبد الله وأصححه. 0.3



14 **تبرير:** أعبر عن قطعة النقد المجاورة باستعمال كسر عشري، وأبرر إجابتي. الدينار في 10 عملات من فئة 10 قروش لهذا الكسر، الذي يمثله العملة: 0.1

أتحدث: أشرح كيف أكتب كسرًا عاديًا مقامه 10، على صورة كسر عشري أو العكس.

