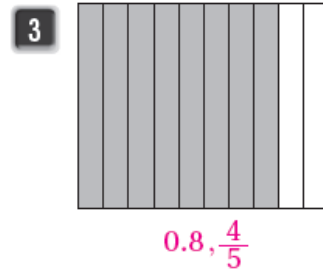
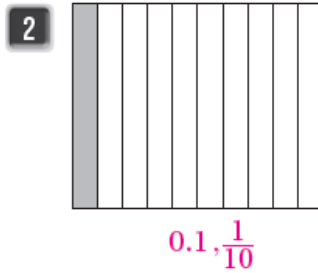
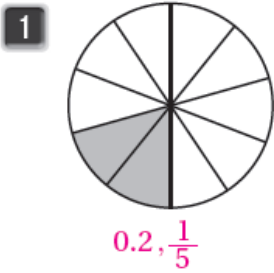


## أسئلة تمارين الكتاب

### أجزاء العشرة

اكتب الكسر العادي والكسر العشري الذي يمثل الجزء الممثل في كل مما يأتي:




اكتب كل كسر عادي مما يأتي على صورة كسر عشري، وأمثلة على خط الأعداد:

4  $\frac{3}{10}$  0.3

5  $\frac{9}{10}$  0.9

6  $\frac{1}{10}$  0.1

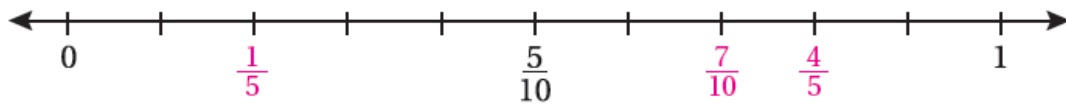


اكتب كل كسر عشري مما يأتي على صورة كسر عادي، وأمثلة على خط الأعداد:

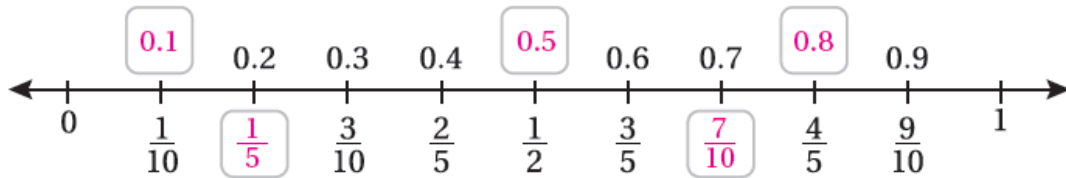
7 0.2  $\frac{1}{5}$

8 0.8  $\frac{4}{5}$

9 0.7  $\frac{7}{10}$



10 أملأ الفراغ بالكسر العشري أو العادي المناسب:



11 لدى لين 10 قطع من الكعك، وزعت منها 4 قطع لصديقاتها. ما الكسر العشري الذي يمثل ما ورعته؟ 0.4