

أتحقق من فهمي

تمثيل الأعداد ضمن منزلتين

أَتَحَقَّقُ مِنْ فَهْمِي



1 أمثل العدد بالتماذج، ثم أكتب الأحاد والعشرات:



عَشْرَاتٍ
5

أَحَادٌ
2




أرسم العدد، ثم أكتب الأحاد والعشرات:

2




عَشْرَاتٍ
3

أَحَادٌ
1




3



عَشْرَاتٍ
4

أَحَادٌ
4



أحل المسألة



4 أكتشف الخطأ: مثلت سلمى العدد 32 بالتماذج كما في الشكل المجاور.

أكتشف الخطأ في حل سلمى، ثم أصححه.

الخطأ أن التمثيل للعدد 23 وليس 32

