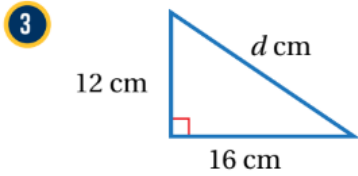
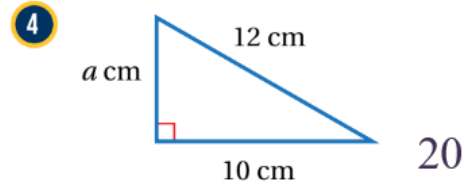


أتحقق من فهمي نظرية فيثاغورس



منهاجي

6.6

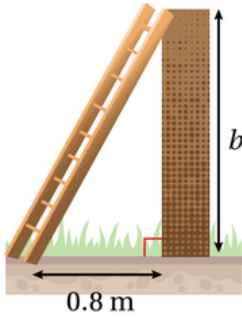


أتحقق من فهمي: صفحة 24

3 12, 5, 13 غير قائم

4 24, 18, 25 قائم

أتحقق من فهمي: صفحة 26



منهاجي

أتحقق من فهمي: صفحة 27

يستند سلم طوله 2 m إلى حائط عمودي، وتبعد قاعدته 0.8 m عن الحائط.
أجد ارتفاع أعلى السلم عن الأرض (b).

1.8