

أسئلة كتاب التمارين

تقريب الأعداد

أُمثِّل العَدَدَ عَلَى خَطِّ الأَعْدَادِ، ثُمَّ أَرَسِّمُ سَهْمًا يُبَيِّنُ اتِّجَاهَ التَّقْرِيبِ إِلَى الأَعْلَى أَوْ إِلَى الأَسْفَلِ عِنْدَ تَقْرِيْبِهِ إِلَى أَقْرَبِ 10:

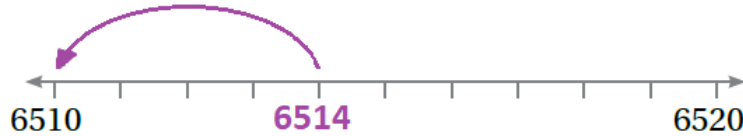
1 3782



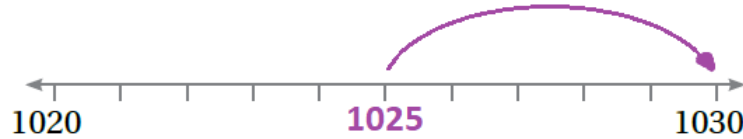
2 4297



3 6514



4 1025

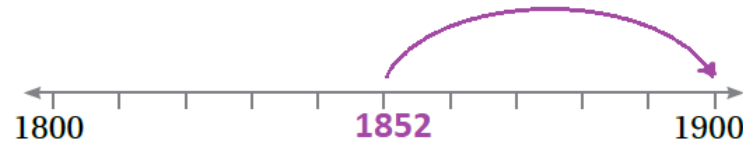


أُمثِّل العَدَدَ عَلَى خَطِّ الأَعْدَادِ، ثُمَّ أَرَسِّمُ سَهْمًا يُبَيِّنُ اتِّجَاهَ التَّقْرِيبِ إِلَى الأَعْلَى أَوْ إِلَى الأَسْفَلِ عِنْدَ تَقْرِيْبِهِ إِلَى أَقْرَبِ 100:

5 5294



6 1852



7 4407



أَقْرَبُ كُلِّ عَدَدٍ إِلَى أَقْرَبِ 1000، ثُمَّ أَكْتُبُ نَاتِجَ التَّقْرِيبِ فِي الْمُنَاسِبِ:

8 2107

9 4649

10 6737

11 8551

12 7499

13 6051

14 5500

15 8701

16 8099

17 2500

منهاجي

8962

18 ما هُوَ عَدَدُ كَرِيمِ السَّرِيِّ؟

نَاتِجُ جَمْعِ أَرْقَامِ عَدَدِي السَّرِيِّ الْمُكُونِ مِنْ 4 مَنَازِلَ
يُسَاوِي 25
وَإِذَا قَرَّبْتُهُ إِلَى أَقْرَبِ مِئَةٍ، فَإِنَّ نَاتِجَ التَّقْرِيبِ يُسَاوِي
9000

