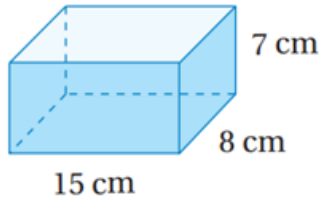


أتحقق من فهمي

حجم المنشور والأسطوانة

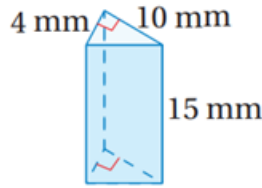
أتحقق من فهمي صفحة (97):

(3)



840 cm^3

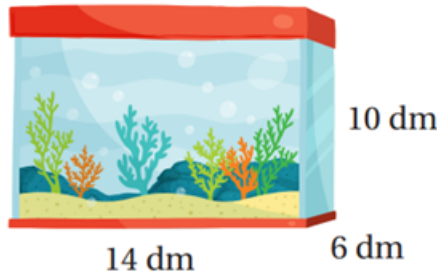
(4)



300 mm^3

أتحقق من فهمي صفحة (97):

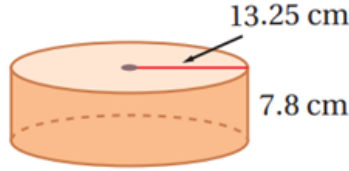
أحواض: أجد حجم حوض الأسماك المجاور.



840 dm^3

أتحقق من فهمي صفحة (98):

أجد حجم الأسطوانة المجاورة، وأقرب إجابتي لأقرب جزء من مئة.



4299.88 cm^3

أتحقق من فهمي صفحة (99):

كوب: كم سنتيمتراً مكعباً يتسع له الكوب المجاور.



307.72 cm^3