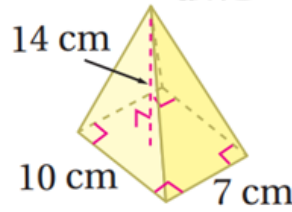


## أتحقق من فهمي

### حجم الهرم والمخروط

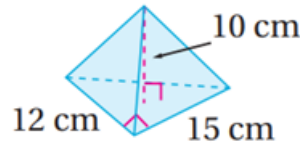
أتحقق من فهمي صفحة (104):

(2)



326.67

(3)



300

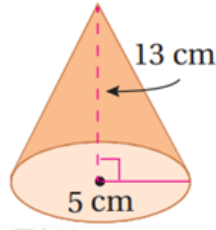
أتحقق من فهمي صفحة (104):

m أجد حجم أصغر هرم في المحمية علماً أن ارتفاعه 18 وطول ضلع قاعدته المربعة 19.5 m. أقرب إجابتي لأقرب جزء من عشرة.

2281.5

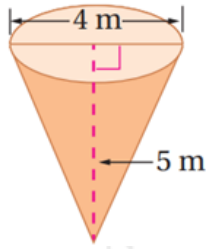
أتحقق من فهمي صفحة (105):

(2)



340.34

(3)



20.94

أتحقق من فهمي صفحة (106):

cm في المثال السابق إذا كان طول نصف قطر كومة ملح 35، وارتفاعها 40 cm، أجد حجم الكومة، وأقرب إجابتي لأقرب جزء من عشرة.

51286.7