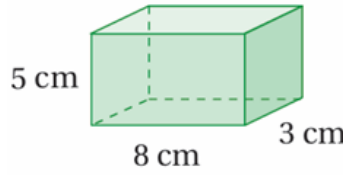


أتحقق من فهمي

مساحة سطح المنشور والأسطوانة

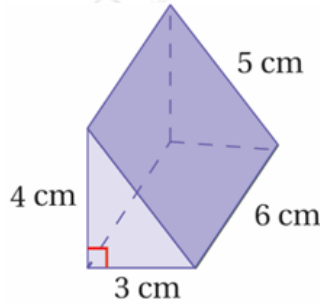
أتحقق من فهمي صفحة (110):

(2)



158

(3)



84

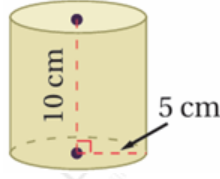
أتحقق من فهمي صفحة (111):

m^2 أجد المساحة الكلية لسطح المبنى إذا علمت أن مساحة قاعدته 10450

46320

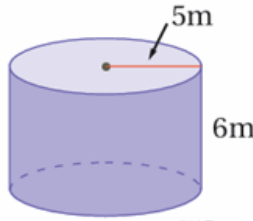
أتحقق من فهمي صفحة (112):

(2)



جانبية: 314.16، كلية: 471.24

(3)



جانبية: 188.5، كلية: 345.58

أتحقق من فهمي صفحة (113):

علب: ينتج مصنع علبًا أسطوانية الشكل ارتفاع الواحدة منها 7 cm، وطول قطرها 5 cm. أجد المساحة الكلية لسطح العلبة. أقرب إجابتي لأقرب جزء من عشرة.



149.2