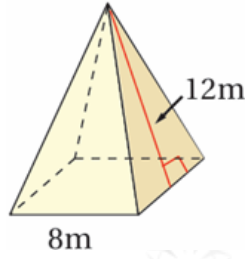


أتحقق من فهمي

مساحة سطح الهرم والمخروط

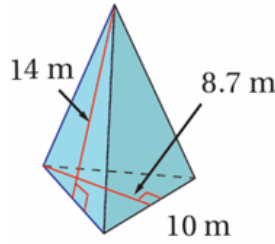
أتحقق من فهمي صفحة (118):

(2)



256

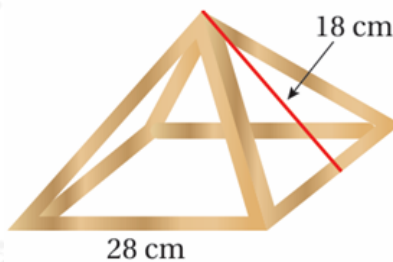
(3)



253.5

أتحقق من فهمي صفحة (119):

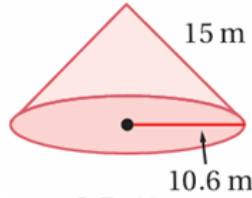
خيمة: صمم ينال الهرم المجاور الذي يمثل الأعمدة الأساسية لنموذج خيمة، ما مساحة القماش التي يحتاجها لإكمال النموذج وتغطية الأعمدة؟



1008

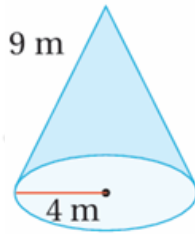
أتحقق من فهمي صفحة (121):

(2)



852.5

(3)



163.4

أتحقق من فهمي صفحة (121):



مخروط مرور: مخروط مرور طول نصف قطر قاعدته 25 cm وارتفاعه الجانبي 75 cm. أجد المساحة الجانبية لسطح المخروط. أقرب إجابتي لأقرب عدد صحيح.

5890