

بسم الله الرحمن الرحيم



المملكة الأردنية الهاشمية  
وزارة التربية والتعليم  
إدارة الامتحانات والاختبارات  
قسم الامتحانات العامة

امتحان شهادة الدراسة الثانوية العامة لعام ٢٠١٤ / الدورة الشتوية

(ولغة محمية/محدود)

مدة الامتحان:  $\frac{30}{1}$  من

اليوم والتاريخ: الأحد ٢٠١٤/١/١٩

المبحث: جغرافيا / المستوى الثالث

الفرع: الأبي والفندقي والسياحي (نفس الورقة الإمتحانية)

ملحوظة: أجب عن الأسئلة الآتية جميعها وعددها (٥)، علماً بأن عدد الصفحات (٣).

بعد دراستك لوحدة الجيومورفولوجيا أجب عن الأسئلة الآتية:

السؤال الأول: (١٥ علامة)

(٦ علامات)

أ) عرف المفاهيم والمصطلحات الآتية:

- ١- خط الكنتور.
- ٢- الوادي النهري.
- ٣- المصاطب النهريّة.

ب) انكر:

- ١- ثلاثة من العوامل التي تساعد الرياح في نشاطها في المناطق الجافة.
- ٢- مناهج الدراسة الجيومورفولوجية.

(٣ علامات)

(علمتان)

ج) وضّح دور هبوط مستوى القاعدة في تطور المصاطب النهريّة.

(٤ علامات)

السؤال الثاني: (١٦ علامة)

أ) أعط مثالين لكل مما يأتي:

- ١- أشكال أرضية ذات مرتبة أولى.
- ٢- أشكال أرضية ناتجة عن عمليات اللحث.
- ٣- أشكال أرضية ناتجة عن عمليات اللحث والنقل الريحي.

(٤ علامات)

(٤ علامات)

(٤ علامات)

ب) وضّح كيف يمكن التعرف على أراضي الأودية وما بين الأودية من خلال أشكال خطوط الكنتور.

(٤ علامات)

ينبع الصفحة الثانية ....

الصفحة الثانية

بعد دراستك لوحدة الجغرافيا السياسية أجب عن الأسئلة الآتية:

السؤال الثالث : (١٥ علامة)

(٦ علامات)

أ) عرّف المفاهيم والمصطلحات الآتية:

- ١- الأمن القومي العربي.
- ٢- مستلزمات الإنتاج.
- ٣- الاحتياطي النفطي.

ب) اذكر:

(٣ علامات)

١- ثلاثة من المعوقات التي تعرّض التنمية الزراعية في الوطن العربي.

(٤ علامات)

٢- أربعة من الحلول المقترحة لتحقيق الأمن الغذائي العربي.

(علمتان)

ج) كوّن تعبيراً تربط فيه العلاقة بين سرعة المياه وشدة الحدّث الأرض.

السؤال الرابع : (١٦ علامة)

(٤ علامات)

أ) قارن بين الإقليم الجغرافي والإقليم السياسي من حيث:

- المساحة.
- نشأة.

ب) قارن بين منظمة الأقطار المصدرة للنفط (أوبك) ومنظمة الأقطار العربية المصدرة للنفط (أوابك) من حيث:

(٦ علامات)

- سنة التأسيس.
- سبب التأسيس.

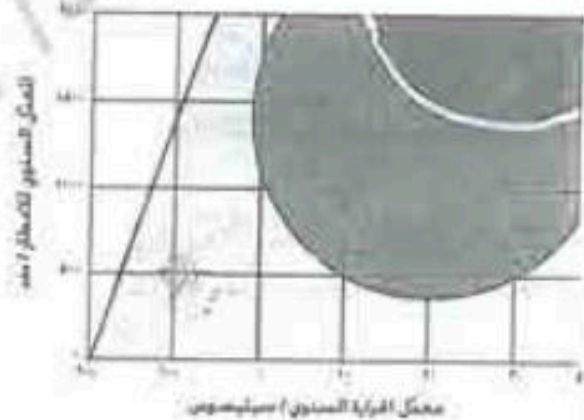

(٦ علامات)

ج) تخيل أنك سفارت لكل من قبرص وسويسرا ما القوميات المكونة لهذه الدول.

السؤال الخامس : (١٨ علامة)

(١٠ علامات)

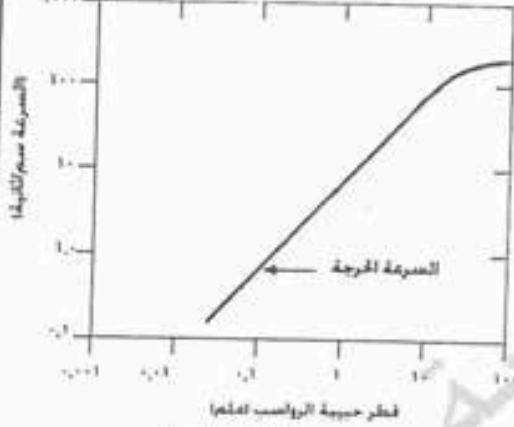
أ) ادرس الأشكال الآتية ثم أجب عن الأسئلة التي تليها.



يتبع الصفحة الثالثة....

### الصفحة الثالثة

- ١- من خلال الشكل (أ) ما درجة شدة التجوية الكيميائية لمنطقة معدل حرارتها السنوي (١٠ سن) والمعدل السنوي للأمطار (١٠٠٠ ملم) ؟ (علامتان)
- ٢- من خلال الشكل (ب) ما درجة شدة التجوية الميكانيكية لمنطقة معدل حرارتها السنوي (١٠ سن) والمعدل السنوي للأمطار (١٠٠٠ ملم) ؟ (علامتان)
- ٣- في أي المناطق تنشط كل من التجوية الكيميائية والميكانيكية ؟

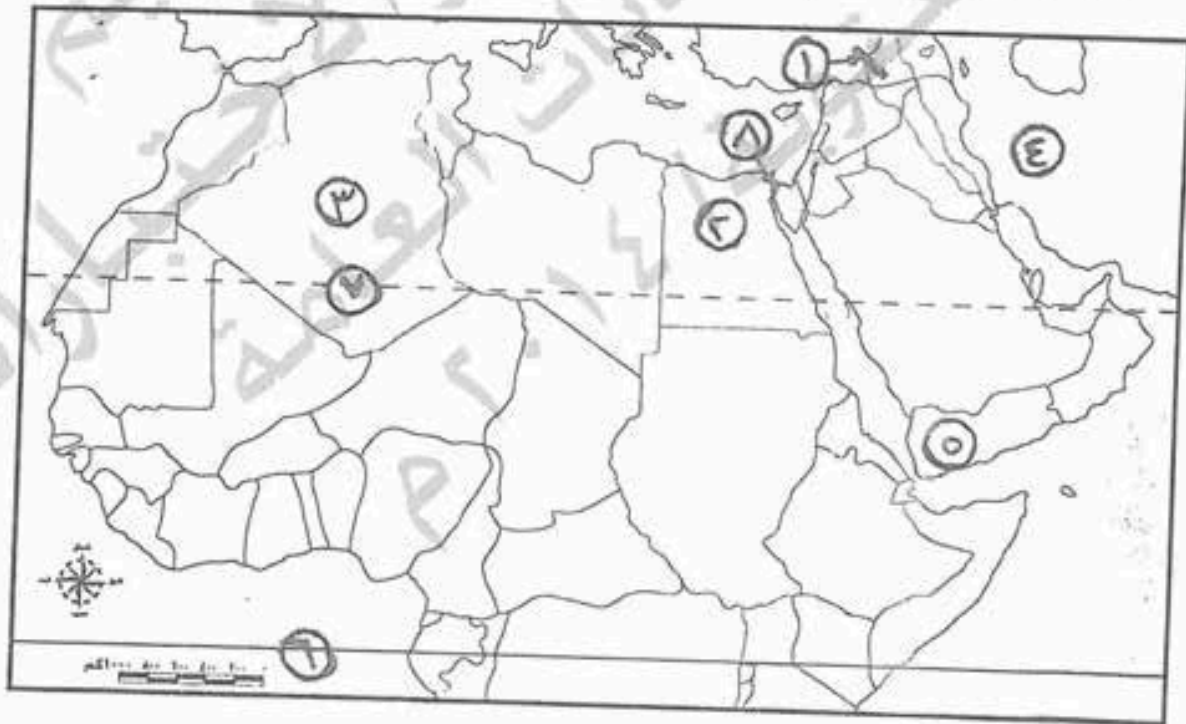


الشكل (ج)

- ٤- من خلال الشكل (ج) ما نوع العملية التي يقوم بها نهر سرعته (١ سم/ث) لحبيبة قطرها (١٠ ملم) ؟ (علامتان)
- ٥- من خلال الشكل (ج) ما نوع العملية التي يقوم بها نهر سرعته (١٠٠ سم/ث) لحبيبة قطرها (٠,١ ملم) ؟ (علامتان)

(ب) ادرس الخريطة أدناه ثم اكتب في دفتر إجابتك ما تشير إليه الأرقام الآتية:

- سد مائي (١) - دول أعضاء في الأوبك (٢، ٣)
- دولة إسلامية عضو في الأوبك (٤) - دولة عطلت حدودها (٥)
- دوائر عرض رئيسية (٦، ٧) - قناة مائية (٨)



(انتهت الأسئلة)



مدة الامتحان : ٤٠ دقيقة  
التاريخ : ١٩ / ٤ / ٢٠١٤

مبحث : الجبرافيا ص ٣  
اسرع : الأردني والفندقي السيد

الإجابة النموذجية :

رقم الصفحة في الكتاب	
	١- عرف المفاهيم والمصطلحات الآتية (١٥ علامة)
٥٢	١. خط الكنتور : خط يصل بين عدد للمحدود به النقاط المتساوية
	٢. الارتفاع : هو مسافة ثابتة وهو مستوى سطح البحر (عدسات)
٥٢	٣. الوديع النروي : منخفض متطاول متوج على بيئة الصح
	٤. مينا عارة عن عمليات الحث وانجاسات نشاطا (عدسات)
٥٦	٥. المصاطب النورية : سوك نحية قديمة صبرها النر بعد
	٦. ان عمق مجراه / ويغ لنته سلا فيفيا جديا (عدسات)
	ب- اذكر
٥٦	١. تلاله من العوامل التي تساعد الرياح في نشاطها في المناطق الجاه
	٢. شدة سرعة الرياح (١)
	٣. شدة بخفاف (١)
	٤. اندام الخطاد النباتي (٣ علامات)
١٣	٥. عناصر الدراسة الجيومورفولوجية .
	١. المنحرج الوضفي (١)
	٢. المنحرج الاصوي (١) (عدسات)
٥٧	٣. وفي دور هطول مسوى القاعدة في تطور المصاطب النورية
	يعل هذا العنصر على تجرد نشاط الترس الراسي للنور (١)
	ثم تعمق النور في حله المنضوي القديم / وتكون كمصاطب نورية (١)
	واذا ما تكورت هذه العملية فنان عددا من المصاطب النورية سطور (١)
	(٤ علامات)

رقم الصفحة  
في الكتاب

السؤال الثاني ( ١٦ علامة )

١٥  
ص

١٥ - اخط مثالسه لكل ما يأتي :-  
استكمال ارضيه ذات مرتبة أدنى (٤) ٤  
القارت (١) ، تيارات المحيطات (١) ، اليابس (١) ، الماء (١)

٥٢  
ص

٥٢ - استكمال ارضيه ناتجة عن عمليات التفتت ، (٤) ٤  
الكف (١) ، التقوية (١) ، الأهرق (١) ، المفردات (١)  
الأودية النهرية (١) ، المنخفضات (١) ، لغاريق لصخرة (١)

٦٢  
٦٢ ، ٦١  
ص

٦٢ - استكمال ارضيه ناتجة عن عمليات التفتت ، (٤) ٤  
والنقل الرسوبي :-

المحار أو الدرر (البحري الخيري)  
السريد أو الرقة (البحري المصري ، الكندوش)  
التقوية ، الأهرق (٤)

٥٢  
ص

٥٢ - وضع كتيبا يحدد التفرقة بين أراضي الأودية (٤) ٤  
وما يسهل الأودية من خلال استكمال شكلها الكنتري (A)  
إذا كانت ترقم شكلها الكنتري من أي نحو الخارج  
ولها دوائر (١) أما إذا امتصت قيم شكلها الكنتري  
نحو الخارج ولها دوائر (١) على أراضيها الأودية (٤)

رقم الصفحة في الكتاب	
٥٥	السؤال الثالث :- بعد دراستك لوصفة الجرافيا السياسي اجب عنه الاسئلة الآتية .
	٢- عرف المفاهيم والمصطلحات الآتية . (٦ علامات) -
١١٩	١- الذين القوي العربي: قدرة الأمة العربية على مواجهة جميع المخاوف والمخاطر التي تهددها/ومعها مصالحها الحيوية والحفاظ على كيانها وراسمها
٣٥	٢- نتائج الإنتاج :- الآلات الزراعية والتكنولوجيا والأسرة والمبيدات والبذر المحنة (٨ علامات)
١٤٦	٣- الاحتياطي النفطي :- هو كميات النفط التي ثبت تواجدها فقدت في الحقل النفطي
	ب- اذكر (٧ علامات)
١٤١	١- ثلثه من كمونات التي تعترض التنقيب الزلزالية في اوطان عربي ٢- ضعف في مستويات البنية الأساسية من طرق ومواصلات وخدمات لتسويق ٣- عدم استقرار اسعار النفط التي تطبقها الدول العربية وضارباً احياناً ٤- العوامل الطبيعية غير المواتية كالتوسع قاصو الصحراء والجفاف ٥- سياسات الاسعار التي توجه لصالح قطاعات الاستهلاك على حساب قطاع الإنتاج ٦- انخفاض الحوافز الاستثمارية في قطاع الزراعة والرياحنة باستثناء اجراءات إدارية ٧- اربعة من المحاولات المقترحة لتقوية الدين الخارجي العربي
١٢٠	١- حل الخلافات العربية حول تكسوم المياه واعتماد الأسس والقواعد الدولية المستندة في حل المشكلات المتعلقة باقتسام مياه الأنهار الدولية ٢- العمل على ترشيد استهلاك الموارد المائية المتنامية المتنامية من خلال عدة اساليب مثل رفع كفاءة وصيانه وتطوير البنيات وتظيم الري واستنباط اصناف وسلالات من الحاصل التي تستهلك كميات اقل من المياه وسحب مياه اعلى من الجوف ٣- البحث عن موارد جديدة من خلال افراد واسباب واستنباط اصناف من المياه جوفية مربو وتطويع تقنية الصرف الصحي والتوسع في استنباط اصناف ٤- ابتكار وسائل وتقنيات للاستفادة من مياه الاطوار (المتقطعة) والحد من ٥- العمل على نقل المياه من الدول التي تتوفر بها المياه الى دول تعاني من نقص حاد منها
	ج- كونك بصحياً تربط بين العلاقة بين سرعة المياه وسرعة انحدار الارض تكون العلاقة طردية حيث كلما زادت سرعة الانحدار (الارتفاع) زادت سرعة الجريان (الانحدار)

تبدل نقاط

اربع نقاط

رقم الصفحة في الكتاب		
	السؤال الرابع	
٧٩ ص	(١٦ اعلانية)	
	م. تارن بين الأقليم الجغرافى والأقليم السياسى من حيث المساحة والنشأه.	
	الأقليم الجغرافى	الأقليم السياسى (بدوله)
	ومره طبيعىة تشل مساهه	رقعه من صنع الإنسان
	كبيره من سطح الارض	ذو مساهه محدوده ① (مستقره)
	قديم من الطبيعه تفر	مدنيه حيث نشأه مع ①
	النشأه	نشوء الهياكل السياسيه
	ب. تارن بين منظمه الاقطار المصدره للنفط (اوبك) ومنظمه الاقطار ① اعلانية	
٩٩ ص ١٠٧ ص	العربيه المصدره للنفط (اوبك) من حيث سنه التأسيس وسبب التأسيس	
	منظمه الاقطار المصدره للنفط (اوبك)	منظمه الاقطار العربيه المصدره للنفط (اوبك)
	١٩٦٠	١٩٦٨
	سنه التأسيس	سنه التأسيس
	لحدى الشركات المنظمه	تم من مكان للتشاور والتعاون
	والاعتماده من أعضاها	والتشاور بين الدول العربيه المنتجه والمصدره للنفط .
	النفط لتمام	
١١٤ ص ١١٣ ص	هـ - تحلل اثاره سافرك بكل من قبرص وسويسرا . ما القويوات	
	(اعلانية)	
	المكونه لهذه الدول	اليونانيه ①
	قبرص	التركيه ①
	سويسرا .	الألمانيه ①
		الفرنسيه ①
		الايطاليه ①
		الرومانيه ①

رقم الصفحة  
في الكتاب

( ١٨ اعلانه )

السؤال الخامس .

f. ادرس الاستعمال الآتيه ثم اجب عن الاسئلة التي تليها ( اعلانه )

- في الشكل (٩) مادريه سده لتجويه الكيمياء لمنطقه سدك دريم مارتيا (٢٥ ص)

١٠. ادره) وبلعدك لسوي للوطار ... العلم ؟ تجويه معدلة (اعلان)

- في الشكل (ب) مادريه سده لتجويه الميكانيكية لمنطقه سدك دريم

مارتيا . ادره) وبلعدك لسوي للوطار ... العلم ؟ تجويه ضعيفه مارتيا (٢٦ ص)

- في اي المناطق تنشط كل من التجويه الكميائية وليكيميائية ؟ (٣٥ ص)

تنشط التجويه الميكانيكية في المناطق الجبليه نظرا لكبر المدى الجراحي  
مثلا تنشط في المناطق الباردة الجبلية

تنشط التجويه الكميائية في المناطق الحارة الرطبه ①

في الشكل (ج) مانوع الجبله التي يقوم بها نهر سريته ١٢/٣١ (٤٧ ص)

لجبيه قطرها (١٠ كلم) ؟ العمليه ارساب (مردان)

في الشكل (د) مانوع الجبله التي يقوم بها نهر سريته ١٢/٣٢ (٤٧ ص)

لجبيه قطرها (١٠ كلم) ؟ العمليه نقل أو حمل (مردان)

( ٨ اعلانات )

ب - ادرس الخريطة أدناه

٩٤ ص  
١. سد عائش ① سد اتاتورك

١٠٧ ص  
٢. دول اعضاء في الاوابه ② مصر ③ الجزائر

١١٤ ص  
٣. دوله عضو في لاوبك ④ ايران

١١٨ ص  
٤. دوله عدلت حدودها ⑤ اليمن

١٢٧ ص  
٥. دوائر عرفن رئيسه ⑥ الاستوار ⑦ السلطان

١٤٧ ص  
٦. قناه مائيه ⑧ قناه السويس