

# الرياضيات - الصف التاسع - الوحدة السادسة الهندسة الإحداثية

## تهيئة

1) أكتب نص نظرية فيثاغورس.

الحل:

في المثلث القائم الزاوية، مساحة المربع المنشأ على الوتر يساوي مجموع مساحتي المربعين المنشأين على الضلعين الآخرين.

2) أ ب ج مثلث قائم الزاوية في ب، إذا كان أ ب = (4)سم، أ ج = (10)سم،

جد ب ج.

الحل:

$$ب ج = \sqrt{84}$$

3) ما ميل الخط المستقيم الذي يمر بالنقطتين (-1، 5) ، (2، -3)؟

الحل:

$$\text{الميل} = \frac{8}{3}$$

4) أرسم المستوى الإحداثي وعين عليه كل نقطة من النقاط الآتية:

أ (0، 0)

ب (3، 1)

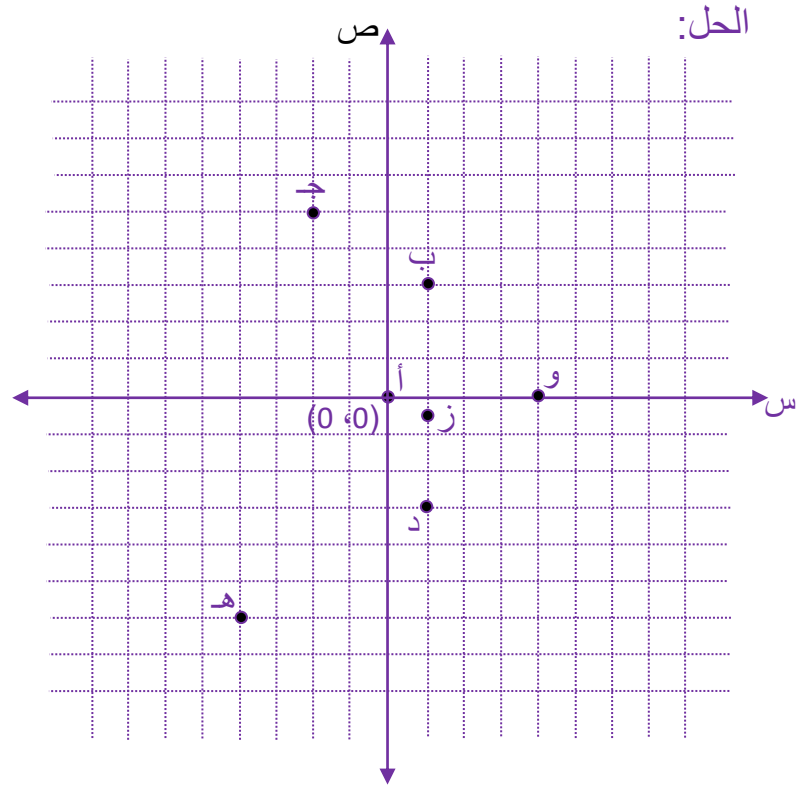
ج (-2، 5)

د (1، -3)

هـ (-4، -6)

و (0، 4)

$$ز \left( \frac{-1}{2}, 1 \right)$$



5) أي من النقاط الآتية تحقق المعادلة  $(س^2 + ص^2 - 2س = 1)$ ؟

أ  $(1, -2)$

ب  $(1, 2)$

ج  $(-2, 1)$

د  $(1, \sqrt{2})$

الحل:

ب، ج، د

6) حل كل معادلة من المعادلات الآتية:

$$\text{أ) } 17 - = 5 + 2\text{س}$$

$$\text{ب) } 5 - = \frac{3 + \text{أ}}{2}$$

$$\text{ج) } 6 - = 1 - \text{س} \frac{3}{5}$$

$$\text{د) } 11 = 5 - \text{س}^2$$

الحل:

$$\text{أ) } 11 - = \text{س}$$

$$\text{ب) } 13 - = \text{أ}$$

$$\text{ج) } \frac{25 -}{3} = \text{س}$$

$$\text{د) } 4 = \text{س}^2, 4 = \text{س}$$

7) حل كل معادلة من المعادلتين الآتيتين بإكمال المربع:

$$\text{أ) } \text{س}^2 + 6\text{س} + 5 = \text{صفرًا}$$

$$\text{ب) } \text{س}^2 - 8\text{س} - 5 = \text{صفرًا}$$

الحل:

$$\text{أ) } 4 = (3 + \text{س})^2$$

$$\text{س} = 1 - , \text{س} = 5 -$$

$$\text{ب) } 21 = (4 - \text{س})^2$$

$$\text{س} = \sqrt{21} + 4 , \text{س} = \sqrt{21} - 4$$

8) إذا كان  $(\text{س} + 1, 5) = (4, 2\text{ص} - 1)$ ، فجد قيمة كل من  $\text{س}$ ،  $\text{ص}$ .

الحل:

$$3 = س$$

$$3 = ص$$

9) جد الزوج المرتب (س، ص) الذي يحقق كلاً من المعادلتين الآتيتين معاً:

$$5 = ص + س^2$$

$$4 = ص - س$$

الحل:

$$(3, -1)$$

### الدرس (6-1) المسافة بين نقطتين

تدريب (6-1): جد طول  $\overline{ل ه}$ ، حيث  $ل(3, -1)$ ،  $ه(-2, 2)$ .

الحل:

$$ل ه = \sqrt{34}$$

تدريب (6-2): إذا كانت النقاط أ(1، 2)، ب(5، 6)، ج(7، 4)، د(3، 0) نقاطاً في المستوى الإحداثي، بيّن أن الشكل الرباعي أب ج د مستطيل.

الحل:

أطوال الأضلاع هي:

$$أب = \sqrt{32}$$

$$ج د = \sqrt{32}$$

$$ب ج = \sqrt{8}$$

$$أ د = \sqrt{8}$$

أطوال القطرين هما:

$$أ ج = \sqrt{40}$$

$$ب د = \sqrt{40}$$

أب ج د شكل رباعي فيه كل ضلعين متقابلين متساويين في الطول وقطراه متساويان، فهو مستطيل.

تدريب(6- 3): حل المسألة الواردة في بداية الدرس.

الحل:

$$\overline{أب} = \sqrt{17}$$

$$\overline{أو} = \sqrt{13}$$

(و) أقرب على (أ) من (ب)، (و) هو المركز الصحي المناسب.

### إجابات تمارين ومسائل

1) جد المسافة بين كل زوج من النقاط الآتية:

(أ) (2، -4)، (-3، 8)

(ب) (-1، 5)، (-4، 2)

(ج) (-5، 4)، (-7، 1)

(د) (م، هـ+1)، (م-5، هـ-7)

(هـ) (5، -4)، (5، 8)

الحل:

(أ) 13

(ب)  $\sqrt{58}$

(ج) 13

(د) 10

(هـ) 12

2) إذا كانت النقطة م(2، 1) تمثل موقع سيارة، والنقاط أ(5، 0)، ب(6، 2)،

جـ (4، 3) تمثل مواقع ثلاث محطات وقود، أي المحطات الثلاث أقرب إلى السيارة؟

الحل:

$$م أ = \sqrt{10}$$

$$م ب = \sqrt{17}$$

$$م ج = \sqrt{8}$$

(ج) هي المحطة الأقرب.

3) إذا كانت أ ب قطعة مستقيمة طولها (5) وحدات، وكانت أ(ل، 4)، ب(7، 1)، فجد جميع القيم الممكنة للثابت ل.

الحل:

$$ل = 3، ل = 11$$

4) م ن ل مثلث فيه م(2، 1)، ن(5، 5)، ل(-2، 4)، ما نوع المثلث م ن ل من حيث أطوال أضلاعه؟

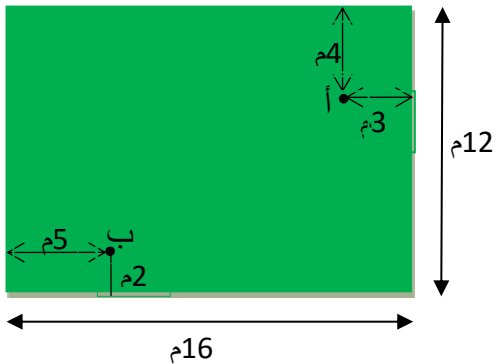
الحل:

$$م ن = 5$$

$$ن ل = \sqrt{50}$$

$$م ل = 5$$

م ن ل مثلث متساوي الساقين



الشكل (8-6)

5) يمثل الشكل (8-6) حديقة مستطيلة الشكل،

النقطتان أ، ب تمثلان موقع حنفتين لري

المزروعات، نريد أن نصل بين الحنفتين

بأنبوب مستقيم، ما طول الأنبوب؟

الحل:

النقطة أ(8، 13)، النقطة ب(5، 2)

أب = 10 م

6) إذا كانت القطعة المستقيمة أب قطراً في دائرة طول نصف قطرها 6,5سم،

وكانت النقطة أ(ع، 4-)، النقطة ب(2ع، 3+ع).

جد جميع القيم الممكنة للثابت ع.

الحل:

$$ع = 5، ع = -12$$

7) أرسم المستوى الإحداثي، وعيّن عليه النقاط الآتية:

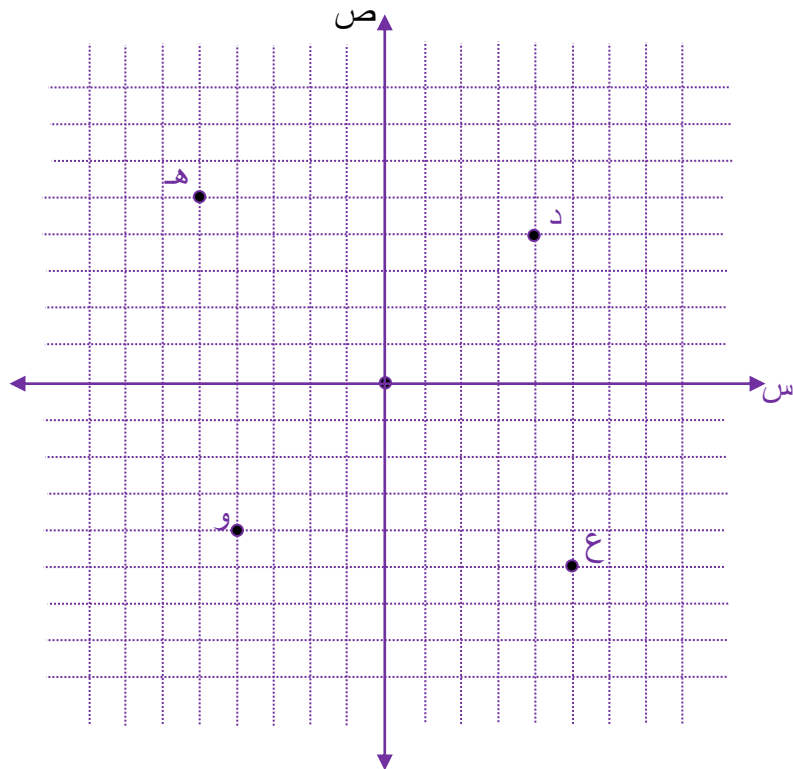
د(4، 4)، هـ(5، 5-)، و(4-، 4-)، ع(5، 5-)

أ) جد أطوال أضلاع الشكل الرباعي دهوع.

ب) ما نوع الشكل الهندسي دهوع؟

ج) جد طول كل من قطري الشكل دهوع

الحل:



$$\sqrt{82} = \text{د هـ}$$

$$\sqrt{82} = \text{هـ و}$$

$$\sqrt{82} = \text{و ع}$$

$$\sqrt{82} = \text{ع د}$$

(ب) متوازي أضلاع، معين

$$\sqrt{128} = \text{دو}$$

$$\sqrt{200} = \text{هـ ع}$$

8) دائرة مركزها النقطة م(-5، 3) وتمر بالنقطة هـ (3، 9):

(أ) ما طول قطرها؟

(ب) إذا كانت النقطة و(1، ك) تقع على الدائرة، جد جميع القيم الممكنة للثابت ك.

الحل:

$$\text{(أ) طول قطر الدائرة} = 20$$

$$\text{(ب) ك} = 11، \text{ ك} = 8$$

## الدرس (6-2) إحدائيا نقطة منتصف قطعة مستقيمة

$$\frac{\text{ص}_1 + \text{ص}_2}{2} = \text{تدريب (6-4): بيّن أن الإحدائي الصادي للنقطة جـ}.$$

الحل:

يمثل الشكل (6-10) النقطتين أ(ص<sub>1</sub>، س<sub>1</sub>)،

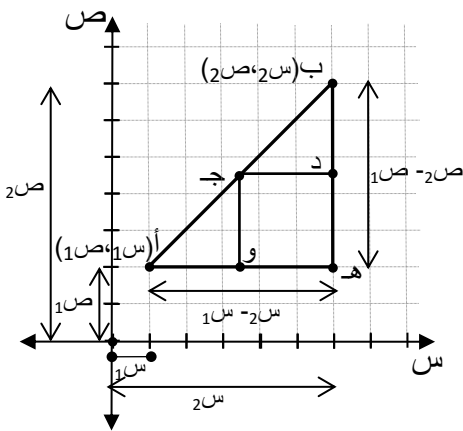
ب(ص<sub>2</sub>، س<sub>2</sub>) في المستوى الإحدائي، النقطة جـ نقطة

منتصف القطعة المستقيمة أ ب.

المثلثان جـ و أ، ب هـ أ مثلثان متشابهان.

ينتج من التشابه تناسب الأضلاع المتناظرة:

$$\frac{\text{جـ أ}}{2} = \frac{\text{جـ ب}}{\text{ب أ}} = \frac{\text{و أ}}{\text{هـ أ}} = \frac{\text{جـ و}}{\text{ب هـ}}$$





$$\frac{1}{2} = \frac{\text{ج و}}{\text{ب ه}}$$

$$\text{ج و} = \frac{1}{2} \text{ ب ه}$$

$$\text{ج و} = \frac{1}{2} (\text{ص}_1 - \text{ص}_2)$$

الإحداثي الصادي للنقطة ج = ص<sub>1</sub> + ج و

$$\text{ص}_1 + \frac{1}{2} (\text{ص}_1 - \text{ص}_2) =$$

$$\text{ص}_1 + \frac{1}{2} \text{ص}_1 - \frac{1}{2} \text{ص}_2 =$$

$$\frac{3}{2} \text{ص}_1 - \frac{1}{2} \text{ص}_2 =$$

$$\frac{\text{ص}_1 + \text{ص}_2}{2} =$$

**تدريب (6-5):** جد إحداثيي نقطة منتصف القطعة المستقيمة ج د، حيث ج

د(2، 4)، د(-2، -6)،

**الحل:**

(0، -1)

**تدريب (6-6):** إذا كانت النقطة م(4، -1)، وكانت النقطة ن(0، 2) نقطة منتصف

القطعة المستقيمة م ل، فما إحداثيا النقطة ل؟

**الحل:**

(-4، 5)

**تدريب (4):** حل المسألة الواردة في بداية الدرس.

**الحل:**

أ(23، 16)، ب(13، 10)

نقطة منتصف القطعة المستقيمة أ ب هي (18، 13)، وهي الموقع المطلوب.

### إجابات تمارين ومسائل

1) إذا كانت النقاط أ(2، -1)، ب(8، -1)، ج(8، 7) رؤوس مثلث، وكانت النقاط

د، هـ، و منتصفات الأضلاع أب، ب ج، أ ج على الترتيب:

أ) جد إحداثيي كل من النقاط د، هـ، و؟

ب) جد محيط المثلث أ ب ج.

ج) جد محيط المثلث ده و. ماذا تلاحظ؟

الحل:

أ) د(5، -1)، هـ(8، 3)، و(5، 3)

ب) محيط المثلث أ ب ج = أ ب + ب ج + أ ج

$$24 = 10 + 8 + 6 =$$

ج) محيط المثلث ده و = ده + هـ و + ده

$$12 = 4 + 3 + 5 =$$

نلاحظ أن محيط المثلث ده و =  $\frac{1}{2}$  محيط المثلث أ ب ج.

2) إذا كانت النقطة م(-2، 3) مركز المربع أ ب ج د، وكانت النقطة أ(-4، 6):

أ) جد طول قطر المربع؟

ب) جد إحداثيي النقاط ب، ج، د.

الحل:

أ) قطر المربع أ ب ج =  $2(AM) = 2(\sqrt{13})$

ب) ج(0، 0)، ب(-5، 1)، د(1، 5)

3) إذا كانت النقاط أ(س+1، 1-ص)، ب(س+2، 5)، م(5، 0، 4)، وكانت النقطة م نقطة منتصف القطعة المستقيمة أب، فما قيمة كل من س، ص؟

الحل:

$$س = 1-، ص = 4.$$

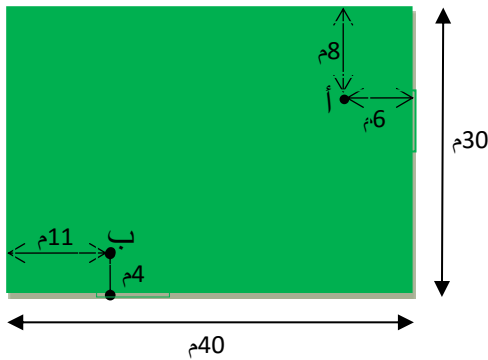
4) إذا كانت النقاط أ(س<sup>2</sup>، 2)، ب(س<sup>2</sup>+2، ص<sup>2</sup>+ص)، م(2، 4)، وكانت النقطة م نقطة منتصف أب، فجد قيم كل من س، ص.

الحل:

$$س = 1، س = 1-$$

$$ص = 2، ص = 3-$$

5) يمثل الشكل (6-11) حديقة مستطيلة الشكل،



الشكل (6-11)

النقطتان أ، ب تمثلان موقع حنفتين لري المزروعات، يريد صاحب المزرعة أن يضع حنفية ثالثة في منتصف المسافة بين الحنفتين، ساعد صاحب المزرعة في تحديد موقع الحنفية الثالثة.

الحل:

$$أ(34، 22)، ب(11، 4)$$

نقطة منتصف القطعة المستقيمة أ ب هي (5، 22، 13)، وهي الموقع المطلوب.

### الدرس (6-3) معادلة الخط المستقيم

تدريب (6-8): جد معادلة الخط المستقيم الذي ميله (-5)، ويمر بنقطة الأصل.

الحل:

$$ص = 5-$$

تدريب (6- 9): إذا كانت النقطتان أ(1-، 4) ،ب(2-، 5)، فما معادلة الخط المستقيم  
أب؟

الحل:

$$ص = -س + 3$$

تدريب (6- 10): حل المسألة الواردة في بداية الدرس.

الحل:

معادلة الخط المستقيم الذي يمثل الموقع بالنسبة للزمن هي:

$$ص = 160س$$

عندما  $س = 1,75$  ،  $ص = 280$  كم.

تدريب (6- 11): ما معادلة الخط المستقيم الذي ميله (4)، ومقطعه السيني (5)؟

الحل:

$$ص = 4س - 20$$

### إجابات تمارين ومسائل

(1) أي من النقاط الآتية تقع على الخط المستقيم الذي معادلته (  $ص = 2س - 1$  )؟

أ (2، 5)

ب (1-، 3-)

ج (3، 5)

د (م، 2م- 1)

هـ (1، 0)

و (ك+1، 2ك+1)

الحل:

ب، ج، م، و

2) أكتب معادلة الخط المستقيم في كل حالة من الحالات الآتية:

أ) ميله (-3)، ويمر بالنقطة (4، -1)

ب) يمر بالنقطتين (-1، 0)، (4، 3)

ج) ميله (2)، ومقطعه السيني (-5)

د) ميله (-1)، ومقطعه الصادي (4)

هـ) مقطعه السيني (3)، ومقطعه الصادي (-3)

و) يوازي محور السينات ومقطعه الصادي (6)

الحل:

$$\text{أ) } 11 + 3س = ص$$

$$\text{ب) } \frac{3}{5} + س = \frac{3}{5} + ص$$

$$\text{ج) } 10 + 2س = ص$$

$$\text{د) } 4 + س - = ص$$

$$\text{هـ) } 3 - س = ص$$

$$\text{و) } 6 = ص$$

3) جد إحداثيي نقطة تقاطع الخط المستقيم الذي معادلته (3س+2ص=6) مع محور السينات.

الحل:

$$(0, 2)$$

4) جد إحداثيي نقطة تقاطع الخط المستقيم الذي معادلته (5س-3ص=12) مع محور الصادات.

الحل:

(0، -4)

5) جد كلاً من المقطع السيني والمقطع الصادي للخط المستقيم الذي معادلته

$$4ص = 3س - 24$$

الحل:

المقطع السيني (8، 0)

المقطع الصادي (0، -6)

6) ما معادلة الخط المستقيم الذي ميله (-2)، ويمر بنقطة تقاطع الخط المستقيم الذي

معادلته (س+5ص=15) مع محور الصادات؟

الحل:

المقطع الصادي للمستقيم المعطى (0، 3)

المعادلة المطلوبة: ص = -2س + 3

7) الخط المستقيم ل يمر بالنقطتين (3ك، 1)، (ك، -4 ك)، وميله (2):

أ) ما قيمة الثابت ك؟

ب) ما معادلة الخط المستقيم ل؟

الحل:

أ) ك = -1

ب) ص = 2س + 7

8) جد إحداثيي نقطة تقاطع الخط المستقيم الذي معادلته 2س+3ص = 7، مع الخط

المستقيم الذي معادلته ص = 5.

الحل:

(-4، 5)

9) جد نقطة تقاطع الخط المستقيم الذي معادلته  $s - 3 = -2v$ ، مع الخط المستقيم الذي معادلته  $s + v = 6$

الحل:

$$(2, 4)$$

10) إذا كانت النقطتان أ(2، 3)، ب(-2، 4)، وكان الخطان المستقيمان أ ج ، ب ج متقاطعين في النقطة ج ، وكان ميل كل منهما -1، 2 على الترتيب، ما إحداثيا النقطة ج ؟

الحل:

$$(-1, 6)$$

11) إذا كانت النقاط ن(1، 3)، هـ (3، -3)، ك(2، -4)، و(1، -1) نقاطاً في المستوى الإحداثي، فجد:

أ) معادلة الخط المستقيم ن هـ.

ب) معادلة الخط المستقيم ك و.

ج) نقطة تقاطع الخطين المستقيمين ن هـ ، ك و(إن وجدت).

الحل:

$$أ) \quad s - 3 = -2v + 6$$

$$ب) \quad s - 3 = 2v + 2$$

ج) لا يوجد، أي أن المستقيمين متوازيان.

### الدرس(6- 4) معادلة الدائرة

تدريب(6- 12): ما معادلة الدائرة التي مركزها نقطة الأصل وتمر بالنقطة

$$(-1, 6)؟$$

الحل:

$$s^2 + v^2 = 37$$

تدريب(6- 13): إذا كانت النقطتان أ(5، -12)، ب(-5، 12) نهايتي قطر في دائرة

مركزها النقطة م:

أ) ما إحداثيا مركز الدائرة م؟

ب) ما طول نصف قطر الدائرة؟

ج) ما معادلة الدائرة؟

الحل:

أ) م(0، 0)

ب) طول نصف قطر الدائرة = 13

ج)  $س^2 + ص^2 = 169$

تدريب(6- 14)

أ) جد معادلة الدائرة التي مركزها النقطة(7، 0) وتمر بالنقطة(-1، 6).

ب) جد إحداثيي نقطة المركز وطول قطر الدائرة التي معادلتها

$49 = (س - 5)^2 + (ص + 3)^2$

الحل:

أ) (س-7)  $ص^2 + 100 = 2$

ب) المركز (5، -3)، طول نصف قطر الدائرة = 7

تدريب(6- 15): جد إحداثيي نقطة المركز وطول قطر الدائرة التي معادلتها

$س^2 + ص^2 + 2س - 6ص - 15 = 0$  صفراً

الحل:

الصورة القياسية لمعادلة هذه الدائرة هي:  $(س+1)^2 + (ص-3)^2 = 5^2$

المركز (-1، 3)، طول نصف القطر = 5



تدريب(6- 16): حل تدريب(6- 15) باستخدام الصورة العامة لمعادلة الدائرة.

الحل:

المركز(د، هـ) = (- نصف معامل س، - نصف معامل ص)

المركز(-1، 3)

$$5 = \sqrt{(15-)^2 + (1-)^2} \quad \text{طول نصف القطر}$$

تدريب(6- 17): حل المسألة الواردة في بداية الدرس.

الحل:

أ) دائرة.

$$\text{ب) } س^2 + ص^2 = 3600$$

### إجابات تمارين ومسائل

1) اكتب معادلة الدائرة في كل حالة من الحالات الآتية:

أ) مركزها نقطة الأصل وطول نصف قطرها 2 وحدة.

ب) مركزها النقطة (-1، 3) وطول قطرها 14 وحدة.

ج) مركزها النقطة (4، -1) وتمر بالنقطة (9، -2).

د) مركزها النقطة (5، 3) وتمس محور السينات.

هـ) طول قطرها 6 وحدات وتمس كلاً من محور السينات ومحور الصادات

(جد جميع الحلول الممكنة).

الحل:

$$\text{أ) } س^2 + ص^2 = 4$$

$$\text{ب) } (س+1)^2 + (ص-3)^2 = 7^2$$

$$\text{ج) } (س-4)^2 + (ص+1)^2 = 26$$

$$\text{د) } (س-5)^2 + (ص-3)^2 = 3^2$$

$$\text{هـ) } (س-3)^2 + (ص-3)^2 = 3^2$$

$$^2(3) = ^2(3 - \text{ص}) + ^2(3 + \text{س})$$

$$^2(3) = ^2(3 + \text{ص}) + ^2(3 + \text{س})$$

$$^2(3) = ^2(3 + \text{ص}) + ^2(3 - \text{س})$$

(2) جد إحداثيي المركز وطول نصف قطر الدائرة التي معادلتها:

$$\text{أ) } \text{س}^2 + \text{ص}^2 = 121$$

$$\text{ب) } 18 = ^2(4 + \text{س}) + ^2(2 - \text{ص})$$

$$\text{ج) } 36 = ^2(12 + 3\text{ص}) + ^2(6 - 3\text{س})$$

$$\text{د) } \text{س}^2 + \text{ص}^2 = 4\text{س} - 10\text{ص} - 28$$

$$\text{هـ) } \text{س}^2 + \text{ص}^2 - 8\text{س} = 12$$

الحل:

$$\text{أ) المركز } (0, 0), \text{ طول نصف القطر} = 11$$

$$\text{ب) المركز } (2, -4), \text{ طول نصف القطر} = \sqrt{18}$$

$$\text{ج) المركز } (2, -4), \text{ طول نصف القطر} = 2$$

$$\text{د) المركز } (2, -5), \text{ طول نصف القطر} = 1$$

$$\text{هـ) المركز } (0, 4), \text{ طول نصف القطر} = \sqrt{28}$$

(3) حدد موقع كل نقطة من النقاط الآتية بالنسبة للدائرة التي معادلتها

$$9 = ^2(1 + \text{ص}) + ^2(5 - \text{س})$$

$$\text{ن) } (2, -1), \text{ و } (1, 0), \text{ ل) } (4, -2), \text{ ك) } (5, -1)$$

الحل:

النقطة ن على الدائرة

النقطة و خارج الدائرة

النقاط ل، ك داخل الدائرة

4) ما معادلة الدائرة التي مركزها النقطة (4، 1) وتمس الخط المستقيم الذي

معادلته  $v = -2$ ؟

الحل:

طول نصف قطرها = بعد المركز (4، 1) عن المستقيم الأفقي الذي معادلته

$v = -2$

طول نصف القطر = 3

معادلة الدائرة هي:  $(s-4)^2 + (v-1)^2 = 3^2$

5) ما معادلة الدائرة التي يقع مركزها على الخط المستقيم الذي معادلته  $s = 5$ ،

وتمس محور الصادات عند النقطة (0، 3)؟

الحل:

المركز (5، 3)، وطول نصف قطرها = 5

معادلة الدائرة هي:  $(s-5)^2 + (v-3)^2 = 5^2$

**مراجعة**

1) إذا كانت النقطتان أ(-5، 1)، ب(0، -3) نقطتين في المستوى الإحداثي،

فأجب عما يأتي:

أ) جد طول القطعة المستقيمة أ ب.

ب) جد إحداثيي نقطة منتصف القطعة المستقيمة أ ب.

ج) جد معادلة الخط المستقيم أ ب.

د) جد معادلة الدائرة التي تكون أ ب قطراً فيها.

الحل:

أ)  $\overline{AB} = \sqrt{41}$

ب) (-2.5، -1)

$$(ج) ص = -0,8س - 3$$

$$(د) 41 = (ص + 1)^2 + (س + 2,5)^2$$

(2) إذا كانت النقطتان م(-1، 7)، ن(س، 1) نقطتين في المستوى الإحداثي، وكانت النقطة ج(3، ص) نقطة منتصف القطعة المستقيمة م ن، فما قيمة كل من س، ص؟

الحل:

$$س = 7، ص = 4$$

(3) إذا كانت النقاط ل(-1، 3)، ن(5، 1)، هـ(1، -1) رؤوس مثلث، فجد معادلة الخط المستقيم الذي يمر بنقطة منتصف الضلع ن ل، والرأس هـ.

الحل:

منتصف الضلع ن ل هي النقطة (2، 2)

معادلة المستقيم هي: ص = 3س - 4

(4) جد معادلة الخط المستقيم في كل مما يأتي:

(أ) ميله 4، ويمر بالنقطة (-1، 7)

(ب) يمر بالنقطتين (2، -1)، (5، 13)

(ج) ميله (-3) ويمر بنقطة الأصل.

(د) مقطعه الصادي 6، ويوازي محور السينات.

(هـ) مقطعه السيني (-3)، ومقطعه الصادي (2).

الحل:

$$(أ) ص = 4س + 11$$

$$(ب) ص = \frac{14}{3}س - \frac{31}{3}$$

$$\text{ج) ص} = 3 - \text{س}$$

$$\text{د) ص} = 6$$

$$\text{هـ) ص} = \frac{2}{3} \text{س} + 2$$

5) إذا كانت النقاط أ(1، 6)، ب(-1، 2)، ج(5، 1) نقاطاً في المستوى الإحداثي، فما معادلة الدائرة التي مركزها نقطة منتصف القطعة المستقيمة أب، وتمر بالنقطة ج؟

الحل:

$$\text{المركز (0، 4)}$$

$$\sqrt{34} = \text{طول نصف القطر}$$

$$\text{معادلة الدائرة هي: (س) + 2(ص - 4) = 34}$$

6) ما معادلة الخط المستقيم الذي ميله (2)، ويمر بمركز الدائرة التي معادلتها

$$(2 - \text{س})^2 + (2 + \text{ص})^2 = 100?$$

الحل:

$$\text{المركز (1، -2)}$$

$$\text{المعادلة: ص} = 2 - \text{س} - 4$$

7) إذا كان أب ج مثلثاً فيه النقطة أ(2، 3)، وكانت النقطة د(3، 5) منتصف القطعة المستقيمة أب، النقطة هـ (-1، 5، 4) منتصف القطعة المستقيمة أج:

أ) جد إحداثيي كل من النقطتين ب، ج .

ب) بين أن المثلث أب ج قائم الزاوية في أ.

الحل:

$$\text{أ) ب(4، 7)، ج(-4، 6)}$$

$$\text{ب) أ(2، 3)، ب(4، 7)، ج(-4، 6)}$$

$$\sqrt{20} = \text{أب}، \sqrt{65} = \text{ب ج}، \sqrt{45} = \text{أ ج}$$

(أب)<sup>2</sup> + (أج)<sup>2</sup> = (ب ج)<sup>2</sup>، أي أن المثلث أب ج قائم الزاوي في أ حسب

معكوس نظرية فيثاغورس.

(8) جد إحداثيي المركز وطول نصف قطر الدائرة التي معادلتها:

$$\text{أ) } 64 = \text{ص}^2 + \text{س}^2$$

$$\text{ب) } 81 = \text{ص}^2 + (1 + \text{ص})^2$$

$$\text{ج) } 36 = (2 - \text{س})^2 + (2 + \text{ص})^2$$

$$\text{د) } 12 = 2\text{ص}^2 + 2\text{س}^2 - 4\text{ص} - 12$$

الحل:

$$\text{أ) المركز } (0, 0)، \text{ طول نصف القطر } = 8$$

$$\text{ب) المركز } (0, -1)، \text{ طول نصف القطر } = 9$$

$$\text{ج) المركز } (3, -6)، \text{ طول نصف القطر } = 3$$

$$\text{د) المركز } (1, -3)، \text{ طول نصف القطر } = 2$$

(9) إذا كانت النقطة ك(ن، 1-) تقع على محيط الدائرة التي معادلتها

$$40 = (1 - \text{س})^2 + (5 - \text{ص})^2$$

جد جميع القيم الممكنة للثابت ن.

الحل:

$$\text{ن} = 3، \text{ن} = 1-$$

(10) جد إحداثيي كل من نقطتي تقاطع الخط المستقيم الذي معادلتها (ص = 3) مع

$$\text{الدائرة التي معادلتها } (2 + \text{س})^2 + (5 - \text{ص})^2 = 29$$

الحل:

$$(3, 3)، (3, -7)$$

## اختبار ذاتي

1) يتكون هذا السؤال من ثمان فقرات من نوع الاختيار من متعدد، لكل فقرة أربعة

بدائل، واحد منها فقط صحيح، ضع دائرة حول رمز البديل الصحيح لكل فقرة:

(1) إذا كانت النقطتان و(2، 1)، م(-2، 2) نقطتين في المستوى الإحداثي،

فإن طول القطعة المستقيمة وم يساوي:

أ) 7      ب) 25      ج) 5      د) 1

(2) ما طول نصف قطر الدائرة التي معادلتها  $9س^2 + 9ص^2 = 900$ ؟

أ) 450      ب) 30      ج) 50      د) 10

(3) ما إحداثيا مركز الدائرة التي معادلتها  $س^2 + 2ص - 6س + 8ص - 10 = 0$ ؟

أ) (3، -4)      ب) (-3، 4)      ج) (6، -8)      د) (-6، 8)

(4) أي من النقاط الآتية تقع على محيط الدائرة التي معادلتها

$$س^2 + (ص-1)^2 = 25؟$$

أ) (5، 0)      ب) (0، 5)      ج) (0، 4)      د) (0، -4)

(5) إذا كانت النقطتان هـ (1، 3)، و(3، -1) نقطتين في المستوى الإحداثي،

وكانت النقطة هـ نقطة منتصف القطعة المستقيمة و ل، فما إحداثيا النقطة ل؟

أ) (2، 1)      ب) (-1، 7)      ج) (4، 2)      د) (1، -7)

(6) معادلة الخط المستقيم الذي ميله (5) ويمر بنقطة الأصل هي:

أ)  $ص = 5$       ب)  $ص = 5س$       ج)  $ص = 5 + س$       د)  $ص = 5س$

(7) أي من المعادلات الآتية تمثل معادلة دائرة؟

أ)  $س^2 + 25 = ص$       ب)  $س^2 - 25 = ص$

ج)  $س^2 + 4ص = 25$       د)  $س^2 - 25 = 2ص$

(8) ميل الخط المستقيم الذي معادلته  $(ص-3)2 = (3-س)$  يساوي:

أ) 3      ب) -3      ج) -2      د) 2

الحل:

$$(1) \text{ ج } 5$$

$$(2) \text{ د } 10$$

$$(3) \text{ أ } (3, -4)$$

$$(4) \text{ د } (0, -4)$$

$$(5) \text{ ب } (-1, 7)$$

$$(6) \text{ ب } \text{ص} = 5\text{س}$$

$$(7) \text{ د } \text{س}^2 = 25 - \text{ص}^2$$

$$(8) \text{ ج } -2$$

(2) أ ب ج مثلث رؤوسه النقاط أ(1، 1)، ب(1، 7)، ج(8، 4):

أ) بيّن أن المثلث أ ب ج متساوي الساقين.

ب) ما مساحة المثلث أ ب ج؟

الحل:

$$\text{أ) } \overline{\text{أج}} = \overline{\text{بج}} = \sqrt{58}, \text{ نلاحظ أن } \overline{\text{أج}} = \overline{\text{بج}}$$

ب) القاعدة أ ب = 6، الارتفاع = بعد النقطة ج عن القاعدة أ ب = 7

مساحة المثلث أ ب ج = 21 وحدة مربعة.

(3) ما معادلة الخط المستقيم الذي يمر بالنقطتين (-1، 5)، (1، -3)؟

الحل:

$$\text{ص} = -4\text{س} + 1$$

(4) ما معادلة الدائرة التي طول قطرها (10) وحدات ومركزها النقطة

$$(-2, 1)؟$$

الحل:

$$(5)^2 = (2 + \text{س})^2 + (1 - \text{ص})^2$$



5) إذا كانت النقاط ك(3، 1)، ن(-1، -5)، ل(س، ص) نقاطاً في المستوى الإحداثي، وكان ميل الخط المستقيم ك ل يساوي (1)، وميل الخط المستقيم ن ل يساوي (2)، فجد إحداثيي النقطة ل.

الحل:

(1، -1)

6) إذا كانت النقطة (3، 5) تقع على محيط دائرة مركزها النقطة (د، 2)، وكان طول نصف قطر الدائرة يساوي 5:

أ) جد جميع القيم الممكنة للثابت د.

ب) جد معادلة الدائرة في كل حالة.

الحل:

$$\text{أ) د} = 7, \text{ فتكون معادلة الدائرة: (س-7)}^2 + \text{(ص-2)}^2 = 5^2$$

$$\text{د} = -1, \text{ فتكون معادلة الدائرة: (س+1)}^2 + \text{(ص-2)}^2 = 5^2$$