

ملاحظة : عدد أسئلة الورقة ( ستة ) أسئلة أجب عن ( خمسة ) أسئلة فقط على أن يكون السؤال ( الأول ) منها .

السؤال الأول: (20 علامات)

ضع إشارة (×) على رمز الإجابة الصحيحة على الورقة المخصصة في دفتر الإجابة:

1- الطريقة التي تستعمل لتعقيم وقتل الجراثيم في غرف العمليات ومختبرات الأبحاث هي:

أ- التسخين      ب- التبريد والتجميد      ج- الأشعة فوق البنفسجية      د- المواد الكيميائية

2- ينتقل مرض الحصبة الألمانية من شخص إلى آخر عن طريق :

أ- الجلد      ب- الجهاز التنفسي      ج- الجهاز الهضمي      د- جهاز الدوران.

3- عدد جزيئات الجلوكوز الناتجة من استهلاك (30) جزيئاً من CO<sub>2</sub> في حلقة كالفن:

أ- 20      ب- 10      ج- 15      د- 5

4- النسخ هي العملية التي يتم بها إنتاج:

أ- mRNA فقط      ب- mRNA و tRNA و mRNA

ج- mRNA و tRNA و rRNA      د- mRNA وبروتين

5- نسبة ظهور الطراز الجيني GgRr في أفراد الجيل الأول لأبوين طرازهما الجيني GgRr هي:

أ-  $\frac{4}{16}$       ب-  $\frac{8}{16}$       ج-  $\frac{2}{16}$       د-  $\frac{1}{16}$

6- عدم قدرة الجينات على إنتاج إنزيم هيدروكسيليز يتسبب في مرض:

أ- كرابي      ب- فنيل كيتونيوريا      ج- الأنيميا المنجلية      د- الثلاسيميا

7- مفاصل الجمجمة في الإنسان:

أ- جميعها ثابتة      ب- جميعها متحركة

ج- معظمها ثابت، وبعضها متحرك      د- معظمها متحرك، وبعضها ثابت

8- أحد الآتية يبقى طوله ثابتاً في حالتي انقباض وانبساط اللييف العضلي:

أ- شريط 1      ب- القطعة العضلية      ج- منطقة H      د- شريط A

9- البروتين المناعي الذي يتواجد في حليب الأم بعد الولادة ويزود المولود بالمناعة:

أ- IgG      ب- IgE      ج- IgA      د- IgD

10- نقص عنصر اليود في الجسم يؤثر على الغدة:

أ- النخامية      ب- الدرقية      ج- الجاردرقية      د- الفوق كلوية

السؤال الثاني : (20 علامة)

- أ- تلجأ البكتيريا لإحداث المرض في جسم الانسان بعدة طرق، اذكر هذه الطرق. (6 علامات)
- ب- وضح بخطوات آلية إنتاج العامل المخثر للدم باستخدام تكنولوجيا الحيوانات المهندسة جينياً. (8 علامات)
- ج- ما التغيرات التي يحدثها إفراز هرمون الغلوكاغون في الخلايا المستقبلية؟ (6 علامات)

السؤال الثالث: (20 علامة)

- أ- لا يمكن تنمية الفيروسات في مزارع خاصة كالبكتيريا. (6 علامات)
- 1- كيف تنمى الفيروسات في المختبر؟
- 2- ما أهداف تنمية الفيروسات؟
- ب- تتأثر عملية البناء الضوئي بعدة عوامل بيئية:
- 1- اذكر هذه العوامل.
- 2- عرف نقطة التشبع الضوئي.
- ج- وضح خطوات مرحلة بدء السلسلة في عملية ترجمة البروتين.
- د- شاب فصيلة دمه (O) ، غير معروف بالنسبة لنزف الدم تزوج فتاة فصيلة دمها غير معروفة (فصيلة دم والدها (B) نقية ) لكنها سليمة من نزف الدم (R) . أنجبا طفلة فصيلة دمها (A) ومصابة بنزف الدم.
1. اكتب الطرز الجينية للشاب والفتاة.
2. اكتب الطرز الجينية لغاميتات الشاب.
3. ما مبدأ الوراثة لصفة نزف الدم؟

السؤال الرابع: (20 علامة)

- أ- قارن بين ألياف الكولاجين والألياف المرنة من حيث:
- 1- التركيب.
- 2- الوظيفة.
- ب- علل:
- 1- تتغذى بعض أنواع البكتيريا تغذية ذاتية دون استخدام الطاقة الضوئية.
- 2- يعطى هرمون الاوكسيتوسين للحوامل أحياناً عند تعسر الولادة.
- ج- وضح تركيب الحزام الصدري في الإنسان. (5 علامات)
- د- اذكر أسباب الإصابة بالاختلالات الآتية: (7 علامات)
- 1- الروماتيزم.
- 2- الحساسية.
- 3- تشنج العضلات.

لاحظ الصفحة التالية

يتبع صفحة ( 3 )



السؤال الخامس : (20 علامة)

ج- أجري تلقيح بين نبات بازلاء قصير الساق أملس البذور مع نبات آخر مجهول الطراز الشكلي،

فظهرت النتائج الآتية:

(8 علامات)

100% نباتات طويلة الساق ، 75% نباتات ملساء البذور ، 25% نباتات مجعدة البذور.

فإذا علمت أن جين طول الساق (T) سائد على جين قصر الساق (t) ، وجين البذور الملساء (A) سائد على جين البذور المجعدة (a) . اكتب:

1. الطرز الجينية للأبوين.
2. الطراز الشكلي لنبات البازلاء المجهول.
3. الطرز الجينية لغاميتات الأبوين.
4. ما احتمال ظهور نباتات طويلة الساق مجعدة البذور في الجيل الناتج؟

(6 علامات)

ب- وضح المقصود بالمصطلحات الآتية:

3- الجينات القاتلة.


2- آلية التغذية الراجعة المثبطة.

1- الانتقال الفيروسي.


(6 علامات)

ج- في الشكل المجاور ، تمثل أجزاء السلاسل (س،ص،ع)


أنواع الحموض النووية الثلاثة المشتركة في عملية بناء البروتين.



1- اكتب أسماء الحموض النووية التي تمثلها أجزاء السلسلة (س، ص ، ع).



2- اكتب الشيفرة الوراثية التي تمثلها كل من الأرقام ( 1 ، 2 ، 3 ) .



السؤال السادس: (20 علامة)

(7 علامات)

أ- عدد آليات خط الدفاع العام في جسم الانسان.

ب- ما وظيفة كل من:

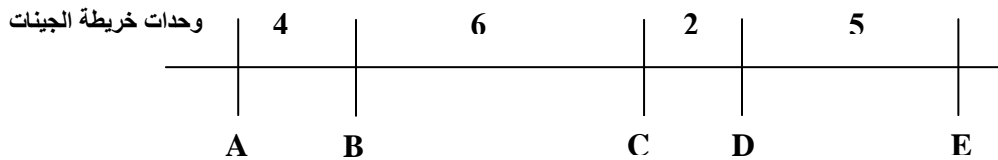
(8 علامات)

4- الطحال rRNA -3

2- النسيج الطلائي الحرشفي البسيط

(5 علامات)

ج- يمثل الرسم جزءاً من خريطة جينات لأحد الكروموسومات.



1- ما نسبة تكرار عملية العبور بين الأزواج الآتية من الجينات: A و D ، B و E ؟

2- ما نسبة الارتباط بين الأزواج الآتية من الجينات: A و C ، A و E ، D و B ؟

انتهت الأسئلة