

ورقة عمل

درس العدد النسبي

الصف السابع فا

السؤال الأول :

الأعداد الآتية جميعها أعداد نسبية ، اذكر السبب :

$\frac{7}{9}$ ، $٠,٠١$ ، -٢٠ ، $٥\frac{٢}{٣}$ ، $٥,٠٠٥$ ، ٠

السؤال الثاني :

مثل العددين $\frac{٣}{٤}$ ، $-\frac{٣}{٤}$ على خط الأعداد

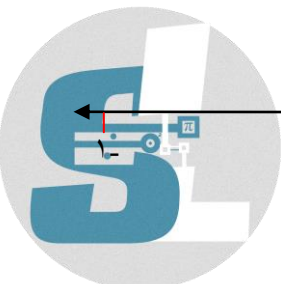


مثل العدد $\frac{٣}{١٠}$ على خط الأعداد




مثل العدد $٢\frac{٥}{٧}$ على خط الأعداد

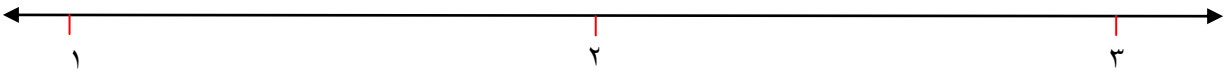
المعلمة : سلسبيل الخطيب



مثل العدد ١,٧٥ على خط الأعداد



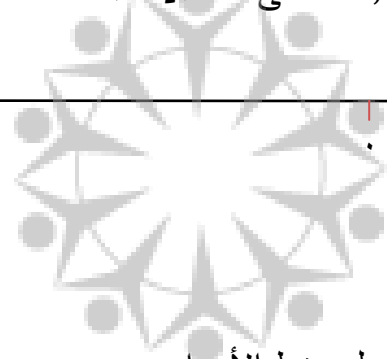
مثل العدد ٢,٣ على خط الأعداد



مثل العدد - ١,٢٥ على خط الأعداد



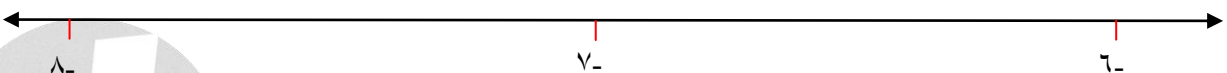
منهاجي
متعة التعليم الهادف



مثل العدد $3 \frac{5}{6}$ على خط الأعداد



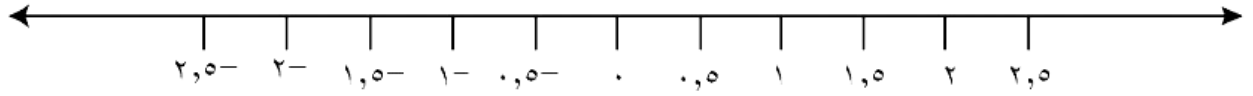
مثل العدد - $7 \frac{2}{3}$ على خط الأعداد



المعلمة : سلسبيل الخطيب

السؤال الثالث :

مثل الأعداد النسبية الآتية : ١,٢٥ ، -١,٥ على خط الأعداد



السؤال الرابع :

معتدا على خط الأعداد الآتي ، أجب عن الأسئلة التي تليه :



(١) ما العدد النسبي الذي يمثله الرمز م ؟

(٢) ما العدد النسبي الذي يمثله الرمز و ؟

إعداد المعلمة : سلسبيل الخطيب

للحصول على شرح كامل الدروس يُمكنك الاشتراك بدورة الرياضيات للمعلمة سلسبيل الخطيب

لطلبة الصف السابع على موقع منهاجي

للاستفسار عن الدورات : ٠٧٩٦٩٤٩١١٧

للتواصل مع المعلمة سلسبيل الخطيب : ٠٧٨٨٧٧١٧٢٤



SALSABEEL AL-KHATEEB

المعلمة : سلسبيل الخطيب