

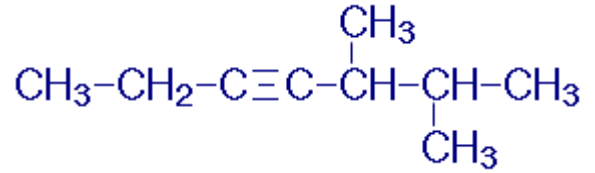
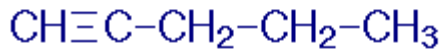


تسمية الألكينات

شبكة منهاجي التعليمية

سؤال (١):

سمّ المركبين الآتيين:



المركب الأيمن: ٥، ٦-ثنائي ميثيل -٣- هبتاين.

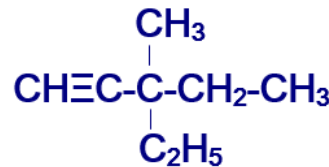
المركب الأيسر: ١- بنتاين.

سؤال (٢):

اكتب الصيغة البنائية، والصيغة الجزيئية للمركب العضوي:

٣- إيثيل - ٣ - ميثيل -١- بنتاين.

الصيغة البنائية:



الصيغة الجزيئية: C_8H_{14}

سؤال (٣):

حدد الخطأ في اسم المركب ٢-إيثيل-٥-هكسايين.

الخطأ في اختيار أطول سلسلة، وفي الترقيم.

الاسم الصحيح: ٥-ميثيل-١-هبتاين.

شبكة منهاجي التعليمية