



الخلايا

انظر واتساءل

ماذا أرى في الصورة؟ هل سبق أن شاهدته من قبل؟ كل واحد من هذه الصناديق صغير جداً، ولا أستطيع رؤيته إلا بالمجهر.

أحتاج إلى:



بصلة



ورقة نبات



عدسة مكبرة



مجهر



شرائح محضرة لبشرة ساق

البصل وورقة نبات

الخطوة ٣



مِمَّ تتكوّنُ المخلوقاتُ الحيّةُ؟

الهدفُ

أستخدمُ أساليبَ ملاحظةٍ مختلفةٍ لاستكشافِ أجزاءِ النباتِ.

الخطواتُ

١ **أستنتجُ.** أرسمُ نباتَ البصلِ، وأكتبُ أجزاءَهُ عليه، وأبينُّ كيفَ يساعدُ كلُّ جزءٍ منها النباتَ على العيشِ.

٢ أطلبُ إلى معلّمي أن يقطعَ النباتَ طويلاً، وأرسمُ الأجزاءَ كما أشاهدُها، وأكتبُ أسماءَها.

٣ **ألاحظُ.** أستخدمُ العدسةَ المكبرةَ لمشاهدةِ بشرةِ ساقِ البصلِ، والورقةِ، ثمَّ أرسمُ ما أشاهدُه.

٤ أطلبُ إلى معلّمي أن يحضّرَ شريحةً لبشرةِ ساقِ البصلِ، وشريحةً أخرى لورقةِ نباتٍ، ثمَّ أشاهدُ الشريحتينِ تحتَ المجهرِ، وأرسمُ ما أشاهدُه مستخدماً القوتينِ الصّغرى والكبرى للمجهرِ.

أستخلصُ النتائجَ

٥ **أتواصلُ.** كيفَ تغيّرتُ ملاحظاتي عندَ استعمالِ القوّةِ الكبرى للمجهرِ.

٦ **أفسّرُ البياناتِ.** ممَّ تتركّبُ كلُّ من بشرةِ ساقِ البصلِ وبشرةِ ورقةِ النباتِ كما تبدو لي؟

أستكشفُ أكثرَ

ماذا يمكنُ أن أشاهدَ إذا فحصتُ جذورَ البصلِ؛ أضعُ خطةً للتحقُّقِ من ذلك، ثمَّ أجربُها.

أَقْرَأْ وَ اتَعَلَّمْ

السؤال الأساسي

كيف تُنظَّم المخلوقات الحية؟

المفردات

الخلية

الأكسجين

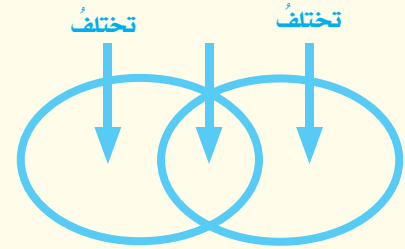
النسيج

العضو

الجهاز الحيوي

مهارَة القراءة

المقارنة



ما المخلوقات الحية؟

النباتات والحيوانات مخلوقات حية، خلقها الله تعالى من خلايا. فجسمي يتكوّن من خلايا، وكذلك أجسام النمل ونبات البصل.

الخلية أصغر وحدة في بناء المخلوقات الحية.

المخلوقات الحية لها حاجات

قد يتكوّن المخلوق الحيّ من ملايين الخلايا، أو من خلية واحدة، وفي كل حالة، تحتاج جميع المخلوقات الحية إلى الماء، والغذاء، وإلى مكان لتعيش فيه، كما أنّها تحتاج إلى **الأكسجين** وهو غاز موجود في الهواء وفي الماء.

المخلوقات الحية تتكاثر

يقوم المخلوق الحيّ بخمس وظائف أساسية للحياة، منها التكاثر، وهو إنتاج مخلوقات حية جديدة من النوع نفسه، ويقوم به أب واحد أو يشترك فيه أبوان معاً. والطيور الصغيرة بين الطائرين في الصورة هي من نسلهما. وكلمة النسل تعني الأفراد الجديدة التي تنتج عن تكاثر المخلوقات الحية.

المخلوقات الحية تنمو



المخلوقات الحية تتكاثر



وظائف أخرى

عندما تنمو السحلية وتكبر ينسلخ عنها جلدها، ولكن ليس كل الحيوانات يحدث لها ذلك، رغم أن جميعها تنمو وتكبر. ولكي تقوم بذلك فإنها تحتاج إلى الطاقة. فكيف تحصل عليها؟ تحصل المخلوقات الحيّة على الطاقة من الغذاء الذي تأكله؛ فالماعز الذي يبدو في الصورة يتغذى على الحشائش. وبعض المخلوقات الحيّة ومنها النباتات تصنع غذاءها بنفسها.

وبعد أن يتناول المخلوق الحيّ غذاءه لا بد أن يتخلص من الفضلات. ويمكن تعريف الغذاء الذي يتناوله المخلوق الحيّ من الفضلات التي يطرؤها.

ومن الوظائف التي تُميّز المخلوقات الحيّة أنّها تستجيب لتغيرات البيئة من حولها. تُرى، لماذا تأخذ جميع نباتات تباع الشمس في الصورة الاتجاه نفسه؟ نبات تباع الشمس مثله مثل سائر النباتات، ينمو في اتجاه الضوء. ويسمى نمو النباتات في اتجاه ضوء الشمس الانتحاء الضوئي.

أختبر نفسي



أقارن. كيف تختلف النباتات عن الحاسوب؟

التفكير الناقد. هل أنا مخلوق حيّ؟ لماذا؟

أيها مخلوق حيّ؟

وظيفة الحياة	السحلية	الصخر	السيارة
هل تنمو؟	✓	✗	✗
هل تحتاج إلى الغذاء؟	✓	✗	✓
هل تخرج فضلات؟	✓	✗	✓
هل تتكاثر؟	✓	✗	✗
هل تستجيب لتغيرات البيئة؟	✓	✗	✗

أقرأ الجدول

هل السيارة مخلوق حيّ؟

إرشاد: أبحث هل تقوم السيارة بالوظائف الخمسة التي تقوم بها المخلوقات الحيّة؟

تتخلص المخلوقات الحيّة من الفضلات.



تستجيب المخلوقات الحيّة للتغيرات.



تحتاج المخلوقات الحيّة إلى الغذاء للحصول على الطاقة.



فيم تتشابه الخلايا النباتية والخلايا الحيوانية، وفيم تختلف؟

جميع الخلايا لها أجزاء صغيرة تساعدُها على البقاء حيَّة. لكنَّ هذه الأجزاء تختلفُ من خليةٍ إلى أخرى. فالخلايا النباتية لها أجزاء لا يوجدُ مثلها في الخلايا الحيوانية.

الخلايا النباتية فيها كلوروفيل

تحتوي معظمُ الخلايا النباتية على أجزاء خضراء تسمى البلاستيدات الخضراء، وهي مملوءة بمادة خضراء تسمى الكلوروفيل، تساعدُ النبات على صنع غذائه باستخدام ضوء الشمس. أمَّا الخلية الحيوانية فلا تحتوي على البلاستيدات أو الكلوروفيل.

الخلايا النباتية لها جدار خلوي

هناك جدارٌ صلبٌ يحيطُ بالخلية النباتية يسمى الجدار الخلوي، يعطيها شكلاً يشبه الصندوق. أمَّا الخلايا الحيوانية فليس لها جدارٌ خلوي، ولكن لها غشاءً خلويًا. والخلايا الحيوانية شكلها مستديرٌ غالبًا.

١ جدارُ الخلية: تركيبٌ صلبٌ يدعمُ ويحمي الخلية النباتية.

٢ الميتوكوندريا: يُحرقُ الغذاء في هذا الجزء ليزوِّد الخلية بالطاقة اللازمة.

٣ البلاستيدات الخضراء: تُعدُّ مصانع الغذاء في الخلية، وتحتوي على مادة الكلوروفيل.

٤ النواة: تركيبٌ يتحكَّم في جميع أنشطة الخلية.

٥ الكروموسوم: تركيبٌ يتحكَّم في تشكُّل ونمو الخلية.



الخلية النباتية

أجزاء الخلية

خلايا نباتية	خلايا حيوانية	
		
✓	✗	جدار الخلية
✓	✓	غشاء الخلية
✓	✗	البلاستيدات
✓	✓	النواة
كبيرة	صغيرة	الفجوة العصارية
✓	✓	السيتوبلازم
✓	✓	الميتوكوندريا
✓	✓	الكروموسومات



الخلية الحيوانية

أقرأ الجدول

فيم تتشابه الخلايا النباتية مع الخلايا الحيوانية، وفيم تختلف؟

إرشاد: أقرأ أجزاء الخلية النباتية، وأقارن بينها وبين أجزاء الخلية الحيوانية.

أختبر نفسي



أقارن. فيم يختلف جدار الخلية عن غشاء الخلية؟

التفكير الناقد. هل يمكن للخلية الحيوانية أن تكون خضراء اللون؟ لماذا؟

٦ **الفجوة العصارية:** تركيب في الخلية يخزن الماء والغذاء والفضلات. الخلايا النباتية تحتوي على فجوة أو فجوتين، أما الخلايا الحيوانية فتحتوي على العديد من الفجوات.

٧ **غشاء الخلية:** غطاء رقيق جداً يحيط بالخلية، أما في الخلية النباتية فهو موجود داخل جدار الخلية.

٨ **السيتوبلازم:** مادة شبه سائلة، يتكون معظمها من الماء، وتحتوي على بعض المواد الكيميائية المهمة.

كيف تنتظم الخلايا؟

هناك خلايا أخرى تحتوي على الكلوروفيل، وتقوم بصنع الغذاء في النبات.

أمّا في الحيوانات فتقوم خلايا الدم الحمراء بنقل الأكسجين وموادّ أخرى داخل أجسامها.

وهناك الخلايا العصبية التي تنقل إشارات (معلومات) بين أجزاء الجسم. فعند الحاجة إلى المشي يُعطي الدماغ أوامر إلى الساقين، فتستجيب خلايا عضلات الساقين، وتبدأ في التحرك.

تري! ما الذي يجعل قلب الإنسان مختلفاً عن جلده؟ هل الخلايا مختلفة؟! عندما يكون المخلوق الحيّ مكوناً من خلايا عديدة يكون للخلايا وظائف مختلفة.

لتوضيح ذلك فإنّ الكثير من النباتات لها جذور. تمتصّ خلايا هذه الجذور الماء والأملاح المعدنية، ولكن هذه الخلايا لا تستطيع صنع الغذاء؛ لأنها لا تحتوي على الكلوروفيل، إلا أنّ

مستويات التنظيم

القلب عضو
يضخّ الدم.

عضو

القلب عضو مكون من
أنسجة متنوعة.

نسيج

تشكل الخلايا العضلية
النسيج العضلي.

خلايا

نشاط

الخلايا والأنسجة والأعضاء

- ١ يقوم كل طالبٍ بذكر اسمِ خليةٍ من الخلايا التالية: خلية دم، خلية عصبية، خلية عضلية، ثم يكتب اسمَ الخلية التي ذكرها على بطاقةٍ.
- ٢ **أعمل نموذجًا.** يقوم الطلاب بتشكيل نسيجٍ عن طريق تكوين مجموعاتٍ ثنائية، كل فردٍ فيها يحمل بطاقةً باسم الخلية نفسها، كما في الصورة أدناه.
- ٣ يقوم الطلاب بتشكيل ثلاثة أنواعٍ من الأنسجة المختلفة.
- ٤ أجد طريقةً لتشكيل أحد أجهزة الجسم.



أختبر نفسي



أقارن. كيف يختلف العضو عن النسيج؟

التفكير الناقد. لماذا تحتاج المخلوقات

الحية المختلفة إلى أعضاء مختلفة؟

الخلايا تكون أنسجة

في المخلوق المتعدد الخلايا، تنتظم الخلايا التي لها الوظيفة نفسها لتشكل نسيجًا. النسيج مجموعة من الخلايا المتماثلة تجتمع وتتعاون معًا لتؤدي وظيفة محددة.

الأنسجة تكون أعضاء

الأنسجة تجتمع معًا لتكوّن عضوًا يقوم بوظيفة محددة. فالقلب مثلاً يقوم بضخ الدم، ويتكوّن من أنسجةٍ مختلفة.

الأعضاء تكون أجهزة

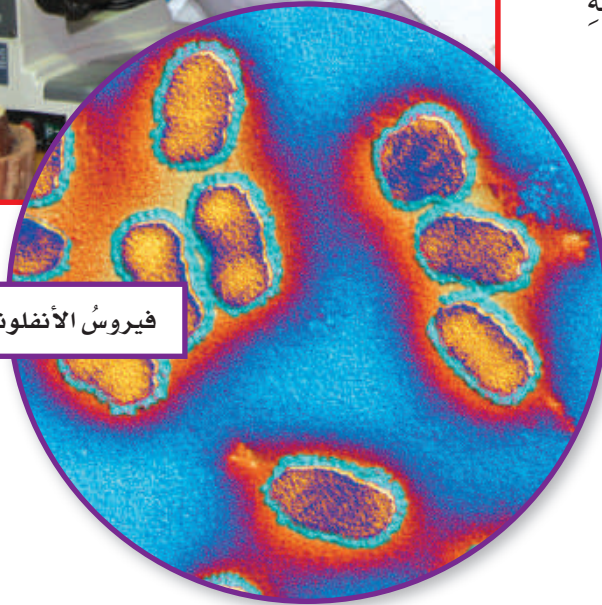
تعمل الأعضاء وتآزر معًا لتكوّن جهازًا يقوم بوظائف محددة من وظائف الحياة، ويسمى الجهاز الحيوي. فالقلب عضو من أعضاء الجهاز الدوراني الذي ينقل الدم إلى جميع أجزاء الجسم.



يستخدمُ العلماءُ المجاهرَ
للكشفِ عنِ مسبباتِ الأمراضِ



فيروسُ الأنفلونزا



البكتيريا العصوية



كيف يمكن مشاهدة الخلايا؟

معظمُ الخلايا صغيرةٌ جدًّا، لا يمكنُ رؤيتها
بالعينِ المجرّدة. ولكي نرى الخلايا فإننا
نحتاجُ إلى مجاهرٍ.

المجاهرُ

المجاهرُ التي نستعملها تكبّرُ الأشياءَ أكثرَ
كثيرًا ممّا تكبّرُها العدسةُ اليدويّةُ.

وتختلفُ المجاهرُ في قوّةِ تكبيرها؛ فقوّةُ
تكبيرِ المجاهرِ التي يستخدمها العلماءُ أكبرُ
كثيرًا من تلك التي نستخدمها في المدرسة،
والتي قوّةُ تكبيرها أكبرُ كثيرًا من العدسةِ
المكبّرةِ اليدويّةِ.

يستخدمُ العلماءُ المجاهرَ للكشفِ عنِ
المخلوقاتِ الصغيرةِ التي لا تُرى بالعينِ
المجرّدة، ومنها مسبباتُ الأمراضِ
المعديةِ كالـبكتيريا والفيروساتِ، ومنها
أنواعُ البكتيريا العصويّةِ المسببةِ لمرضِ
الالتهابِ الرئويّ، وفيروسُ الأنفلونزا
المسبّبُ لمرضِ الأنفلونزا.

أختبر نفسي



أقارن. فيم تتشابهُ العدسةُ المكبّرةُ
اليدويّةُ معَ المجهرِ، وفيم يختلفان؟

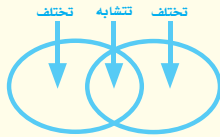
التفكير الناقد. لماذا تستخدمُ المجاهرُ

في المستشفيات؟

مراجعة الدرس

أفكر وأتحدث وأكتب

- ١ **أقارن**. فيم تشابه الخلايا النباتية والخلايا الحيوانية، وفيم تختلفان؟



- ٢ **المفردات**. أصغر تركيب في المخلوق الحي يسمى

- ٣ **التفكير الناقد**. هل يمكن أن يتكوّن المخلوق الحي من خلية واحدة؟ أفسّر ذلك.

- ٤ **أختار الإجابة الصحيحة**. أي الأجزاء التالية يوجد في الخلية النباتية فقط؟

أ- الميتوكوندريا. ب- البلاستيدات.

ج- الغشاء الخلوي. د- الكروموسوم.

- ٥ **أختار الإجابة الصحيحة**. جميع الخلايا النباتية:

أ- تشبه الصناديق.

ب- تؤدي الوظيفة نفسها.


ج- بيضية الشكل.

د- لا تحتوي على كلوروفيل.

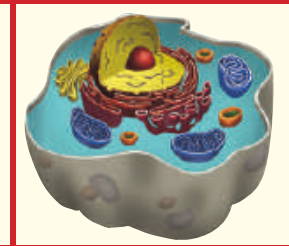
- ٦ **السؤال الأساسي**. كيف تُنظّم المخلوقات الحية؟

ملخص مصور

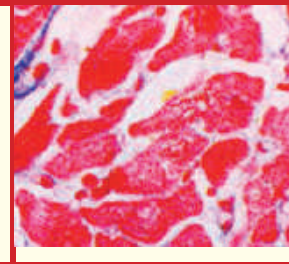
تتكوّن المخلوقات الحية من خلايا. هذه الخلايا تساعد المخلوقات الحية على أداء خمس وظائف حيوية أساسية.



تحتوي الخلايا على تراكيب تساعد على أداء وظائفها. الخلايا النباتية بها تراكيب خاصة لا توجد في الخلايا الحيوانية.



بعض المخلوقات الحية يتكوّن من خلية واحدة، وبعضها يتكوّن من خلايا كثيرة جداً. تنتظم الخلايا في المخلوق الحي المتعدّد الخلايا لتكوّن الأنسجة والأعضاء والأجهزة.



المطويات أنظّم أفكارك

أعمل مطوية كالمبيّنة في الشكل ألخص فيها ما تعلمته عن الخلايا.

المخلوقات الحية	الخلايا النباتية والخلايا الحيوانية	الأنسجة والأعضاء والأجهزة

العلوم والرياضيات

التقدير

قام أحد العلماء بمشاهدة ٢٨ خلية باستعمال المجهر، وعند استعماله قوة تكبير أصغر شاهد خمسة أضعاف ما شاهده في المرة الأولى. فكّم خلية شاهد في المرة الثانية تقريباً؟

العلوم والكتابة

أكتب قصة

أكتب قصة عن مخلوق حيّ شاهدته عن بُعد، ثم أصفه وأنا أتخيّل أنني أقترّب منه أكثر فأكثر حتى أشاهد خلاياه. ماذا أشاهد في كل مرة أقترّب فيها أكثر؟

المهارة المطلوبة: الملاحظة

لقد درستُ مفهومَ الجهازِ، وهو مجموعةٌ من الأعضاء تعملُ معًا لأداءِ وظيفةٍ من وظائفِ الحياةِ. يوجدُ في النباتاتِ جهازٌ يقومُ بنقلِ الماءِ من التربةِ إلى كلِّ خليةٍ من خلاياها. كيفَ عرَفَ العلماءُ ذلكَ؟ لقد **لاحظوا** النباتاتِ .

أَتَعَلَّمُ

عندما **الاحظُ** أستخدمُ حاسةً أو أكثرَ من حواسِّي الخمسِ لأتعلَّم عن العالمِ من حولي. ورغمَ أن العلماءَ يعرفونَ الكثيرَ عن النباتاتِ إلا أنَّهم يستمرونَ في ملاحظتها ودراستها، ويقومونَ بتسجيلِ ملاحظاتهمِ ومشاركةِ معلوماتهمِ مع الآخرينَ ليتعرَّفوا أشياءً جديدةً باستمرارٍ. العلماءُ يستخدمونَ ملاحظاتهمِ لمحاولةِ فهمِ الأشياءِ من حولهم في هذا العالمِ. كلُّ واحدٍ مِنَّا يستطيعُ فعلَ ذلكِ.

أَجْرِبُ

في هذا النشاطِ سوفَ **الاحظُ** كيفَ ينتقلُ الماءُ في النباتِ. أتذكَّرُ أنَ أسجِّلَ ملاحظاتي .

الموادُّ والأدواتُ ماءٌ، برطمانٌ زجاجيٌّ، صبغةٌ طعامٍ زرقاءُ، ملعقةٌ، ساقٌ من الكرفسِ، مقصٌّ.



- 1 أصبُ ١٠٠ مللتر من الماءِ في البرطمانِ، وأضيفُ قطراتٍ قليلةً من صبغةِ الطعامِ الزرقاءِ إليه، وأحرِّكُ المزيجَ بملعقةٍ.
- 2 أستخدمُ المقصَّ لقصِّ ٣ سم من أسفلِ ساقِ نباتِ الكرفسِ في البرطمانِ. وأسجِّلُ الوقتَ.
- 3 **الاحظُ** ساقِ نباتِ الكرفسِ مدةَ ٣٠ دقيقةً، وأسجِّلُ ملاحظتي. أستعينُ بملاحظتي لوصفِ طريقةِ انتقالِ الماءِ في النباتِ.

◀ أَطْبِقْ

الاحظُ الآنَ كيفَ ينتقلُ الماءُ في نباتاتٍ أُخرى. أعيدُ المهارةَ باستخدامِ نباتِ آخرٍ (كالوردِ مثلاً). أسجِّلْ ملاحظاتي في الجدولِ المبينِ أدناه. أشاركُ معَ زملائي.

ماذا لاحظتُ؟	ماذا فعلتُ؟

