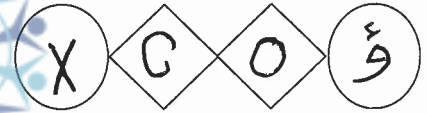


طلبة الدراسة الخاصة



إدارة الامتحانات والاختبارات  
قسم الامتحانات العامة

## امتحان شهادة الدراسة الثانوية العامة لعام ٢٠٢٠ / التكميلي

المبحث : الرياضيات (م ٤، ف ٢، الورقة الثانية)  
الفرع: العلمي + الصناعي جامعات  
اسم الطالب:  
رقم المبحث: 106  
رقم النموذج: (١)  
مدة الامتحان: ١٥ : ١ س  
اليوم والتاريخ: السبت ١٦/١/٢٠٢١  
رقم الجلوس:

اختر رمز الإجابة الصحيحة في كل فقرة مما يأتي، ثم ظلّل بشكل غامق الدائرة التي تشير إلى رمز الإجابة في نموذج الإجابة (ورقة القارئ الضوئي) فهو النموذج المعتمد (فقط) لاحتساب علامتك، علماً بأن عدد الفقرات (٢٥)، وعدد الصفحات (٤).

(١) إذا كان  $٢(س) = س٢ - لس - ٦$  معكوساً لمشتقة الاقتران المتصل ق، وكان ق(١) = ٧، فإن قيمة الثابت ل تساوي:

- (أ) ٢ (ب) ٤ (ج) ٢- (د) ٤-

(٢)  $\frac{١}{١+جاس}$  دس يساوي:

- (أ) ظاس + قاس + ج  
(ب) ظاس - قاس + ج  
(ج) قتاس - ظتاس + ج  
(د) قتاس + ظتاس + ج

(٣)  $\frac{جاس}{١-جئاس}$  دس يساوي:

- (أ) س - جاس + ج (ب) جاس + ج (ج) س + جاس + ج (د) - جاس + ج

(٤) قيمة  $\int_{\frac{\pi}{4}}^{\frac{\pi}{6}} قاس قئاس دس$  تساوي:

- (أ)  $\frac{٢}{٣\sqrt{١}}$  (ب)  $١ - \frac{١}{٣\sqrt{١}}$  (ج)  $\frac{١}{٣\sqrt{١}} - ١$  (د)  $\frac{٢}{٣\sqrt{١}}$

(٥) إذا كان  $\int ٢ق(س) دس = ١٢$ ، فإن قيمة  $\int س٢ ق(س٣ + ١) دس$  تساوي:

- (أ) ٢ (ب) ٤ (ج) ٦ (د) ١٢

يتبع الصفحة الثانية ....

(٦) إذا كان  $ق(س) = (٥ + ١ + س٢)هـ$ ، فإن  $ق(٠)$  تساوي:

- (أ) ٨ هـ (ب) ٥ + هـ (ج) ٥ + ٣ هـ (د) ٢ هـ

(٧) إذا كان  $ق(س) = ل(س) (قاس + ظاس)$ ، فإن  $ق\left(\frac{\pi}{٤}\right)$  تساوي:

- (أ)  $\frac{١}{٢\sqrt{٢}}$  (ب)  $\sqrt{٢}$  (ج)  $\frac{١}{٢}$  (د) ٢

(٨)  $\left[ \frac{لوس}{س٢} دس \text{ يساوي:} \right]$

- (أ)  $\frac{١}{٢} (لوس) + ج$  (ب)  $\frac{١}{٤} (لوس) + ج$  (ج)  $\frac{١}{٢} (لوس) + ج$  (د)  $\frac{١}{٤} (لوس) + ج$

(٩) إذا كان  $\left[ \frac{١}{س} دس = ٢ \right]$ ،  $١ < ج$ ، فإن قيمة الثابت ج تساوي:

- (أ) ٢ (ب) ٢ هـ (ج) هـ (د) ٢ هـ

(١٠) قيمة  $\left[ \frac{٩ - س٢}{٣ + س} دس \text{ تساوي:} \right]$

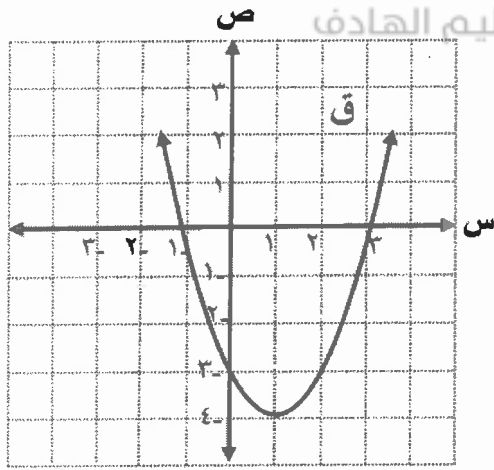
- (أ) ٤ - هـ (ب) ٤ + هـ (ج) ٣ - هـ (د) ٣ + هـ

(١١) إذا كان  $\left[ \frac{\pi^٣}{٤} جاس ق(س) دس = ٤ - \right]$ ،  $\left[ \frac{\pi^٣}{٤} جاس ق(س) دس = ١٠ \right]$ ، فإن  $ق\left(\frac{\pi^٣}{٤}\right)$  تساوي:

- (أ)  $\sqrt{٦}$  (ب)  $\sqrt{١٤}$  (ج)  $\sqrt{٦}$  (د)  $-\sqrt{١٤}$

(١٢)  $\left[ \frac{٤ - س}{٤ - س} دس \text{ يساوي:} \right]$

- (أ)  $لوس - ٢ - لوس + ٢ + ج$  (ب)  $لوس + ٢ - لوس - ٢ + ج$   
 (ج)  $لوس - ٢ + لوس + ٢ + ج$  (د)  $لوس + ٢ - لوس - ٢ + ج$



١٣) معتمداً الشكل المجاور الذي يمثل منحنى الاقتران ق، ص، إذا كانت مساحة المنطقة المحصورة بين منحنى الاقتران ق ومحور السينات تساوي  $(\frac{2}{3} \cdot 10)$  وحدة مربعة،

فإن قيمة  $\int_{-1}^2 ((s) - 1) ds$  تساوي:

- (أ)  $\frac{2}{3} \cdot 14$  (ب)  $\frac{2}{3} \cdot 8$   
(ج)  $\frac{2}{3} \cdot 8$  (د)  $\frac{2}{3} \cdot 14$

١٤) مساحة المنطقة المحصورة بين منحنى الاقتران ق(س) = جتا<sup>٢</sup>س ومحور السينات، والمستقيمين  $s = \frac{\pi}{4}$ ،  $s = \frac{\pi}{2}$  تساوي:

- (أ) ١ (ب)  $\frac{1}{4}$  (ج) ٢ (د)  $\frac{1}{2}$

١٥) حل المعادلة التفاضلية  $\frac{v}{s} = \frac{2s^2 - v - 3}{3 - v}$  هو:

- (أ)  $v = s^2 + ج$  (ب)  $v = s + ج$   
(ج)  $v = s^2 + s + ج$  (د)  $v = s - s^2 + ج$

١٦) معادلة المحل الهندسي للنقطة ن(س، ص) المتحركة في المستوى، التي يكون بعدها عن محور الصادات مساوياً دائماً لبعدها عن النقطة م(٢، -١) هي:

- (أ)  $(1 + v)^2 - 4(1 - s) = 0$  (ب)  $(1 + v)^2 - 4(1 - s) = 0$   
(ج)  $(1 - v)^2 - 4(1 - s) = 0$  (د)  $(1 - v)^2 - 4(1 - s) = 0$

١٧) ما نوع القطع المخروطي الذي معادلته:  $s^2 + 4v^2 - 6s - 8v - 9 = 0$  ؟

- (أ) دائرة (ب) قطع مكافئ (ج) قطع ناقص (د) قطع زائد

١٨) معادلة الدائرة التي تمر بالنقطة (٤، ٧) وتمس محور الصادات عند النقطة (٣، ٠) هي:

- (أ)  $16 = (3 - v)^2 + (4 - s)^2$  (ب)  $9 = (3 - v)^2 + (4 - s)^2$   
(ج)  $16 = (4 - v)^2 + (3 - s)^2$  (د)  $9 = (4 - v)^2 + (3 - s)^2$

١٩) طول نصف قطر الدائرة التي معادلتها:  $5s^2 + 5v^2 + 20s = 40$  يساوي:

- (أ) ١٢ (ب)  $2\sqrt{6}$  (ج) ٢٤ (د)  $2\sqrt{3}$

(٢٠) معادلة دليل القطع المكافئ الذي معادلته:  $ص^2 - ٤س - ٨ = ٠$  هي:

- (أ)  $ص = ٣$  (ب)  $س = ٣$  (ج)  $س = ٣$  (د)  $ص = ٣$

(٢١) ما إحداثيا البؤرة للقطع المكافئ الذي معادلته:  $(٢ - ص)٦ = ٢(٨ - س)$ ؟

- (أ) (١، ٤) (ب) (٢، ٤) (ج) (٣، ٤) (د) (٤، ٤)

(٢٢) معادلة القطع الناقص الذي مساحته  $٣٠\pi$  وحدة مربعة، ورأساه النقطتان (٠، ٦)، (٠، -٦) هي:

- (أ)  $١ = \frac{ص^2}{٢٥} + \frac{س^2}{٣٦}$  (ب)  $١ = \frac{ص^2}{٢٥} + \frac{س^2}{٣٦}$   
 (ج)  $١ = \frac{ص^2}{٢٥} - \frac{س^2}{٣٦}$  (د)  $١ = \frac{ص^2}{٢٥} - \frac{س^2}{٣٦}$

(٢٣) طول المحور الأكبر للقطع المخروطي الذي معادلته:  $١ = ٢٥ص^2 + ٩س^2$  يساوي:

- (أ)  $\frac{١}{٣}$  (ب)  $\frac{١}{٥}$  (ج)  $\frac{٢}{٣}$  (د)  $\frac{٢}{٥}$

(٢٤) إذا كانت المعادلة:  $١ = \frac{ص^2}{٤} - \frac{س^2}{٢}$ ،  $٠ < ل$ ، تمثل معادلة قطع زائد طول محوره القاطع يساوي ٦ وحدات،

فإن قيمة الثابت ل تساوي:

- (أ)  $٥\sqrt{٦}$  (ب) ١٥ (ج) ٣٠ (د)  $٥\sqrt{٣}$

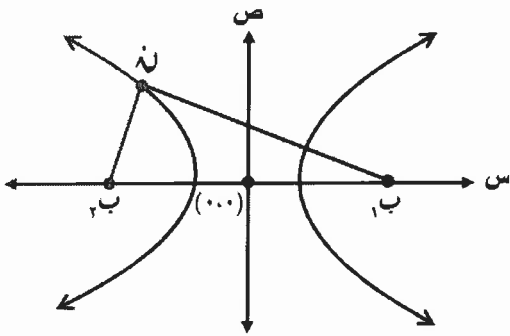
(٢٥) معتمداً الشكل المجاور الذي يمثل قطعاً زائداً مركزه نقطة

الأصل، ويؤرتاه النقطتان  $١(٠، ٥)$ ،  $٢(٠، -٥)$ ،

إذا علمت أن  $|ن١ب - ن٢ب| = ٦$ ،

فإن طول المحور المرافق يساوي:

- (أ) ٢ (ب) ٤  
(ج) ٨ (د) ١٦



﴿ انتهت الأسئلة ﴾