

تدريبات مراجعة منهاج الرياضيات

الفصل الدراسي الأول

الوحدة الاولى : الاعداد ضمن ٩٩٩



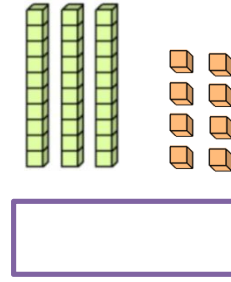
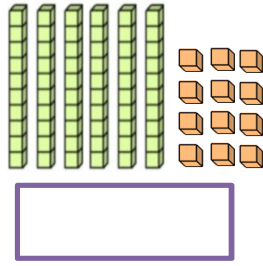
الصف: الثاني الأساسي
المادة: الرياضيات

العداد:

نهاده حسن

مشرفة مركز مصادر التعلم

أكتب العدد الممثل بالاشكال التالية:



أوجد حاصل الجمع في الأعداد التالية:

$$\begin{array}{r} 47 \\ + 9 \\ \hline \end{array}$$

$$\begin{array}{r} 55 \\ + 37 \\ \hline \end{array}$$

$$\begin{array}{r} 25 \\ + 39 \\ \hline \end{array}$$

$$\begin{array}{r} 55 \\ + 18 \\ \hline \end{array}$$

$$\begin{array}{r} 46 \\ + 38 \\ \hline \end{array}$$

$$\begin{array}{r} 46 \\ + 39 \\ \hline \end{array}$$



أضع العدد المناسب في:

$$\begin{array}{r} 55 \\ \square\square + \\ \hline \end{array}$$

$$\begin{array}{r} 49 \\ \square\square + \\ \hline 66 \end{array}$$

$$\begin{array}{r} \square\square \\ + 39 \\ \hline 92 \end{array}$$

أوجد حاصل الجمع في الأعداد التالية :

$$= 32 + 59$$

$$= 46 + 27$$

$$= 16 + 77$$

$$= 25 + 48$$

$$= 38 + 52$$

$$= 58 + 33$$

$$= 11 + 44 + 33$$

$$= 15 + 10 + 66$$



أوجد حاصل الطرح في الأعداد التالية :

$$48$$

$$\underline{6 -}$$

$$57$$

$$\underline{35 -}$$

$$79$$

$$\underline{35 -}$$

$$55$$

$$\underline{18 -}$$

$$46$$

$$\underline{38 -}$$

$$46$$

$$\underline{39 -}$$





أوجد حاصل الطرح في الأعداد التالية :

= + : التحقق

= ٢٥ - ٤٨

= + : التحقق

= ٣٢ - ٥١

= + : التحقق

= ٣٨ - ٥٢

= + : التحقق

= ٤٩ - ٥٧

= + : التحقق

= ٥٨ - ٦٣

أضع العدد المناسب في :



٥٤ = ٢٤ -

٣٢ = ٣٣ -

٢٢ = - ٨٩

٢٢ = - ٧٥

= ٣٨ - ٥٤

في مكتبة هبة ٨٥  ، أخذت منها ٢٩  ، فكم كتابا بقي في المكتبة؟

.....



في مزرعة ابو أحمد ٥٦ بقرة، باع منها بعض الابقار وبقي لديه ٣٤ بقرة، فكم بقرة باع منها؟

.....

في قفص ٦٥ عصفوراً، دخله ١٩ عصفورا، فكم عصفورا أصبح في القفص؟

.....



في الحافلة ٦٨ راكباً، انضم إليهم ١٧ راكباً، فكم راكباً أصبح في الباص؟

.....

