

إدارة الامتحانات والاختبارات  
قسم الامتحانات العامة

## امتحان شهادة الدراسة الثانوية العامة لعام ٢٠٢٢

٣ : ٤٥

مدة الامتحان: ٣٠ : ٤٥  
اليوم والتاريخ: الخميس ١٤ / ٧ / ٢٠٢٢  
رقم الجلوس:

(وثيقة مسمية/محدود)

رقم المبحث: 223  
رقم النموذج: (١)

المبحث: الرياضيات (الورقة الثانية، ف٢، م٤)  
الفرع: العلمي + الصناعي (مسار الجامعات)  
اسم الطالب:

ملحوظة مهمة: أجب عن الأسئلة الآتية جميعها وعددها (٥)؛ بحيث تكون إجابتك عن السؤال الأول على نموذج الإجابة (ورقة القارئ الضوئي)، وتكون إجابتك عن باقي الأسئلة على دفتر الإجابة، علماً أن عدد صفحات الامتحان (٥).

السؤال الأول: (١٠٠ علامة)

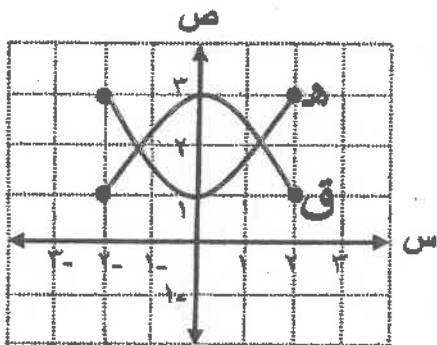
❖ اختر رمز الإجابة الصحيحة في كل فقرة مما يأتي، ثم ظلّل بشكل غامق الدائرة التي تشير إلى رمز الإجابة في نموذج الإجابة (ورقة القارئ الضوئي) فهو للنموذج المعتمد (فقط) لاحتساب علامتك في هذا السؤال، علماً أن عدد فقراته (٢٥).

(١) إذا كان م (س) معكوساً لمشتقة الاقتران المتصل ق، وكان  $\left[ (م(س) + ١) دس = ه^{-١} س + س \right]$  فإن ق (١) تساوي:

(أ) ٤ - (ب) ٢ - (ج) ٢ (د) ٤

(٢) إذا كان م (س)، ه (س) معكوسين لمشتقة الاقتران المتصل ق، وكان م (س) = ٣ س<sup>٢</sup>، ه (س) = ١، فإن  $\left[ (م(س) + ه(س)) دس \right]$  يساوي:

(أ) ٢ س<sup>٢</sup> + س + ج (ب) ٢ س<sup>٢</sup> - س + ج (ج) ٢ س<sup>٢</sup> - س + ج (د) ٢ س<sup>٢</sup> + س + ج



(٣) معتمداً الشكل المجاور الذي يمثل منحنىي الاقترانين

ق، ه المعرفين على الفترة  $[-٢, ٢]$ ،

ما الفرق بين أكبر قيمة للمقدار:  $\int_{-٢}^٢ ق(س) دس$ ،

وأصغر قيمة للمقدار:  $\int_{-٢}^٢ ه(س) دس$ ؟

(أ) ١٦ (ب) ٤ (ج) ١٢ (د) ٨

(٤)  $\int_{-١}^١ \sqrt{٩ - ١٢س + ٤س^٢} دس$  يساوي:

(أ) صفر (ب) ٢ - (ج) ٤ - (د) ٢



الصفحة الثانية/نموذج (١)

(٥) [ قتا ٢س طا ٢س دس يساوي:

(أ)  $\frac{1}{4}$  قتا ٢س + ج (ب) قتا ٢س + ج (ج)  $\frac{1}{4}$  قتا ٢س + ج (د) - قتا ٢س + ج

(٦) إذا كان ق (س) = ٢ - جتا ٢س ، وكان للاقتران ق قيمة صغرى محلية عند س =  $\frac{\pi}{4}$  ، فإن ق  $(\frac{\pi}{4})$  تساوي:

(أ) ١- (ب) ٢- (ج) ٢ (د) ١

(٧) إذا كان  $\int_1^4 (٢ق(س) + ٣) دس = ١٩$  ، وكان  $\int_1^4 \frac{ق(س)}{٥} دس = ٢ -$  ، فإن ق (س) دس يساوي:

(أ) ٩ (ب) ١٥ (ج) ١٨ (د) ٢٠

(٨) إذا كان  $\int_{١+d}^{١+d^٣} ك دس = ٣٢$  ، ك < ٠ ، فإن قيمة الثابت ك تساوي:

(أ) ٢ (ب) ٣ (ج) ٤ (د) ٥

(٩) معتمداً الشكل المجاور الذي يمثل منحنىي

الاقتراين ق ، ه المعرفين على الفترة [٢ ، ٥] ،

إذا كان  $\int_2^5 (ق(س) + ه(س)) دس = ١٤$  ،

٢ = وحدة مربعة ، ٤ = وحدات مربعة ،

فإن مساحة المنطقة المحصورة بين منحنىي الاقتراين

ومحور السينات على الفترة نفسها بالوحدات المربعة تساوي:

(أ) ٢٠ (ب) ١٠ (ج) ٨ (د) ٤

(١٠) إذا كان ق(س) =  $\sqrt{٦-٧س}$  ، فإن قيمة ق (١) تساوي:

(أ) ٦ (ب) ٣- (ج) ١- (د) ٣

(١١)  $\int_1^{|س|} دس \frac{|س|}{١+س^٢}$  يساوي:

(أ)  $\frac{1}{4}$  لو ٢ (ب)  $\frac{1}{4}$  لو ٢ (ج) ٢ لو ٢ (د) ٢- لو ٢

الصفحة الثالثة/نموذج (١)

(١٢) إذا كان  $ص = هـ^٢ + (٢ + س) هـ^{س٢}$  ، وكان  $٤ = \frac{ص}{س}$  ، فإن قيمة الثابت  $٢$  تساوي:

- (أ) ٤-هـ٢ (ب) ٤ (ج) ٣ (د) ٣-هـ٢

(١٣)  $\left. \frac{٨-٣هـ}{٤+٣هـ٢+٣هـ} \right\}$  دس يساوي:

- (أ) هـ٣+س٢+س (ب) هـ٣+س+س (ج) هـ٣-س+س (د) هـ٣-س٢+س

(١٤) إذا كان  $\left[ س ق (س) دس = ٤ \right]$  ، فإن  $\left[ هـ^{٣+س} ق (٣هـ) \right]$  دس يساوي:

- (أ) ٨- (ب) ٨ (ج) ٨ (د) ٨-

(١٥) حل المعادلة التفاضلية:  $\frac{ص}{س} = جتا٢ س$  هو:

- (أ)  $طا ص = \frac{١}{٢} جتا٢ س + س$  (ب)  $طا ص = - جتا٢ س + س$   
 (ج)  $طا ص = جتا٢ س + س$  (د)  $طا ص = - \frac{١}{٢} جتا٢ س + س$

(١٦) إذا قُطِعَ مستوى مخروط دائري قائم مزوج وكان الشكل الناتج دائرة، فإن هذا المستوى يجب أن يكون:

- (أ) شاملاً لفرعي المخروط ولا يمر بالرأس (ب) مائلاً قليلاً عن المحور ويقطع أحد المخروطين  
 (ج) عمودياً على المحور ولا يمر بالرأس (د) مائلاً وموازيًا لرأس المخروط ويقطع أحد المخروطين

(١٧) تتحرك النقطة  $و (س، ص)$  في المستوى الإحداثي حيث يتحدّد موقعها في اللحظة  $ن \leq ٠$  بالمعادلتين:

$$ص = ٢ جان ، ص = جتا٢ ن . ما المحل الهندسي للنقطة و ؟$$

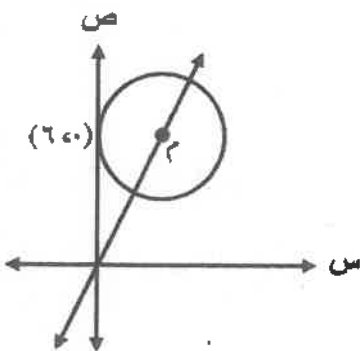
- (أ) دائرة (ب) قطع زائد (ج) قطع ناقص (د) قطع مكافئ

(١٨) معتمداً الشكل المجاور الذي يمثل دائرة يقع مركزها  $م$  على المستقيم  $ص = ٣س$

وتمس محور الصادات عند النقطة  $(٦، ٠)$  . ما معادلة هذه الدائرة ؟

(أ)  $٤ = (٦-ص)^٢ + (٢-س)^٢$  (ب)  $٣٦ = (٦-ص)^٢ + (٢-س)^٢$

(ج)  $٤ = (٢-ص)^٢ + (٦-س)^٢$  (د)  $٣٦ = (٢-ص)^٢ + (٦-س)^٢$



الصفحة الرابعة/نموذج (١)

١٩) تتحرك النقطة  $W(s, s)$  في المستوى الإحداثي بحيث تبعد بعداً ثابتاً مقداره ٤ وحدات عن المستقيم  $s = 1$ ، وتمر أثناء حركتها بالنقطة  $(-2, 3)$ . ما معادلة المحل الهندسي للنقطة  $W$ ؟

- (أ)  $s = 0$  (ب)  $s = -3$  (ج)  $s = 0$  (د)  $s = -3$

٢٠) ما طول نصف قطر الدائرة التي معادلتها  $3(s^2 + s^2) + 6s = 27$ ؟

- (أ) ١٠ (ب)  $\sqrt{10}$  (ج) ٣٠ (د)  $\sqrt{30}$

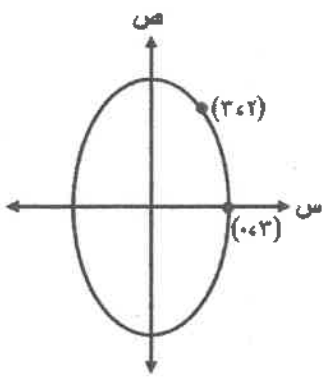
٢١) ما معادلة القطع المكافئ الذي رأسه النقطة  $(-1, -1)$  ويؤثره النقطة  $(-1, 1)$ ؟

- (أ)  $(s+1)^2 - 8 = (s+1)^2$  (ب)  $(s+1)^2 - 8 = (s+1)^2$   
(ج)  $(s+1)^2 - 8 = (s+1)^2$  (د)  $(s+1)^2 - 8 = (s+1)^2$

٢٢) قطع مكافئ مفتوح للأسفل معادلة محوره  $s = 3$ ، ومعادلة دليله  $s = 0$ ، ويبعد رأسه عن دليله ٤ وحدات، ما إحداثيا بؤرة هذا القطع؟

- (أ)  $(3, -3)$  (ب)  $(4, 3)$  (ج)  $(4, -3)$  (د)  $(3, 3)$

٢٣) معتمداً الشكل المجاور الذي يمثل منحنى قطع ناقص مركزه نقطة الأصل وإحدى نهايتي محوره الأصغر النقطة  $(3, 0)$  ويمر بالنقطة  $(2, 3)$ ، ما مساحة هذا القطع الناقص؟



- (أ)  $\frac{\pi 9}{5\sqrt{}}$  (ب)  $\frac{\pi 27}{5\sqrt{}}$   
(ج)  $\frac{\pi 81}{5\sqrt{}}$  (د)  $\frac{\pi 243}{5\sqrt{}}$

٢٤) قطع زائد معادلته:  $1 = \frac{(s+1)^2}{16} - \frac{(2-s)^2}{4}$ ،  $k < 0$ ، فإذا كان طول محوره القاطع ١٢ وحدة، فإن قيمة الثابت  $k$  تساوي:

- (أ)  $\frac{2}{\sqrt{}}$  (ب)  $\sqrt{2}$  (ج)  $\frac{\sqrt{6}}{2}$  (د)  $\sqrt{6}$

٢٥) ما معادلة المحور المرافق للقطع المخروطي الذي معادلته:  $(s-3)^2 - (2+s)^2 = 1$ ؟

- (أ)  $s = 3$  (ب)  $s = -2$  (ج)  $s = 2$  (د)  $s = -3$

الصفحة الخامسة/نموذج (١)

السؤال الثاني: (٢٤ علامة)

(١٢ علامة)

أ) جد:  $\left[ \frac{س^٢}{١٠ + س٧ - ٢} \right]$  دس

(١٢ علامة)

ب) جد:  $\left[ \frac{س^٣ - س}{\sqrt{٢}(٩ + س^٢)} \right]$  دس

السؤال الثالث: (٢٤ علامة)

(١٢ علامة)

أ) جد:  $\left[ \text{جناح}^٣ \text{ لـ } \text{جاس} \text{ دس} \right]$

ب) قذِفَ جسم رأسياً لأعلى بسرعة ابتدائية مقدارها ٥٠ م/ث ويتسارع مقداره -١٠ م/ث<sup>٢</sup>، إذا كان ارتفاعه عن سطح الأرض بعد ثانيتين من بدء الحركة يساوي ٨٠ متراً، فجد أقصى ارتفاع يصل إليه الجسم.

(١٢ علامة)

السؤال الرابع: (٢٥ علامة)

أ) جد مساحة المنطقة المحصورة بين منحنيات الاقترانات الآتية:

(١٢ علامة)

ق(س) = س<sup>٣</sup> ، ه(س) = س - ٤ ، م(س) = ٨

ب) قطع مكافئ محوره المستقيم ص = -٢ ويمر بالنقطتين (٢، -٤) ، (٥، ٢) . ما معادلة هذا القطع المكافئ ؟

(١٣ علامة)

السؤال الخامس: (٢٧ علامة)

أ) جد إحداثيات المركز والرأسين والبؤرتين والاختلاف المركزي للقطع المخروطي الذي معادلته:

(١٤ علامة)

$$س^٢ + ٤ص^٢ - ٦س + ٦ص - ٣٩ = ٠$$

ب) معتمداً الشكل المجاور الذي يمثل قطعاً زائداً مركزه نقطة الأصل إحدى بؤرتيه النقطة ج ورأسه القريب منها م وأحد طرفي محوره المرافق النقطة ب ، فإذا علمت أن مساحة المثلث م ب ج تساوي (٤) وحدات مربعة والفرق بين بعده البؤري وطول محوره القاطع (٤) وحدات ، فجد معادلة هذا القطع الزائد.

(١٣ علامة)

