

ورقة عمل / 3


اسم الوحدة: تفاعل الكائنات الحية في البيئة اسم الطالب:

اسم الدرس: تكيف الكائنات الحية الشعبة: ()



1. أضع دائرة حول الحيوان الذي يمكنه العيش في المناطق الباردة.

2. أضع إشارة (✓) في المربع الذي يشير إلى الحيوان الذي يختلف عن بقية الحيوانات في مصدر غذائه:



3. أصل بخط بين الكائنات الحية الآتية؛ لتكوين سلسلة غذائية:

إجابة ورقة عمل / 3

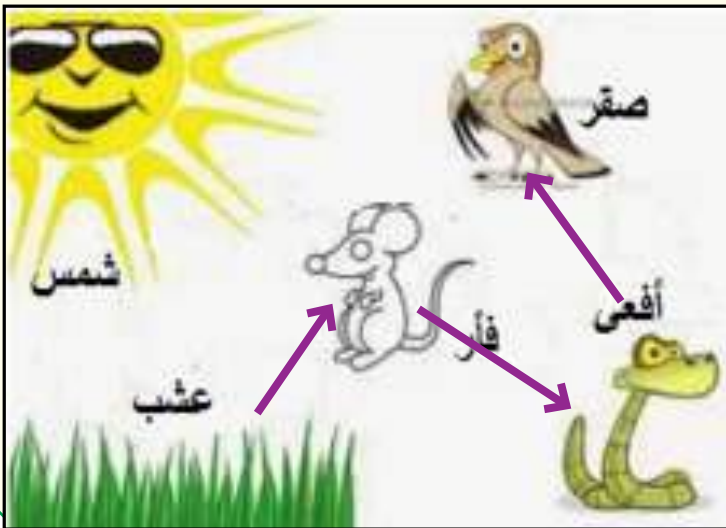

اسم الوحدة: تفاعل الكائنات الحية في البيئة اسم الدرس: تكيف الكائنات الحية

اسم الطالب: الشعبة: ()



1. أضع دائرة حول الحيوان الذي
يُمكنه العيش في المناطق الباردة .

2. أضع إشارة (✓) في المربع الذي يشير إلى الحيوان الذي يختلف عن بقية الحيوانات
في مصدر غذائه



3. أصل بخط بين الكائنات الحية
الآتية؛ لتكوين سلسلة غذائية: