

المبحث: العلوم

الصف والشعبة: السابع

تلخيص الدرس

الموضوع : الكهرباء المتحركة

التاريخ: / /

اسم الطالبة:

مثل : الزجاج و البلاستيك

المواد العازلة : تعيق حركة الشحنات في داخلها

تختلف المواد في قابليتها للسماح للشحنات الكهربائية بالحركة من خلالها .

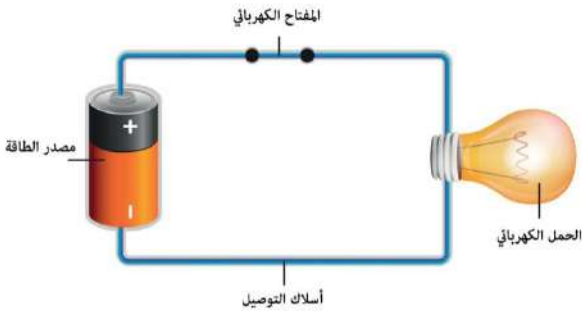
مثل : الفلزات والمحاليل الموصلة

المواد الموصلة : تسمح بحركة الشحنات بداخلها

تستخدم المواد الموصلة في الدارات الكهربائية لأنها تسمح للشحنات الكهربائية بالحركة من خلالها بسهولة

الدارة
الكهربائية

هي المسار المغلق الذي تتحرك فيه الشحنات باتجاه واحد مكونة التيار الكهربائي .



اسلاك التوصيل

البطارية

مكونات الدارة البسيطة

المصباح

المفتاح

يطلق على أي جهاز في الدارة الكهربائية (المقاومة الكهربائية) .

يمكن استبدال أي

جهاز آخر

بالمصباح .

(مثل : الخلاط ،

مكنسة ،

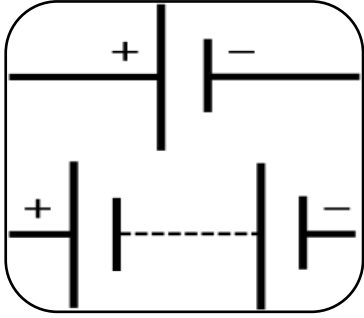
جرس ..)

كل مكون من مكونات الدارة له دور مهم في عملها
(أي لا يمكن الاستغناء عن أي جزء فيها)

معلمة المادة : جمانة عليان

البطارية

مصدر الطاقة الرئيس في الدارة الكهربائية ، فهي تزود الشحنات الكهربائية بالطاقة الضرورية لجعلها تتحرك باتجاه واحد .



تنتقل الشحنات الكهربائية من القطب الموجب باتجاه واحد بالدارة إلى القطب السالب

فرق الجهد

مقدار الطاقة التي ستزود بها البطارية شحنة كهربائية مقدارها (1C) عند انتقالها بين قطبي البطارية .

يقاس بوحدة : الفولت V

يرمز له : ΔV

الجهاز : الفولتميتر

اسلاك التوصيل

وظيفة الاسلاك : تنقل الشحنات الكهربائية بانتظام الطاقة الكهربائية الحاصلة عليها من البطارية إلى أجزاء الدارة المختلفة .

نتيجة لحركة الشحنات الكهربائية في الاسلاك ، باتجاه واحد يتولد التيار الكهربائي .

يكون اتجاه التيار من القطب الموجب للبطارية إلى القطب السالب لها عبر أجزاء الدارة الكهربائية .



التيار الكهربائي

كمية الشحنة الكهربائية التي تعبر مقطعا من الموصل خلال ثانية واحدة .

المسمى : التيار الاصطلاحي

الرمز : **I**

يرمز للشحنة الكهربائية : **Q**

الوحدة : الامبير (A)

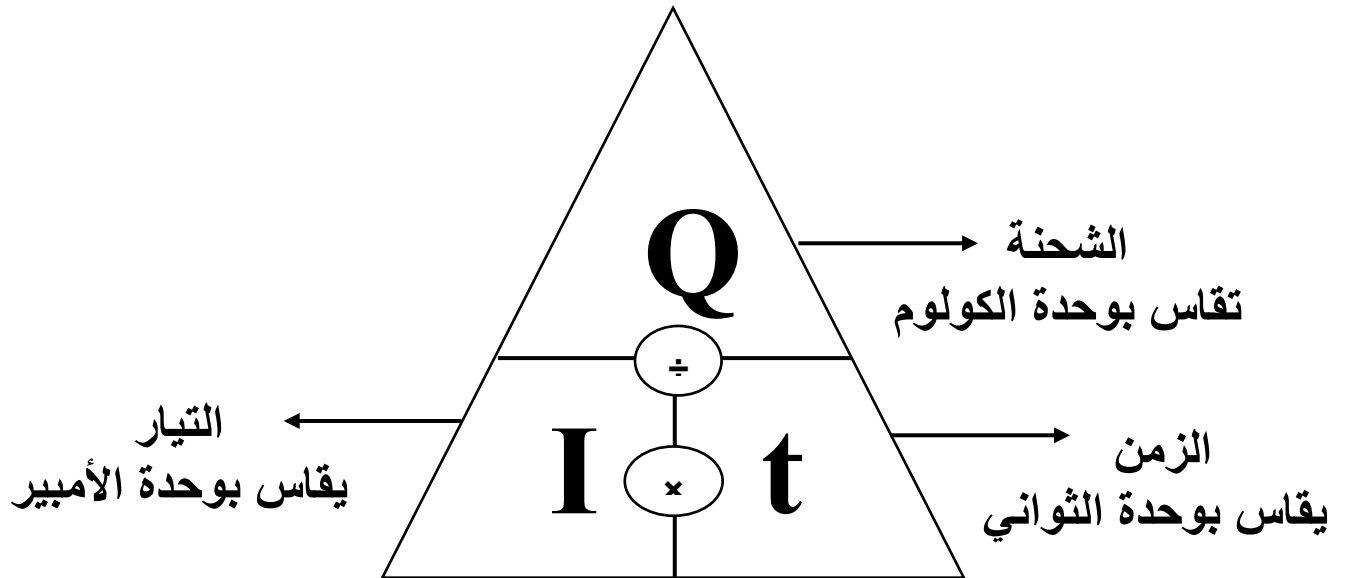
الجهاز : الاميتر

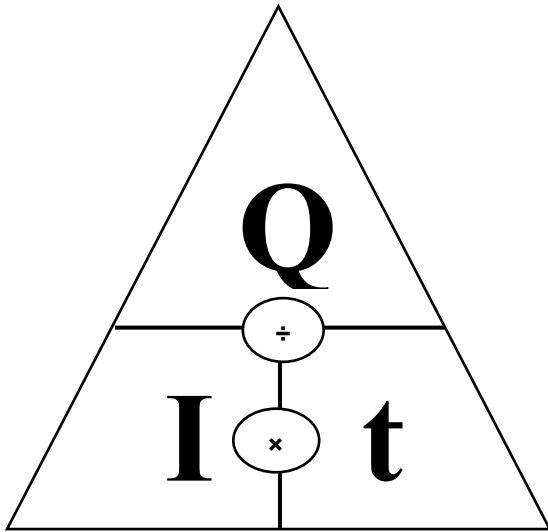
تقاس بوحدة : الكولوم **C**

كولوم / ثانية. **C / S**

التيار الكهربائي = $\frac{\text{الشحنة الكهربائية}}{\text{الزمن}}$

$$I = \frac{Q}{t}$$





دائما اللي فوق بعض قسمة واللي جنب بعض ضرب .

$$Q = I \times t$$

$$t = \frac{Q}{I}$$

$$I = \frac{Q}{t}$$

مثال
آلة كهربائية يمر فيها تيار كهربائي مقداره (10 A) ، احسب مقدار الشحنة المارة عبر مقطع الآلة إذا اشتغلت لمدة (4 min)

١. حدد المعطيات

$$I = 10 \text{ A}$$

$$t = 4 \text{ min}$$

$$Q = ?$$

٢. نحول الزمن للثواني

الدقيقة = ٦٠ ثانية ، اذا بضرب الزمن ب ٦٠

$$t = 4 \times 60$$

$$t = 240 \text{ s}$$

الحل:

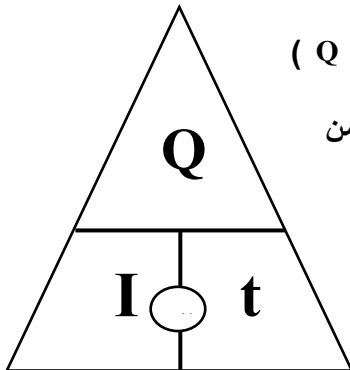
$$Q = I \times t$$

$$Q = 10 \times 240$$

$$Q = 2400 \text{ C}$$

المطلوب هو الشحنة (Q)

الشحنة = التيار × الزمن




راح انزل الشرح كامل على قناة اليوتيوب

كلما زاد مقدار المقاومة زاد مقدار المقاومة ، عند ثبات فرق الجهد بين طرفيها .

تحتوي الدارة الكهربائية على مقاومة كهربائية او أكثر

المقاومة
الكهربائية

تحدد المقاومة الكهربائية مقدار التيار المار في الدارة .

تمثل في الدارات الكهربائية
بالرمز ()

تقاس بوحدة : الأوم (Ω)

يرمز لها : (R)

قانون اوم

توصل العالم (جورج اوم) إلى ان التيار الكهربائي المار في موصل فلزي يتناسب طرديا مع فرق الجهد بين طرفيه عند ثبوت درجة حرارته

فرق الجهد بين طرفي المقاومة ، يساوي فرق الجهد بين طرفي البطارية ؛ إذا كانت المقاومة متصلة وحدها بالبطارية .

$$R = \frac{\Delta V}{I}$$

تعمل مروحة كهربائية على فرق جهد مقداره (220 v) . إذا كان التيار المار فيها يساوي (4A) ، فاحسب مقدار المقاومة الكهربائية للمروحة .

مثال

$$\Delta V = 220 \text{ V}$$

المعطيات :

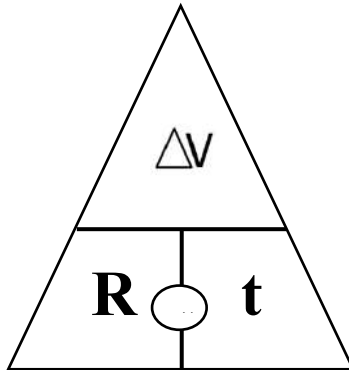
$$I = 4 \text{ A}$$

$$R = ??$$

الحل:

$$R = \frac{\Delta V}{I}$$

$$R = \frac{220}{4} = 55 \Omega$$



يستخدم للتحكم في مرور التيار الكهربائي وإيقافه .

المفتاح
الكهربائي

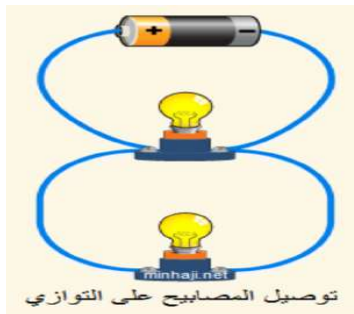
عند غلق المفتاح يسري التيار الكهربائي في الدارة ، فيعمل الجهاز المراد تشغيله.

عند فتح المفتاح يتوقف مرور التيار الكهربائي ضمن الدارة .

توصيل الدارات

على التوازي

تتصل فيها المصابيح بحيث يمر بكل منها تيار كهربائي يختلف عن التيارات المارة بالمصابيح الأخرى ، فإذا فصل احدها او تعطل بقيت المصابيح الباقية مضيئة ، وهذا يعني ان كل مصباح يحتاج إلى مفتاح للتحكم به ، وتكون إضاءة المصابيح المتصلة على التوازي أشد إضاءة من المصابيح المتصلة على التوالي



على التوالي

تتصل فيها المصابيح بحيث يمر التيار الكهربائي نفسه بها جميعا ، فإذا فصل احدها او تعطل انطفأت المصابيح الباقية ، وهذا يعني ان المصابيح تضيء معا او تطفأ معا

