



امتحان شهادة الدراسة الثانوية العامة لعام ٢٠٢٣/التكميلي

(وثيقة معمية/معلود)

مدة الامتحان: ٣٠ : ٢٠

رقم المبحث: 207

المبحث: الرياضيات (الورقة الثانية، ف٢)

اليوم والتاريخ: الثلاثاء ٢٠٢٤/١٠/٢٠
رقم الجلوس:

رقم النموذج: (١)

الفرع: العلمي+الصناعي جامعات
اسم الطالب:

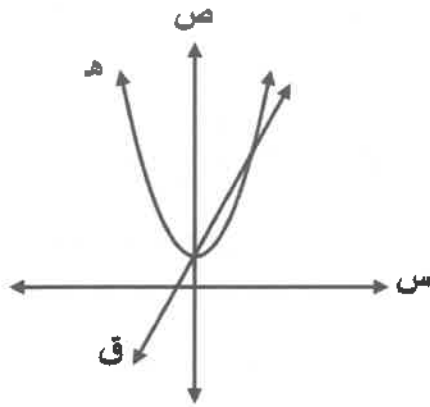
ملحوظة مهمة: أجب عن الأسئلة الآتية جميعها وعددها (٥)؛ بحيث تكون إجابتك عن السؤال الأول على نموذج الإجابة (ورقة القارئ الضوئي)، وتكون إجابتك عن باقي الأسئلة على دفتر الإجابة، علماً أن عدد صفحات الامتحان (٦).

السؤال الأول: (١٠٠ علامة)

اختر رمز الإجابة الصحيحة في كل فقرة مما يأتي، ثم ظلّل بشكل غامق الدائرة التي تشير إلى رمز الإجابة في نموذج الإجابة (ورقة القارئ الضوئي) فهو النموذج المعتمد (فقط) لاحتساب علامتك في هذا السؤال، علماً أن عدد فقراته (٢٥).

(١) إذا كان $Q \cos = \sin - \cos$ ، فإن قيمة $Q \left(\frac{\pi}{2} \right) - Q \left(\frac{\pi}{2} \right)$ تساوي:

- (أ) صفر (ب) ٢ (ج) -٢ (د) ١



(٢) معتمداً الشكل المجاور الذي يمثل منحنىي الاقترانين Q ، h إذا كان $Q \cos = \sin + \cos$ ، $h \cos = \sin - \cos$ ، فإن قيمة $h(1) - h(-1)$ تساوي:

- (أ) ١ (ب) ١ (ج) -٧ (د) ٧

(٣) $[(2 + \cos^2) \sin - \sin]$ تساوي:

- (أ) $\sin^2 + \cos + \sin$ (ب) $\sin + \cos + \sin$
(ج) $\sin^2 + \cos + \sin$ (د) $\sin + \cos + \sin$

(٤) $\left[\frac{\sin^3 + \cos + \sin}{1 - \cos^2} \right]$ تساوي:

- (أ) $\sin + \cos$ (ب) $\sin - \cos + \sin$
(ج) $\sin + \cos + \sin$ (د) $\sin + \cos$



الصفحة الثانية/نموذج (١)

(٥) قيمة $\left[\begin{matrix} ٥ \\ ٥ \end{matrix} \right]$ دس تساوي:

- (أ) ٣ (ب) ٥ (ج) ٦ (د) ٤

(٦) إذا كان $\left[\begin{matrix} ٣ق(س) + ٧ه(س) \\ ٢٦ = دس \end{matrix} \right]$ ، $\left[\begin{matrix} ٣ق(س) \\ ١٢ = دس \end{matrix} \right]$ ، فإن قيمة $\left[\begin{matrix} ٢ه(س) \\ دس تساوي: \end{matrix} \right]$

- (أ) ٢- (ب) ٢ (ج) ٤- (د) ٤

(٧) إذا كان $\left[\begin{matrix} ٢ق(س) \\ ٢- = دس \end{matrix} \right]$ ، $\left[\begin{matrix} ١ + (س) \\ ٥- = دس \end{matrix} \right]$ ، فإن قيمة $\left[\begin{matrix} ٤ق(س) \\ دس تساوي: \end{matrix} \right]$

- (أ) ١٢ (ب) ١٢- (ج) ٣٢- (د) ٣٢

(٨) إذا كان $\left[\begin{matrix} ٣س٢ - ٢س٢٢ \\ دس = ٢ \end{matrix} \right]$ ، فإن قيمة الثابت ٢ تساوي:

- (أ) ٣ (ب) ٣- (ج) ٦ (د) ٦-

(٩) $\left[\begin{matrix} ١س \\ ١س - ١س \end{matrix} \right]$ دس يساوي:

- (أ) $\frac{١}{٤}س٢ + ٢س + ج$ (ب) $\frac{١}{٤}س٢ + ٢س + ج$

- (ج) $٢س٢ - ٢س + ج$ (د) $\frac{١}{٤}س٢ - ٢س + ج$

(١٠) إذا كان $ق(س) = \frac{س}{ه}$ ، فإن قيمة $ق(٥)$ تساوي:

- (أ) ١ (ب) ٢ (ج) ٥ (د) ٥٢

(١١) إذا كان $ص = س لوس - س$ ، فإن $\frac{ص}{س}$ تساوي:

- (أ) $١ + لوس$ (ب) $٢ + لوس$

- (ج) $لوس$ (د) $س لوس$

الصفحة الثالثة/نموذج (١)

(١٢) إذا كان $v = 3h$ ، فإن قيمة $\left| \frac{dv}{ds} \right|$ تساوي:

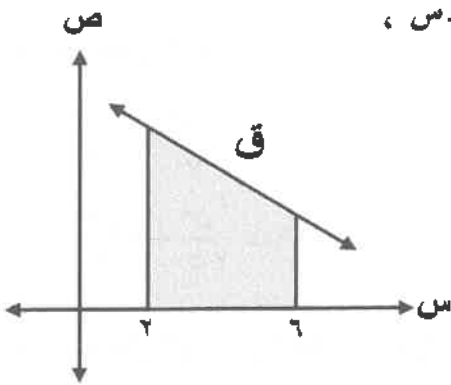
- (أ) ١ (ب) ٣ (ج) ٩ (د) ٢٧

(١٣) إذا كان $\left[\frac{d^2s}{ds^2} + 1 \right] \frac{ds}{ds} = 2$ ، فإن قيمة $\left(\frac{\pi}{2}, 0 \right) \in P$ ، فإن قيمة P تساوي:

- (أ) $\frac{\pi}{3}$ (ب) $\frac{\pi}{4}$ (ج) $\frac{\pi}{5}$ (د) $\frac{\pi}{6}$

(١٤) معتمدًا الشكل المجاور الذي يمثل منحنى الاقتران $Q(s) = \frac{1}{4}s - 5$ ،

فإن مساحة المنطقة المظللة بالوحدات المربعة تساوي:



- (أ) ٦ (ب) ١١

- (ج) ١٢ (د) ٢٤

(١٥) $\left[\frac{d^2s}{ds^2} - \frac{ds}{ds} \right]$ تساوي:

- (أ) $\frac{1}{4}(س + 2)$ (ب) $\frac{1}{4}(س - 2)$

- (ج) $\frac{1}{4}(س + 2)$ (د) $\frac{1}{4}(س - 2)$

(١٦) مركز الدائرة التي معادلتها: $s^2 + 6s + 2 = 2v - 5 = 0$ هو:

- (أ) (٣، -١) (ب) (-٣، ١) (ج) (٦، -٢) (د) (-٦، ٢)

(١٧) تتحرك النقطة (s, v) في المستوى الإحداثي بحيث يتحدّد موقعها في اللحظة $t \leq 0$ ،

بالمعادلتين: $s = 2t$ ، $v = 6t - 4t^2$ ، نوع القطع المخروطي الذي يحدده مسار هذه النقطة هو:

- (أ) دائرة (ب) قطع مكافئ (ج) قطع ناقص (د) قطع زائد

(١٨) بؤرة القطع المكافئ الذي معادلتها: $(s-1)^2 = 8(v+1)$ هي:

- (أ) (١، -١) (ب) (١، ٣) (ج) (١، -٣) (د) (-١، ٣)

الصفحة الرابعة/نموذج (١)

(١٩) معادلة القطع المكافئ الذي رأسه النقطة $(-٢, ١)$ ويورته النقطة $(٣, ١)$ هي:

(أ) $(٢+س)^٢ = ٢٠(١+ص)$ (ب) $(٢+س)^٢ = ٤(١+ص)$

(ج) $(١+ص)^٢ = ٤(٢+س)$ (د) $(١+ص)^٢ = ٢٠(٢+س)$

(٢٠) البعد البؤري للقطع الزائد الذي طول محوره القاطع ١٢ واختلافه المركزي $\frac{٣}{٢}$ يساوي:

(أ) ٦ (ب) ١٢ (ج) ٩ (د) ١٨

(٢١) قيمة الثابت ج التي تجعل نصف قطر الدائرة التي معادلتها: $س^٢ + ص^٢ - ٨س + ج = ٠$ يساوي ٥ وحدات هي:

(أ) ١١ (ب) ١١- (ج) ٩- (د) ٩

(٢٢) معادلة القطع الناقص الذي طول بعده البؤري ٦ ورأساه النقطتان $(٠, ٤)$ ، $(٠, -٤)$ هي:

(أ) $١ = \frac{ص^٢}{١٦} + \frac{س^٢}{٧}$ (ب) $١ = \frac{ص^٢}{١٦} + \frac{س^٢}{٧}$

(ج) $١ = \frac{ص^٢}{٢٥} + \frac{س^٢}{١٦}$ (د) $١ = \frac{ص^٢}{١٦} + \frac{س^٢}{٢٥}$

(٢٣) معادلة المحل الهندسي للنقطة المتحركة $(س, ص)$ في المستوى الإحداثي بحيث يتحدّد موقعها

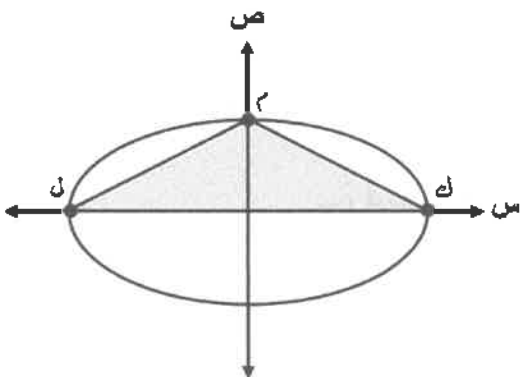
بالمعادلتين: $س = جَاه$ ، $ص = ٢جَاه$ هي:

(أ) $١ = \frac{ص^٢}{٤} - س^٢$ (ب) $١ = \frac{ص^٢}{٤} + س^٢$

(ج) $١ = \frac{ص^٢}{٤} + س^٢$ (د) $١ = \frac{ص^٢}{٤} - س^٢$

(٢٤) طول المحور القاطع للقطع المخروطي الذي معادلته: $٤س^٢ - ٣ص^٢ = ٣$ هو:

(أ) $\frac{٣\sqrt{٢}}{٢}$ (ب) $\sqrt{٣}$ (ج) $\frac{٢}{\sqrt{٣}}$ (د) $\frac{٤}{\sqrt{٣}}$



(٢٥) معتمدًا الشكل المجاور الذي يمثل منحنى قطع ناقص رأساه

النقطتان ك، ل، ومساحته ١٠π وحدة مربعة، والنقطة م

أحد طرفي محوره الأصغر، فإنّ مساحة المثلث ك ل م

بالوحدات المربعة تساوي:

(أ) $\pi ٥$ (ب) $\pi ١٠$

(ج) ١٠ (د) ٥

الصفحة الخامسة/نموذج (١)

الس _____ وال الثاني: (٢٤ علامة)

جد كلاً من التكاملات الآتية:

$$(١) \int \frac{س}{٢+س} ds$$

(١٠ علامات)

$$(٢) \int \frac{٢ ق^٢ س}{٤-٣ ظ^٢ س+٢ ق^٢ س} ds$$

(١٤ علامة)

الس _____ وال الثالث: (٢٤ علامة)

$$(أ) \int \frac{س ه^٢ س}{٢(١+س)} ds$$

(١٢ علامة)

(ب) جد مساحة المنطقة المحصورة بين منحنيات الاقترانات الآتية:

$$ق(س) = \frac{٤}{س} ، ه(س) = ٣-س ، ل(س) = ٢$$

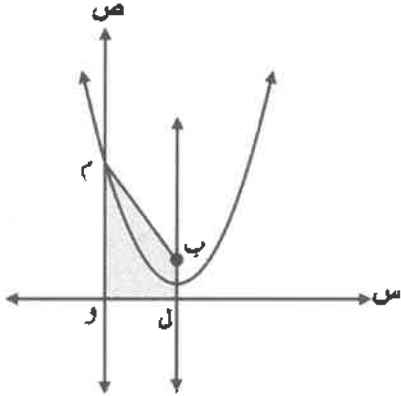
(١٢ علامة)



السؤال الرابع: (٢٥ علامة)

(أ) حل المعادلة التفاضلية: $\frac{dv}{ds} = \frac{v^2}{4} - \frac{v}{2}$ ،

(١٢ علامة)



(١٣ علامة)

(ب) معتمداً الشكل المجاور الذي يمثل منحنى قطع مكافئ بؤرته النقطة ب، ودليله محور السينات ويمر بالنقطة $C(10, 0)$ ، إذا كان محيط الشكل الرباعي ل و C ب يساوي ٢٨ وحدة طول، فجد معادلة هذا القطع.

السؤال الخامس: (٢٧ علامة)

(أ) قطع ناقص مركزه النقطة $(1, 2)$ وإحدى بؤرتيه $(5, 2)$ ، إذا مرّ منحناه بالنقطة $(1, 5)$ ، فجد معادلة هذا القطع.

(١٣ علامة)

(ب) جد إحداثيي المركز والرأسين والبؤرتين والاختلاف المركزي للقطع المخروطي الذي معادلته:

$$8s^2 - v^2 + 16s - 9 = 0$$

(١٤ علامة)

﴿ انتهت الأسئلة ﴾