

إجابات تقويم الدرس

السؤال الأول:

أصوب العبارتين التاريخيتين الآتيتين:

أ- المؤسس الأول للدولة العثمانية هو محمد الثاني (الفتاح).

محمد الثاني هو المؤسس الحقيقي للدولة العثمانية.

ب- أصول العثمانيين عربية.

أصل العثمانيين من قبائل تركمانية (تركية).

السؤال الثاني:

أعلل لما يأتي:

أ- تسمية الدولة العثمانية بهذا الاسم.

نسبة إلى مؤسسها الأول عثمان بن أرطغرل.

ب- بروز بعض سلاطين الدولة العثمانية في التاريخ.

بسبب قوة هؤلاء الخلفاء ومشاركتهم في مرحلة بناء وتأسيس الدولة العثمانية.

السؤال الثالث:

أقارن بين الجهود العسكرية لكل من:

السلطان محمد الثاني (الفتاح)

السلطان بايزيد الأول

السلطان سليم الأول

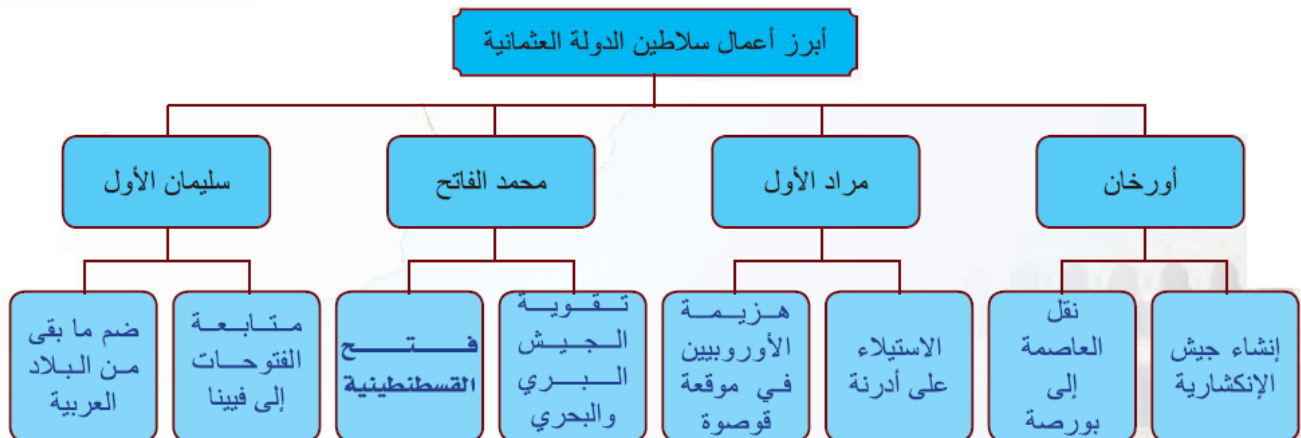
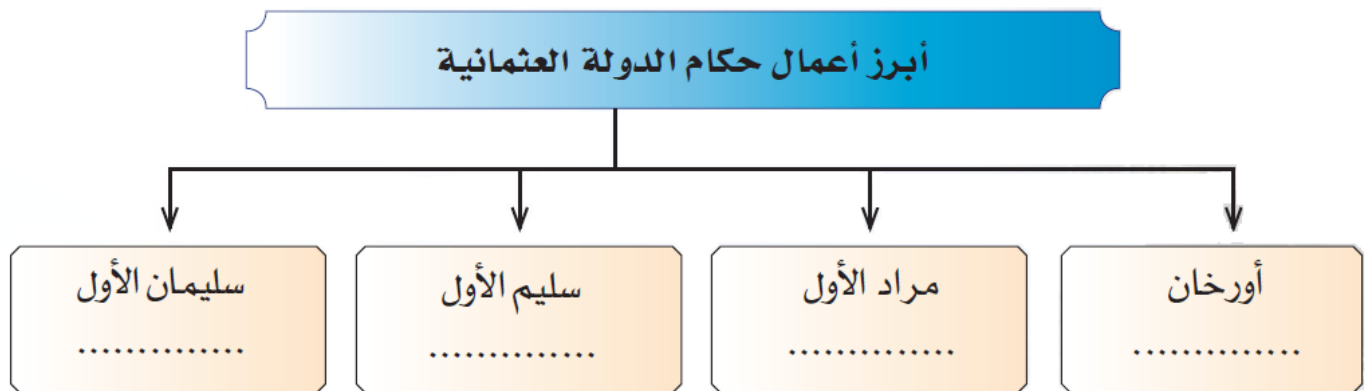
- ١- ضم معظم البلاد العربية.
- ٢- التصدي للحملات الصليبية على البلاد العربية.
- ٣- الدفاع عن البلاد الإسلامية ومقدساتها.

السلطان بايزيد الأول

- ١- مد نفوذ الدولة في أوروبا.
- ٢- التصدي للحملات الصليبية في أوروبا.
- ٣- التصدي للمغول.

السؤال الرابع:

أكتب باختصار أبرز أعمال - من وجهة نظري - لخلفاء الدولة العثمانية في الشكل التالي:



السؤال الخامس:

أستنتج - من الدرس - ما يأتي:

أ- نظام الحكم في الدولة العثمانية.

نظام الحكم وراثي يرث الابن الحكم من أبيه.

ب- سمات أبرز سلاطين الدولة العثمانية.

من هذه السمات: الشجاعة، القوة، الحزم، العدل، الصبر، نصره الإسلام، والعمل على نشره، والدفاع عنه، الحرص على مصالح الدولة.

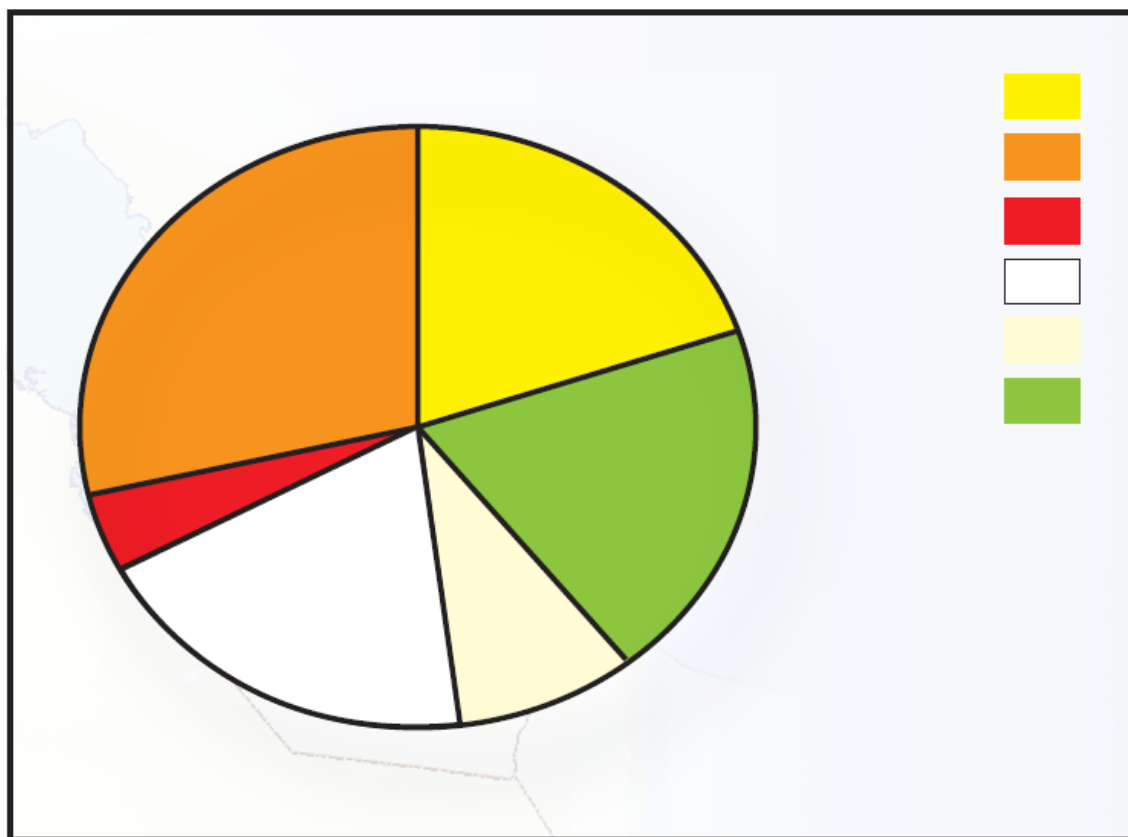
السؤال السادس:

أ- أرسم على الخارطة سهماً يشير إلى اتجاه هجرة العثمانيين من موطنهم الأصلي.



نزوح العثمانيين من موطنهم الأصلي إلى آسيا الصغرى

ب- أدون في الدائرة أسماء خلفاء الدولة العثمانية بحسب سنوات حكم كل خليفة.



■ سليمان ■ سليم ■ محمد ■ بايزيد ■ مراد ■ أورخان

ج- أعبّر بأسلوبي عن دور السلاطين العثمانيين في حمل راية الإسلام والدفاع عنه.

تترك الإجابة للطالب.