

## أتحقق من فهمي

### حل المتباينات بالجمع والطرح

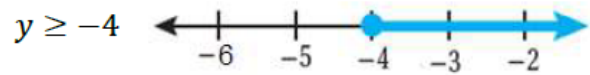
أتحقق من فهمي: صفحة 17

3  $x - 4 < 1$

منهاجي



4  $y - 6 \geq -10$



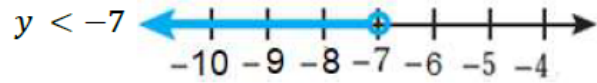
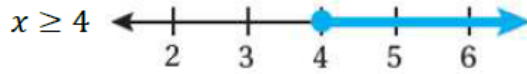
أتحقق من فهمي:

3  $2 + x \geq 6$

منهاجي



4  $5 > y + 12$



أتحقق من فهمي: صفحة 20



سيارات: تريد مَلِكُ شراءِ سيارَةٍ لا يقلُّ ثمنُها عنَ JD 15000، وقد وقرتَ  
JD 13500، كم المبلغ المتبقي عليها لشراءِ السيارة؟

$x \leq 1500$