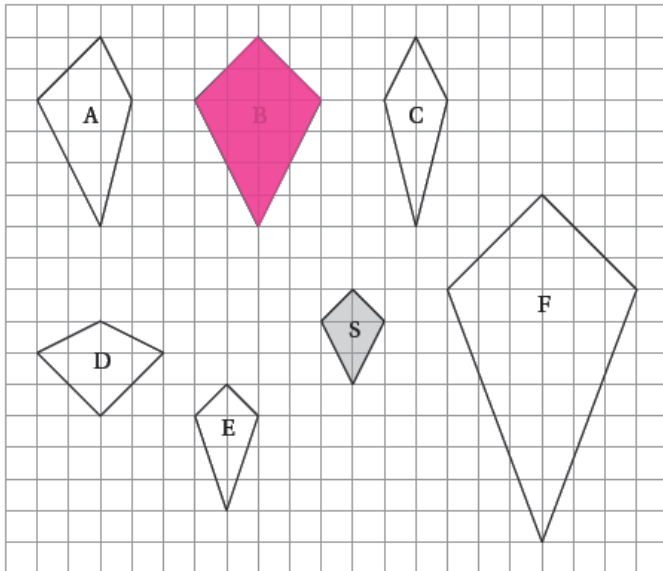
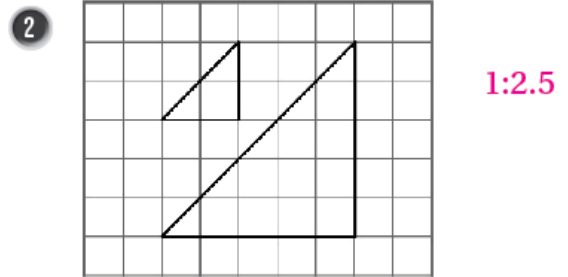
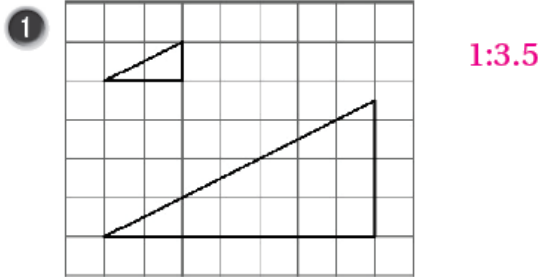


إجابات كتاب التمارين

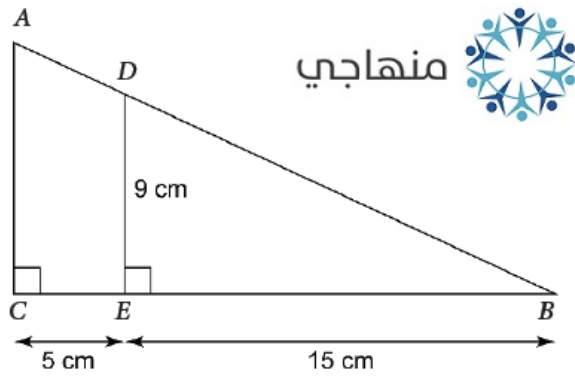
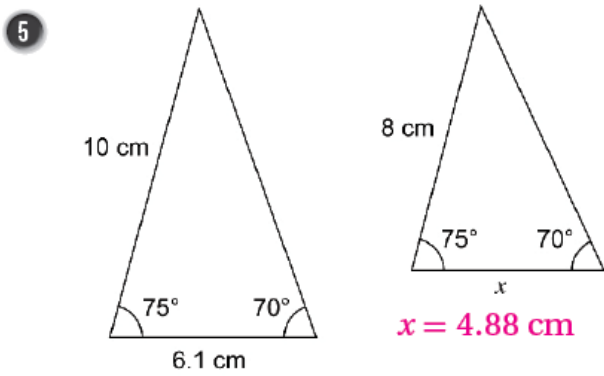
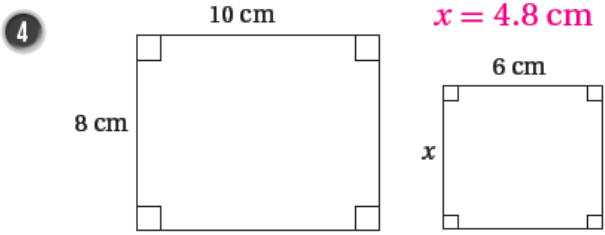
التشابه

أجدُ عاملَ مقياسٍ لكلِّ مِنْ أزواجِ المثلثاتِ المتشابهةِ الآتيةِ:



3 أظنُّ الأشكالَ المتشابهةَ للشكلِ S

أجد قيمة x في كل من أزواج المضلعات المتشابهة الآتية:



6 في الشكل المجاور $\Delta ABC \sim \Delta DEB$ ، أجد طول \overline{AC} .

12 cm