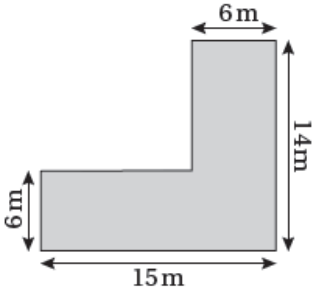


## إجابات كتاب التمارين

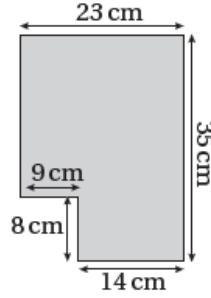
### محيط الشكل المركب ومساحته

أحسبُ مُحيطَ كُلِّ مِنَ الأشكالِ الآتية:

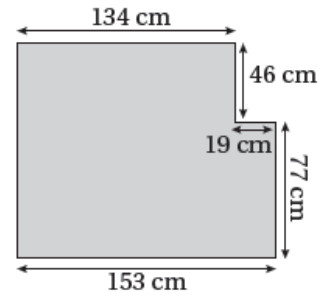
1 58 m



2 116 cm

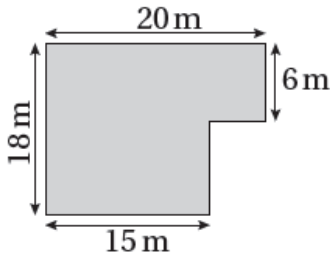


3 552 cm

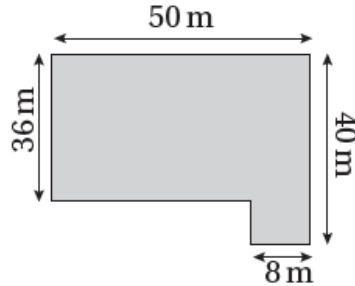


أحسبُ مساحةَ كُلِّ مِنَ الأشكالِ الآتية بطريقتين مُختلفتين:

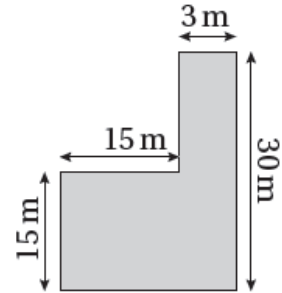
4 300 m<sup>2</sup>



5 1832 m<sup>2</sup>



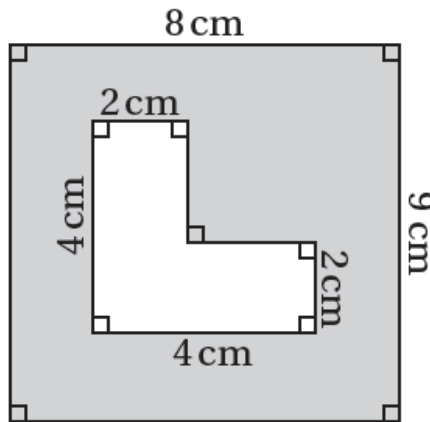
6 315 m<sup>2</sup>



منهاجي

7 أحسبُ مساحةَ المنطقةِ المُظَلَّلةِ في الشكلِ الآتي: 60 cm<sup>2</sup>

منهاجي



منهاجي