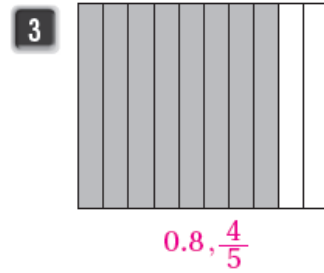
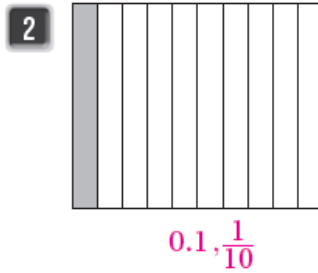
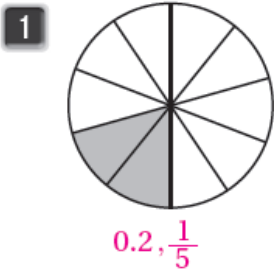


أسئلة تمارين الكتاب

أجزاء العشرة

اكتب الكسر العادي والكسر العشري الذي يمثل الجزء الممثل في كل مما يأتي:

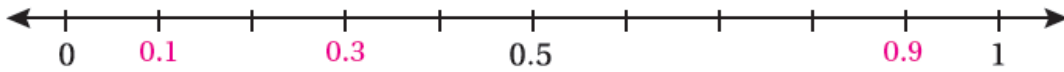


اكتب كل كسر عادي مما يأتي على صورة كسر عشري، وأمثلة على خط الأعداد:

4 $\frac{3}{10}$ 0.3

5 $\frac{9}{10}$ 0.9

6 $\frac{1}{10}$ 0.1

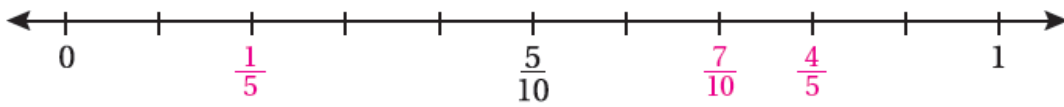


اكتب كل كسر عشري مما يأتي على صورة كسر عادي، وأمثلة على خط الأعداد:

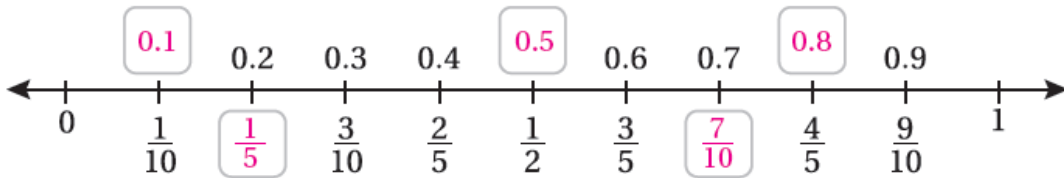
7 0.2 $\frac{1}{5}$

8 0.8 $\frac{4}{5}$

9 0.7 $\frac{7}{5}$



10 أملأ الفراغ بالكسر العشري أو العادي المناسب:



11 لدى لين 10 قطع من الكعك، وزعت منها 4 قطع لصديقاتها. ما الكسر العشري الذي يمثل ما ورعته؟ 0.4