

## أسئلة مراجعة الوحدة الأولى

المفاهيم والمصطلحات

السؤال الأول:

أملأ الفراغ في كل من الجمل الآتية بالكلمة المناسبة:

الْوِراثَة  
تَنْمو  
التَّكاثُرُ

تُسمى قدرة الكائنات الحية على إنتاج أفراد جديدة

- عندما ..... صغار الحيوانات فإنها تتغير.
- انتقال الصفات من الآباء إلى الأبناء يُسمى .....

المهارات والأفكار العلمية

السؤال الثاني:

الصورتان الآتيتان إحداهما لطائر وهو كائن حيّ، والأخرى للسحاب وهو ليس كائناً حياً:



أقدم سببين لتصنيف الطائر كائناً حياً، والسحاب كائناً غير حيّ:

- .....
- .....

### السؤال الثالث:

**أقارن** بين القطه الأم وصغارها، ثم:



- أكتب صفتين تتشابه بهما صغار القطه مع الأم.
- أكتب صفتين تختلف بهما صغار القطه عن الأم.

### السؤال الرابع:

أميّز الحقيقة من الرأي في العبارتين الآتيتين:





- صغير الأرنب ينمو ويتغير.
- صغير الأرنب أجمل من صغير القط.

### السؤال الخامس:

تفكير ناقد: هل السيارة كائن حيّ؟ لماذا؟

### السؤال السادس:

**أستخدم الأرقام:** أعدّ أرجل الحيوانات في الصور الآتية، ثم أرتبها بحسب عدد أرجلها من الأقل إلى الأكثر.



أختار الإجابة الصحيحة

السؤال السابع:


**أتوقع:** أي البطات الآتية أم للفراخ التي في الصورة المجاورة؟



ج



ب



ا

السؤال الثامن:

**أتسلسل:** تبين الصور الآتية نمو نبات، فأی ممّا يأتي يُمثل الترتيب الصحيح للنمو؟



4



3



2



1

أ- 2, 1, 3, 4

ب- 3 , 1 , 4 , 2

ج- 4 , 1 , 2 , 3