

أتحقق من فهمي


الضرب في 4

أَتَحَقَّقُ مِنْ فَهْمِي



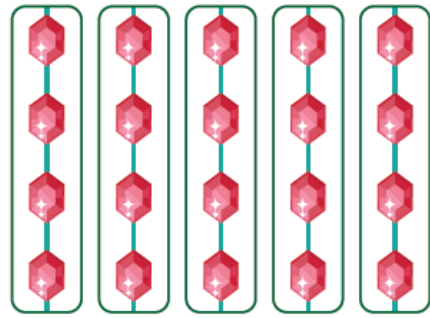
أَكْتُبُ جُمْلَةَ الضَّرْبِ الْمُنَاسِبَةَ:

1



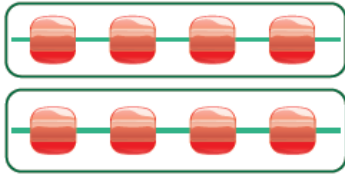
$$4 \times 4 = 16$$

2



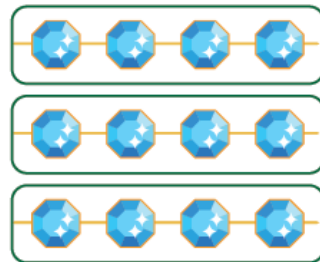
$$5 \times 4 = 20$$

3



$$2 \times 4 = 8$$

4



$$3 \times 4 = 12$$

أَحُلِّ الْمَسْأَلَةَ



لَوْنُ الْعُيُونِ	
▲	أَخْضَرُ
▲ ▲ ▲	أَسْوَدُ
▲ ▲ ▲ ▲	بَيْضِي

المِفْتَاحُ: كُلُّ ▲ يُمَثِّلُ 4 أَشْخَاصٍ.

5 الحِسُّ الْعَدَدِيُّ: يُبَيِّنُ الشَّكْلُ الْمُجَاوِرَ أَلْوَانَ عُيُونِ

بَعْضِ الطَّلَبَةِ، مَا عَدَدُ الطَّلَبَةِ الَّذِينَ لَوْنُ عُيُونِهِمْ أَسْوَدُ؟

أَبْرُرُ إِجَابَتِي مُسْتَعِدِّمًا الضَّرْبَ.

$3 \times 4 = 12$; 12 طالب