

## أسئلة كتاب التمارين

### الضرب في 5

اكتب جُمْلَةَ الضَّرْبِ المُناسِبَةَ:



$$\underline{3} \times \underline{5} = \underline{15}$$




$$\underline{4} \times \underline{5} = \underline{20}$$

أضعُ العَدَدَ المُناسِبَ في  لِأُكْمِلَ جُمْلَةَ الضَّرْبِ:




أرسمُ شَبَكَةً لِأَجِدَ نَاتِجَ الضَّرْبِ:

5  $1 \times 5 =$

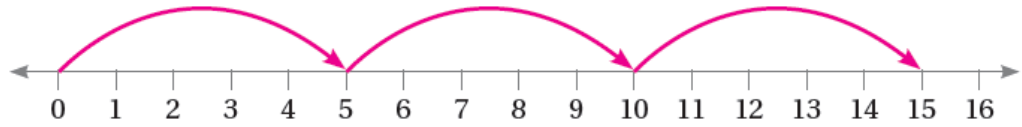


6  $3 \times 5 =$



7 أرسمُ عَدَدَ القَفْزَاتِ المُناسِبَ عَلَى خَطِّ الأَعْدَادِ الَّتِي تُناسِبُ جُمْلَةَ الضَّرْبِ، ثُمَّ أَجِدُ نَاتِجَ الضَّرْبِ:

$3 \times 5 =$



8 وَضَعْتُ ثَقَى مَجْمُوعَتِهَا الأَخْصَةَ مِنَ اللُّوْحَاتِ فِي 4 مَجْمُوعَاتٍ، فِي كُلِّ مِنْهَا 5 لُوْحَاتٍ. كَمْ لُوْحَةً

تَمَلِّكُ ثَقَى؟ **20** واردة