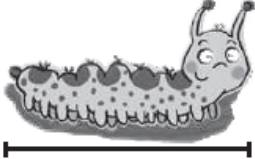





## أسئلة كتاب التمارين

### السنتيمتر

أقدر طول كل من الأشياء الآتية، ثم أجد قياسه بالسنتيمترات:

	الشيء	التقدير	القياس
1		3	3
2		1	1
3		2	2
4		2	3

أستعمل المسطرة لأقيس طول كل مما يأتي بالسنتيمترات:

5		2	6		3
---	---	---	---	--	---

7 أستعمل المسطرة لأقيس طول القلم المُجاور، ثم أرسم قلمًا أطول وقلمًا أقصر:



قلم أطول 

قلم أقصر 