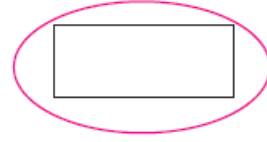
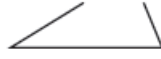


أسئلة كتاب التمارين

الأشكال المستوية

1 أحوط الأشكال المُستوية:




منهاجي

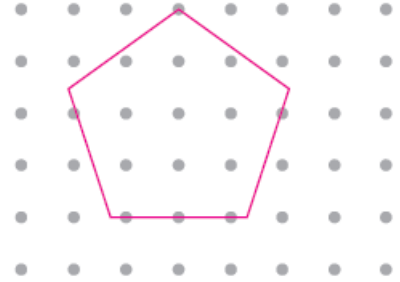


أرسم الأشكال المُستوية الآتية على الشبكة المُنقطة:

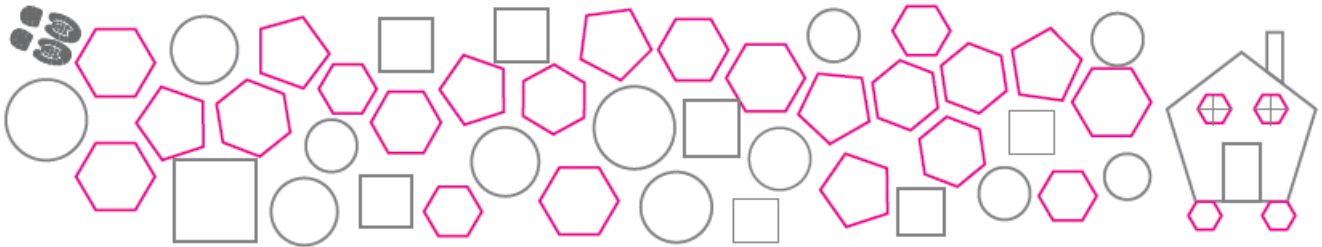
3 سداسي



2 خماسي



4 ألون الخماسي والسداسي لأجد طريقي إلى المنزل:



5 أكتب أسماء الأشكال المُستوية التي أراها في الصورة.

مثلث، مستطيل، سداسي، ثماني، دائرة.

