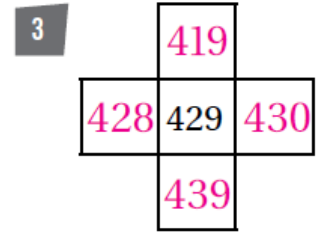
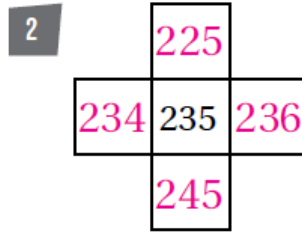
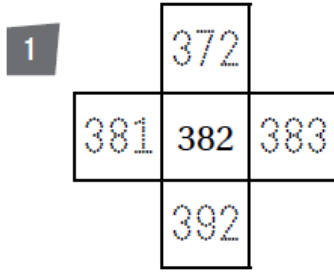


## أسئلة كتاب التمارين

### العد بالواحدات والعشرات والمئات

اكتب الأعداد المناسبة في المربعات:



اكتب التغيير الذي طرأ على الأعداد في ما يأتي:



4 304 إلى 294 أقل ب 10

6 332 إلى 232 أقل ب 100

5 482 إلى 483 أكثر ب 1

8 201 إلى 191 أقل ب 2

7 900 إلى 899 أقل ب 1

9 بدأت جيهان العد بالمئات تصاعدياً، وبعد أربع قفزات، حتى وصلت إلى العدد 792. فما العدد الذي

بدأت العد به؟ 392

10 بدأت أميرة العد بالعشرات تنازلياً 5 قفزات، حتى وصلت إلى العدد 380. فما العدد الذي بدأت

العد به؟ 430

11 إذا بدأت العد بالمئات من 179 إلى 779 فما الأعداد التي سأذكرها؟ 279, 379, 479, 579, 679