
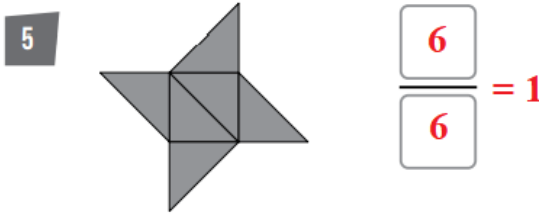
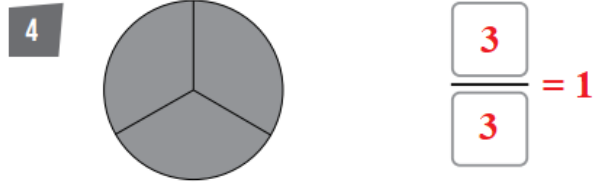

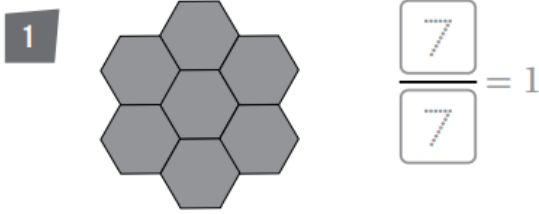


## أسئلة كتاب التمارين الكسور المساوية للواحد

اكتب الكسر الذي يمثل الجزء المظلل من الكل أو من المجموعة:



منهاجي 

ألون كل شكل لأمثل الكسر المعطى:

