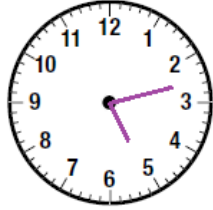


## أسئلة كتاب التمارين

### قراءة الوقت باستعمال (و ، إلا)

أرسم عقربَي الساعة بحسب الوقت المُعطى:

2 الخَامِسَةُ وَ 13 دَقِيقَةً

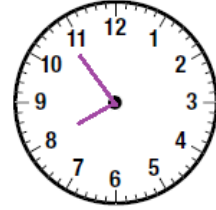


2

منهاجي



1 الثَّامِنَةُ إِلَّا 6 دَقَائِقَ



1

4 السَّابِعَةُ إِلَّا 11 دَقِيقَةً

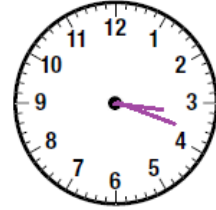


4

منهاجي

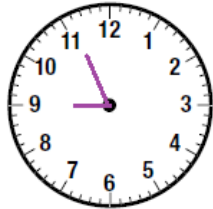


3 الثَّالِثَةُ وَ 18 دَقِيقَةً



3

6 التَّاسِعَةُ إِلَّا 4 دَقَائِقَ

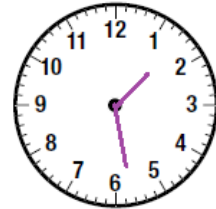


6

منهاجي



5 الْوَاحِدَةُ وَ 28 دَقِيقَةً



5

أقرأ الوقت المُعطى، ثم أكتبه في الساعة الرقمية:

10:04

8 العَاشِرَةُ وَ 4 دَقَائِقَ

8

4:50

7 الخَامِسَةُ إِلَّا 10 دَقَائِقَ

7

7:49

10 الثَّامِنَةُ إِلَّا 11 دَقِيقَةً

10

6:35

9 السَّادِسَةُ وَ 35 دَقِيقَةً

9