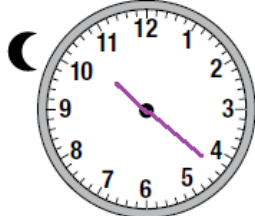




## أسئلة كتاب التمارين


### قبل الظهر، بعد الظهر

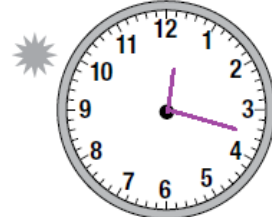
أرسم عقربي الساعة أو أكتب الوقت في الساعة الرقمية، ثم أحدد p.m. أو a.m.:

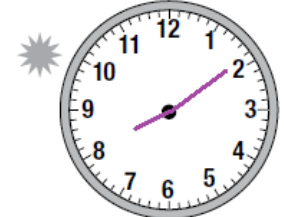
1   a.m.  p.m.  
10:22

2   a.m.  p.m.  
7:09

3   a.m.  p.m.  
9:52

4   a.m.  p.m.  
8:45

5   a.m.  p.m.  
12:17

6   a.m.  p.m.  
8:09

فقدت الساعات الآتية أعدادها، أقدّر الوقت الذي تُشير إليه كل منها، ثم أكتبه بثلاث طرائق مختلفة:

7    
الساعة الخامسة  
الخامسة وخمسة وخمسون  
5:55

8    
العاشرة والرابع  
العاشرة و 15 دقيقة  
10:15

9    
الخامسة إله ربع  
الرابعة وخمسة وأربعون  
4:45