


## أتحقق من فهمي

### الألوف

أتحقق من فهمي صفحة (10):

أكتب العدد الذي يمثله كل نموذج:

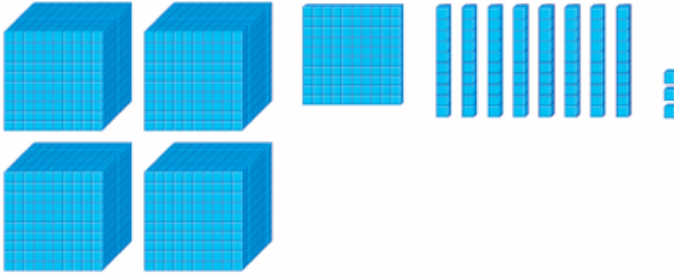
1



العددُ

2541

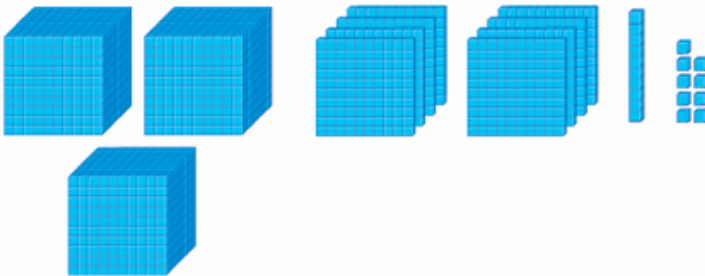
2



العددُ

4183

3



العددُ

3819