

## أسئلة كتاب التمارين

### تقريب الأعداد

أُمَثِّلُ العَدَدَ عَلَى خَطِّ الأَعْدَادِ، ثُمَّ أَرَسِّمُ سَهْمًا يُبَيِّنُ اتِّجَاهَ التَّقْرِيبِ إِلَى الأَعْلَى أَوْ إِلَى الأَسْفَلِ عِنْدَ تَقْرِيْبِهِ إِلَى أَقْرَبِ 10:

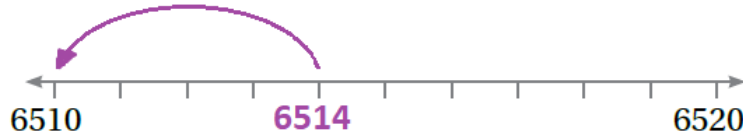
1 3782



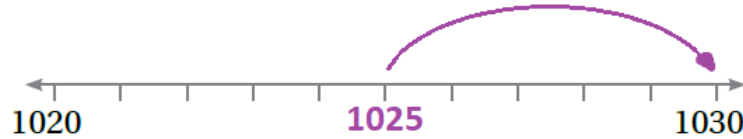
2 4297



3 6514



4 1025

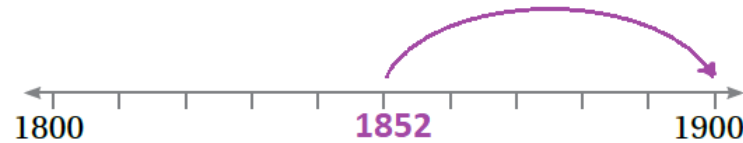


أُمَثِّلُ العَدَدَ عَلَى خَطِّ الأَعْدَادِ، ثُمَّ أَرَسِّمُ سَهْمًا يُبَيِّنُ اتِّجَاهَ التَّقْرِيبِ إِلَى الأَعْلَى أَوْ إِلَى الأَسْفَلِ عِنْدَ تَقْرِيْبِهِ إِلَى أَقْرَبِ 100:

5 5294



6 1852



7 4407



أَقْرَبُ كُلِّ عَدَدٍ إِلَى أَقْرَبِ 1000، ثُمَّ أَكْتُبُ نَاتِجَ التَّقْرِيبِ فِي  الْمُنَاسِبِ:

8  2107

9  4649

10  6737

11  8551

12  7499

13  6051

14  5500

15  8701

16  8099

17  2500

منهاجي

18 ما هُوَ عَدَدُ كَرِيمِ السَّرِيِّ؟

نَاتِجُ جَمْعِ أَرْقَامِ عَدَدِي السَّرِيِّ الْمُكُونِ مِنْ 4 مَنَازِلٍ  
يُسَاوِي 25  
وَإِذَا قَرَّبْتُهُ إِلَى أَقْرَبِ مِئَةٍ، فَإِنَّ نَاتِجَ التَّقْرِيبِ يُسَاوِي  
9000

