

اختبار نهاية الوحدة

التكامل

أختار رمز الإجابة الصحيحة في كل مما يأتي:

(1) قيمة $\int_0^2 e^{2x} dx$ هي:

a) $e^4 - 1$

b) $e^4 - 2$

c) $2e^4 - 2$

d) $12e^4 - 12$

$\int_0^2 e^{2x} dx = 12e^{2x} \Big|_0^2 = 12e^4 - 12 \dots \dots \dots$

(2) قيمة $\int_{-4}^4 (x^2 - 4) dx$ هي:

a) 0

b) 4

c) 16

d) 8

$\int_{-4}^4 (x^2 - 4) dx = \int_{-4}^4 (x^2) dx - \int_{-4}^4 4 dx = \left(\frac{x^3}{3} - 4x \right) \Big|_{-4}^4 = \left(\frac{4^3}{3} - 16 \right) - \left(\frac{-4^3}{3} - 16 \right) = \left(\frac{64}{3} - 16 \right) - \left(-\frac{64}{3} - 16 \right) = \frac{64}{3} - 16 + \frac{64}{3} + 16 = \frac{128}{3} = 42.66 \dots \dots \dots$

(3) يبين الشكل الآتي المنطقة المحصورة بين منحنىي الاقترانين:

$y = x^3 - 3x^2 + 4$ ، $y = x^2 - x - 2$ ، في الفترة $[-1, 2]$

التكامل المحدود الذي يمكن عن طريقه إيجاد مساحة المنطقة المظللة هو:

a) $\int_{-1}^2 (x^3 - 4x^2 + x + 6) dx$

b) $\int_{-1}^2 (x^3 + 4x^2 - x - 6) dx$

$$\int (x^3 - 4x^2 - x + 2) dx \quad (c)$$

$$\int (x^3 - 2x^2 - x + 2) dx \quad (d)$$

$$A = \int -12(x^3 - 3x^2 + 4 - (x^2 - x - 2)) dx = \int -12(x^3 - 4x^2 + x + 6) dx \dots \dots \dots$$

(... (a

(4) حل المعادلة التفاضلية: $dy/dx = 2xy$ الذي تحققه النقطة (0,1) هو:

$$y = e^{x^2} \quad (a)$$

$$y = x^2y \quad (b)$$

$$y = x^2y + 1 \quad (c)$$

$$y = x^2y^2 + 1 \quad (d)$$

$$|y| = x^2 \Rightarrow |y| = e^{x^2} y = |y| = x^2 + C \quad (0,1) \Rightarrow 0 = 0 + C \Rightarrow C = 0 \Rightarrow \int dy/y = \int 2x dx \Rightarrow \ln |y| = x^2 \dots \dots \dots a$$

أجد كلاً من التكاملات الآتية:

$$\int (1 - e^x) dx \quad (5)$$

$$\int (1 - e^x) dx = \int e^{-12x} dx = -\frac{1}{12} e^{-12x} + C$$

$$\int (2x + e^{3x} - 1) dx \quad (6)$$

$$\int (\cos^2 x + e^{3x} - 1) dx = \int (-12x - 2 \sin x) dx = \int (-12x - 2 \sin x) dx = -6x^2 + 2 \cos x + C$$

$$\int (x) dx \quad (7)$$

$$\int (x + \sec^2 x) dx = \int (\csc^2 x \cos^2 x + \sin^2 x + 1) dx = \int (\csc^2 x (1 + \tan^2 x) dx = \int (\csc^2 x + \cot^2 x) dx = -\cot x + C$$

$$\int (e^{2x} + 5) dx \quad (8)$$

$$\int (e^{2x} + 5) dx = \frac{1}{2} \int 2e^{2x} + 5 dx = \frac{1}{2} (e^{2x} + 5x) + C$$

$$(2x^2+7x-3)dx \quad (9) \int$$

$$\int (2x^2+7x-3)dx = \frac{2}{3}x^3 + \frac{7}{2}x^2 - 3x + C$$

$$(2x-1)dx \quad (10) \int \sec^2$$

$$\int (2x-1)dx = x^2 - \frac{1}{2}x + C$$

$$(5x+1)dx \quad (11) \int \cot$$

$$\int (5x+1)dx = \frac{5}{2}x^2 + x + C$$

$$x dx \quad (12) \int \cos \frac{\pi}{2} \sin$$

$$\int_0^{\pi/2} x \cos x dx = -\frac{1}{2}x^2 + \frac{1}{2}x \sin 2x + \frac{1}{4} \cos 2x \Big|_0^{\pi/2} = \frac{1}{4}$$

$$(0.5x) dx \quad (13) \int \cos^2$$

$$\int_0^{\pi} (0.5x) dx = \frac{1}{2}x^2 \Big|_0^{\pi} = \frac{\pi^2}{2}$$

$$(x^3-1) dx \quad (14) \int_0^2$$

$$\int_0^2 (x^3-1) dx = \left[\frac{x^4}{4} - x \right]_0^2 = \left(\frac{16}{4} - 2 \right) - (0 - 0) = 2$$

$$(4x) dx \quad (15) \int_0^{\pi/4} (\sec^2$$

$$\int_0^{\pi/4} 4x dx = 2x^2 \Big|_0^{\pi/4} = \frac{\pi^2}{8}$$

$$(2x) dx \quad (16) \int_0^{\pi/3} (2x+\pi^3) - 1 + \cos$$

$$\int_0^{\pi/3} (2x+\pi^3) dx = \left[x^2 + \pi^3 x \right]_0^{\pi/3} = \frac{\pi^2}{9} + \pi^4$$

$$(2x) dx \quad (17) \int_0^{\pi/8} \cos$$

$$\int_0^{\pi/8} 2x dx = x^2 \Big|_0^{\pi/8} = \frac{\pi^2}{64}$$

$$(4x^2-4) dx \quad (18) \int$$

$$4x^2 - 4dx = \int \frac{4(x-2)(x+2)}{(x-2)(x+2)} dx = \int (Ax-2+Bx+2) dx = \int (Ax+Bx+2) dx = \int (1x-2-1x+2) dx = \int 0 dx = C$$

$$(x+7x^2-x-6) dx \quad (19)$$

$$x+7x^2-x-6 dx = \int \frac{x+7(x-3)(x+2)}{(x+2)(x-3)} dx = \int (Ax-3+Bx+2) dx = \int (2x-3-1x+2) dx = \int (x-1) dx = \frac{1}{2}x^2 - x + C$$

$$(x-1x^2-2x-8) dx \quad (20)$$

$$|x^2-2x-8| + C \quad x-1x^2-2x-8 dx = 12 \int \frac{2(x-1)x^2-2x-8}{(x-1)x^2-2x-8} dx = 12 \ln |x^2-2x-8| + C$$

$$(x^2+3x^3+x) dx \quad (21)$$

$$x^2+3x^3+x dx = \int \frac{x^2+3x(x^2+1)}{(x^2+1)(x)} dx = \int \frac{Ax+Bx+C}{(x^2+1)(x)} dx = \int \frac{3x-2}{(x^2+1)(x)} dx = 3 \ln |x^2+1| - \ln |x| + C$$

$$(1x^2(1-x)) dx \quad (22)$$

$$1x^2(1-x) = Ax+Bx^2+C \quad 1-x = Ax(1-x)+B(1-x)+C(x^2) = 1x=0 \Rightarrow B=1, x=1 \Rightarrow C=1, x=-1 \Rightarrow -2A+2B+C=1 \Rightarrow A=1$$

$$\int \frac{1x^2(1-x)}{x^2(1-x)} dx = \int (1x+1x^2+1(1-x)) dx = \int (1x+1x^2+1-x) dx = \frac{1}{2}x^2 + \frac{1}{3}x^3 + x - \frac{1}{2}x^2 + C = x + C$$

$$(x dx \quad (23) \quad x-3 \cos x \cos 2 \sin x$$

$$x u^2 - 3 u x = \int \sin x - 3 \cos x \cos 2 x \int \sin x \Rightarrow dx = du - \sin x \Rightarrow du dx = -\sin u = \cos x$$

$$x = \int \frac{13u-u^2}{13u-u^2} du = \int \frac{1u(3-u)}{13u-u^2} du = \int \frac{A(3-u)+Bu}{13u-u^2} du = \int \frac{13u+13(3-u)}{13u-u^2} du = 13 \ln |u| - 13 \ln |1u| + C = 13 \ln |3-u| + C$$

$$\int (xx-4)dx \quad (24)$$

$$u=x \Rightarrow u^2=x, dx=2u du \int xx-4 = \int uu^2-4 \times 2u du = \int 2u^2u^2-4 du = \int (2+8u^2-4) du$$

$$8u^2-4 = Au^{-2} + Bu+2 \Rightarrow A(u+2) + B(u-2) = 8u = 2 \Rightarrow A=2, u=-2 \Rightarrow B$$

$$|u+2| + C = 2x|u-2| - 2 \ln = -2 \int xx-4 = \int (2+2u^{-2} + -2u+2) du = 2u+2 \ln$$

$$|x-2x+2| + C + 2 \ln$$

$$\int (x dx) (25x^1 + \tan x \tan \sec^2 x)$$

$$x(u-1)u du \sec^2 x dx = \int \sec^2 x (1 + \tan x \tan x) \sec^2 x dx \Rightarrow dx = du \sec^2 u = 1 + \tan$$

$$x) 32x) 52 - 23(1 + \tan x = \int (u^3 - u^1) du = 25u^5 - 23u^3 + C = 25(1 + \tan$$

$$+ C$$

$$\int (x^4 - 3x^3) dx \quad (26)$$

$$u=4-3x \Rightarrow dx = du - 3, x = 4 - u^3 \int x^4 - 3x^3 dx = \int 13(4-u)u^13 x du - 3 = -19$$

$$\int (4u - 13 - u^23) du = -19(6u^23 - 35u^53) + C = -23u^23 + 115u^53 + C = -2$$

$$3(4-3x)^23 + 115(4-3x)^53 + C$$

$$\int (x)^6 x dx \quad (27) \ln$$

$$\int x)^6 x dx = \int x u^6 x du = \int u^6 du = 17u^7 + C = 17(x \Rightarrow du dx = 1/x, dx = x du \int (\ln u = \ln$$

$$x)^7 + C \ln$$

$$\int (x+1)^{2x-2} dx \quad (28)$$

$$u=x-2 \Rightarrow x=u+2, dx=du \int (x+1)^{2x-2} dx = \int (u+3)^{2u} du = \int (u^2+6u+9)$$

$$u^12 du = \int (u^52 + 6u^32 + 9u^12) du = 27u^72 + 125u^52 + 6u^32 + C = 27(x-2)$$

$$72 + 125(x-2)^52 + 6(x-2)^32 + C$$

$$\int (x dx) (29x \csc^2 x)$$

$$xx + \int \cot x dx = -x \cot x \int x \csc^2 x dx du = dx v = -\cot x dx u = x dv = \csc^2 x \csc^2 \int$$

$$x| + C| \sin x + \ln x dx = -x \cot x \sin x + \int \cos dx = -x \cot$$

$$\int (x^2 - 5x) e^x dx \quad (30)$$

$$u=x^2-5x dv=e^x dx du=(2x-5) dx v=e^x \int (x^2-5x) e^x dx=(x^2-5x) e^x - \int (2$$

$$\int (2x-5)ex dx = \int 2xex dx - \int 5ex dx = 2 \int xex dx - 5 \int ex dx = 2(xex - \int ex dx) - 5ex = 2(xex - ex) - 5ex = 2xex - 2ex - 5ex = 2xex - 7ex + C = ex(2x - 7) + C$$

$$\int (2x^2 - 3x + 1) \sin x dx$$

$$\int (2x^2 - 3x + 1) \sin x dx = -2 \int x^2 \cos x dx + 3 \int x \cos x dx - \int \cos x dx = -2(x^2 \sin x - 2 \int x \sin x dx) + 3(x \sin x - \int \sin x dx) - \sin x = -2(x^2 \sin x - 2(-x \cos x + \int \cos x dx)) + 3(x \sin x + \cos x) - \sin x = -2(x^2 \sin x - 2(-x \cos x + \sin x)) + 3(x \sin x + \cos x) - \sin x = -2(x^2 \sin x + 2x \cos x - 2 \sin x) + 3(x \sin x + \cos x) - \sin x = -2x^2 \sin x - 4x \cos x + 4 \sin x + 3x \sin x + 3 \cos x - \sin x = -2x^2 \sin x - 4x \cos x + 3x \sin x + 2 \cos x$$

أجد قيمة كل من التكاملات الآتية:

$$\int_0^1 t^3 t^2 dt \quad (32)$$

$$u = t^2 \Rightarrow dt = \frac{1}{2} u^{-1/2} du \Rightarrow \int_0^1 t^3 t^2 dt = \int_0^1 t^5 dt = \frac{1}{6} t^6 \Big|_0^1 = \frac{1}{6}$$

$$\int_0^{\pi/4} \cot^3 x dx$$

$$\int_0^{\pi/4} \cot^3 x dx = \int_0^{\pi/4} \cot x (\csc^2 x - 1) dx = \int_0^{\pi/4} \cot x \csc^2 x dx - \int_0^{\pi/4} \cot x dx = \int_0^{\pi/4} \cot x \csc^2 x dx - \int_0^{\pi/4} \frac{\cos x}{\sin x} dx = \int_0^{\pi/4} \cot x \csc^2 x dx - \ln |\sin x| \Big|_0^{\pi/4} = \int_0^{\pi/4} \cot x \csc^2 x dx - \ln \left(\frac{1}{\sqrt{2}} \right) + \ln(1) = \int_0^{\pi/4} \cot x \csc^2 x dx - \ln \frac{1}{\sqrt{2}} = \int_0^{\pi/4} \cot x \csc^2 x dx + \frac{1}{2} \ln 2$$

$$\int_0^{\pi/4} (4x^4 + 3 \sin \pi x \cos x) dx$$

$$\int_0^{\pi/4} (4x^4 + 3 \sin \pi x \cos x) dx = \frac{4}{5} x^5 \Big|_0^{\pi/4} + \frac{3}{2} \int_0^{\pi/4} \sin 2x dx = \frac{4}{5} \left(\frac{\pi}{4} \right)^5 + \frac{3}{2} \left(-\frac{1}{2} \cos 2x \right) \Big|_0^{\pi/4} = \frac{4}{5} \left(\frac{\pi^5}{1024} \right) + \frac{3}{4} (\cos \frac{\pi}{2} - \cos 0) = \frac{4\pi^5}{5120} + \frac{3}{4} (0 - 1) = \frac{\pi^5}{1280} - \frac{3}{4}$$

$$\int_0^1 (10x^2 - x^2 + x - 2) dx \quad (35)$$

$$\int_0^1 (10x^2 - x^2 + x - 2) dx = \int_0^1 (9x^2 + x - 2) dx = \left(3x^3 + \frac{1}{2}x^2 - 2x \right) \Big|_0^1 = 3 + \frac{1}{2} - 2 = \frac{3}{2}$$

$$\int_0^1 (2x^2 + 416x^2 - 1) dx \quad (36)$$

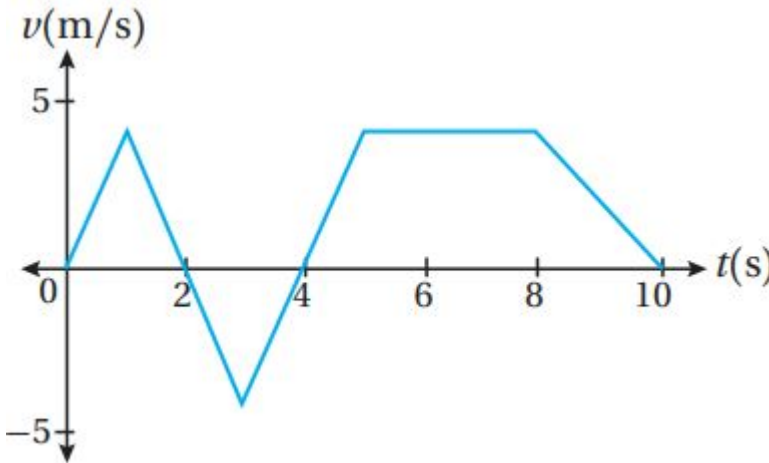
$$\int_0^1 (2x^2 + 416x^2 - 1) dx = \int_0^1 (418x^2 - 1) dx = \left(\frac{418}{3}x^3 - x \right) \Big|_0^1 = \frac{418}{3} - 1 = \frac{415}{3}$$

$$35275)=2+34\ln 3-34\ln(2+34\ln$$

$$(2x dx (371/2e/2x \ln f$$

$$2x|12e^2 - \int 12e^2 x^2 dx = x^2 \ln 2x dv = x dx du = 1xv = x^2 \int 12e^2 x \ln u = \ln$$

$$(2x|12e^2 - 14x^2|12e^2 = 116(e^2 + 1) dx = x^2 \ln$$



يبين الشكل الآتي منحنى السرعة المتجهة - الزمن لجسيم يتحرك على المحور x في الفترة الزمنية [0,10]، إذا بدأ الجسيم الحركة من x=0 عندما t=0، فأجب عن الأسئلة الثلاثة التالية تباعاً:

(38) أجد إزاحة الجسيم في الفترة الزمنية المعطاة.

$$s(10) - s(0) = \int_0^{10} v(t) dt = R_1 - R_2 + R_3 = 12(2)(4) - 12(2)(4) + 12(3+6)(4) = 18m$$

(39) أجد المسافة التي قطعها الجسيم في الفترة الزمنية المعطاة له.

$$\int_0^{10} |v(t)| dt = R_1 + R_2 + R_3 = 4 + 4 + 18 = 26m$$

(40) أجد الموقع النهائي للجسيم.

$$s(10) - s(0) = 18 \Rightarrow s(10) - 0 = 18 \Rightarrow s(10) = 18m$$

(41) أجد مساحة المنطقة المحصورة بين منحنىي الاقترانين: $g(x) = x^2, f(x) = x$.

$$x^2 = x \Rightarrow x^2 - x = 0 \Rightarrow x(x-1) = 0 \Rightarrow x=0, x=1 \quad A = \int_0^1 (x-x^2) dx = (2/3 x^3 - 1/2 x^2) |_0^1 = (2/3 - 1/2) - (0) = 1/6$$

(42) أجد المساحة المحصورة بين منحنىي الاقترانين: $g(x) = x, f(x) = x^3$.

$$x = x^3 \Rightarrow x(x^2 - 1) = 0 \Rightarrow x=0, x=1, x=-1 \quad A = \int_{-1}^0 (x-x^3) dx + \int_0^1 (x-x^3) dx$$

$$=(14x^4-12x^2)|_{-10}+(12x^2-14x^4)|_0=12$$

(43) أجد مساحة المنطقة المحصورة بين منحنى الاقترانين:
 $x=2, x=-2$ والمستقيمين $g(x)=x^2+2, f(x)=-x$

$$x^2+2=-x \Rightarrow x^2+x+2=0$$

هذه المعادلة التربيعية لا حلول لها، لأن المميز سالب، إذن، منحنيا الاقترانين لا يتقاطعان.

$$A = \int -22(x^2+2+x)dx = (13x^3+2x+12x^2)|_{-22} = 403$$

(44) أثبت أن: $\int 225x^2x^2-1dx = 3+12\ln$

$$x^2x^2-1=1+1x^2-1=1+Ax-1+Bx+1 \Rightarrow A(x+1)+B(x-1)=1x=1 \Rightarrow A=12$$

$$|x=-1 \Rightarrow B=-12 \int 25x^2x^2-1dx = \int 25(1+12x-1+-12x+1)dx = (x+12\ln 2|x+1|)|_{25} = 3+12\ln x-1|-12\ln$$

يتحرك جسيم في مسار مستقيم، وتعطى سرعته المتجهة
بالاقتران: $v(t)=t^9-1t+6$ ، حيث t الزمن بالثواني، و v سرعته المتجهة بالمتري لكل ثانية:

(45) أجد إزاحة الجسيم في الفترة $[1,10]$.

$$D = \int 110v(t)dt = \int 110(19t-(t+6)-12)dt = (118t^2-2t+6)|_{110} = (27-52)$$

$$m \approx 2.792m$$

(46) أجد المسافة الكلية التي قطعها الجسيم في الفترة $[1,10]$.

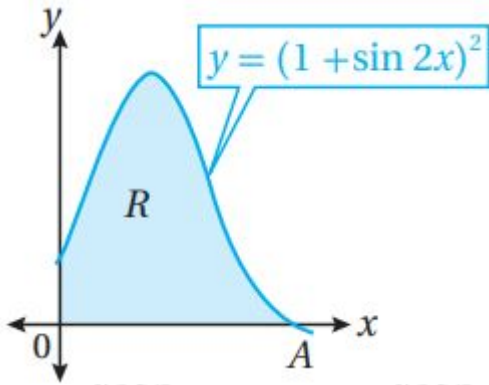
$$v(t)=19t-(t+6)-12$$

لتكن d المسافة المقطوعة وهي تمثل المساحة بين منحنى $v(t)$ والمحور t بين المستقيمين $t=1, t=10$

$$d = \int 110|v(t)|dt = \int 110|19t-(t+6)-12|dt$$

$$19t-(t+6)-12=0 \Rightarrow t^9=1t+6 \Rightarrow tt+6=9 \Rightarrow t^2(t+6)=81 \Rightarrow t^3+6t^2-81=0 \Rightarrow (t-3)(t^2+9t+81)=0 \Rightarrow t=3 \Rightarrow d = -$$

$$\int 13(19t-(t+6)-12)dt + \int 310(19t-(t+6)-12)dt = (2t+6-118t^2)|_{13} + (118t^2-2t+6)|_{310} = 15518-27 \approx 3.32m$$



يمثل الشكل المجاور منحنى
الاقتران: $y = (1 + \sin 2x)^2$ حيث: $0 \leq x \leq \frac{3\pi}{4}$

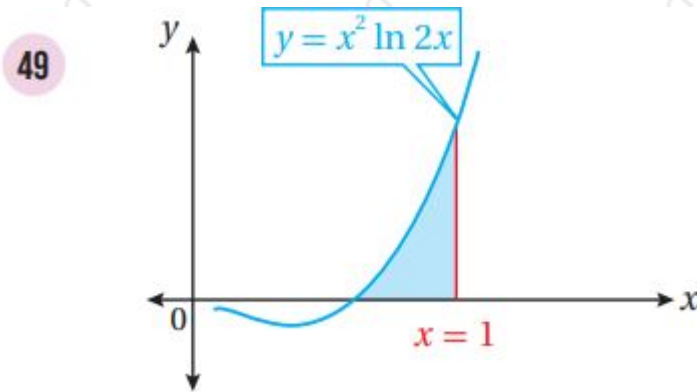
(47) أجد إحداثيي النقطة A.

$$(2x)^2 = 0 \Rightarrow \sin 2x = -1 \Rightarrow 2x = \frac{3\pi}{2} \Rightarrow x = \frac{3\pi}{4} \Rightarrow A\left(\frac{3\pi}{4}, 0\right)$$

(48) أجد مساحة المنطقة R.

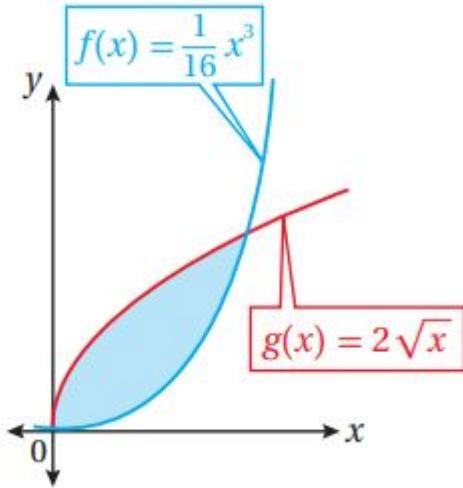
$$\begin{aligned} A(R) &= \int_0^{\frac{3\pi}{4}} (1 + \sin 2x)^2 dx = \int_0^{\frac{3\pi}{4}} (1 + 2\sin 2x + \sin^2 2x) dx \\ &= \int_0^{\frac{3\pi}{4}} (1 + 2\sin 2x + \frac{1 + \cos 4x}{2}) dx = \int_0^{\frac{3\pi}{4}} (\frac{3}{2} + 2\sin 2x + \frac{1}{2}\cos 4x) dx \\ &= \left[\frac{3}{2}x - \cos 2x + \frac{1}{8}\sin 4x \right]_0^{\frac{3\pi}{4}} = \frac{9\pi}{8} + 1 - 18\sin \end{aligned}$$

أجد مساحة المنطقة المظللة في كل من التمثيلين البيانيين الآتيين:



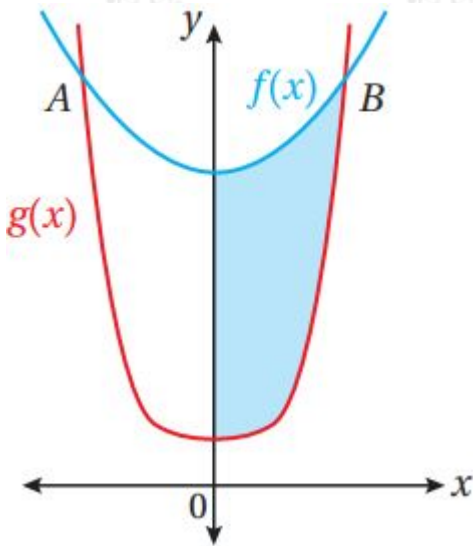
$$\begin{aligned} x^2 \ln 2x = 0 \Rightarrow \ln 2x = 0 \Rightarrow 2x = 1 \Rightarrow x = \frac{1}{2} \\ A = \int_{\frac{1}{2}}^1 x^2 \ln 2x dx \\ \text{بهمل } 2x = 0 \Rightarrow x = 0 \\ u = \ln 2x \Rightarrow \frac{du}{dx} = \frac{1}{x} \Rightarrow dx = x du \\ v = x^2 \Rightarrow \frac{dv}{dx} = 2x \Rightarrow dx = \frac{dv}{2x} \\ \int x^2 \ln 2x dx = \int \frac{1}{2} x^3 \ln 2x dx = \frac{1}{2} \int x^3 \ln 2x dx \\ \int x^3 \ln 2x dx = \int x^2 dx \cdot \ln 2x + \int x^2 \cdot \frac{1}{x} dx = \frac{1}{3} x^3 \ln 2x + \int x dx \\ = \frac{1}{3} x^3 \ln 2x + \frac{1}{2} x^2 + C \\ \left. \frac{1}{3} x^3 \ln 2x + \frac{1}{2} x^2 \right|_{\frac{1}{2}}^1 = \frac{1}{3} \ln 2 + \frac{1}{4} - \left(\frac{1}{24} \ln 1 + \frac{1}{8} \right) = \frac{1}{3} \ln 2 - \frac{1}{8} + C \end{aligned}$$

50



$$116x^3 = 2x \Rightarrow 1256x^6 - 4x = 0 \Rightarrow x(1256x^5 - 4) = 0 \Rightarrow x = 0, x = 4(256)^{1/5} = 2105$$

$$= 4A = \int_0^4 (2x - 116x^3) dx = (43x^2 - 164x^4) \Big|_0^4 = 203$$



يبين الشكل الآتي منحنىي الاقترانين:
: $f(x) = x^2 + 14, g(x) = x^4 + 2$

(51) إذا كان منحنيا الاقترانين يتقاطعان في النقطة A والنقطة B، فأجد إحداثي نقطتي التقاطع.

$$x^2 + 14 = x^4 + 2 \Rightarrow x^4 - x^2 - 12 = 0 \Rightarrow (x^2 - 4)(x^2 + 3) = 0 \Rightarrow x = \pm 2 \Rightarrow A(-2, f(-2))$$

$$= (-2, 18) B(2, f(2)) = (2, 18)$$

(52) أجد حجم الجسم الناتج من دورات المنطقة المظللة حول المحور x.

نلاحظ أن منحنىي f, g واقعان فوق المحور x، وأن منحنى f فوق منحنى g في الفترة $[-2, 2]$

$$V = \pi \int_0^2 (f^2(x) - g^2(x)) dx = \pi \int_0^2 ((x^2 + 14)^2 - (x^4 + 2)^2) dx = \pi \int_0^2 (-x^8 - \rightarrow$$

$$3x^4 + 28x^2 + 192) dx = \pi(-19x^9 - 35x^5 + 283x^3 + 192x) \Big|_0^2 = 17216\pi 45$$

(53) أجد حجم الجسم الناتج من دورات المنطقة المحصورة بين منحنى الاقتران:
 $f(x) = xe^{-x}$ والمحور x والمستقيمين: $x=1$ و $x=2$ حول المحور x .

$$V = \pi \int_1^2 (f(x))^2 dx = \pi \int_1^2 x^2 e^{-2x} dx$$

$$u = x^2 \quad dv = e^{-2x} dx \quad du = 2x dx \quad v = -\frac{1}{2} e^{-2x}$$

$$x^2 = -\frac{1}{2} x^2 e^{-2x} + \int e^{-2x} dx = -\frac{1}{2} x^2 e^{-2x} - \frac{1}{4} e^{-2x} + C$$

$$V = \pi \int_1^2 x^2 e^{-2x} dx = \pi \left(-\frac{1}{2} x^2 e^{-2x} - \frac{1}{4} e^{-2x} \right) \Big|_1^2 = 2e^{-4} - 3e^{-2} \pi$$

أحل كلاً من المعادلات التفاضلية الآتية:

$$(54) \quad \frac{dy}{dx} = yx$$

$$\frac{dy}{y} = x dx \Rightarrow \int \frac{dy}{y} = \int x dx \Rightarrow \ln y = \frac{1}{2} x^2 + C$$

$$(55) \quad \frac{dy}{dx} = x \sec y$$

$$y dy = \int x \sec y dx \quad u = y \quad du = dy \quad v = \int \sec y dy = \ln |\sec y + \tan y|$$

$$y = \frac{1}{2} x^2 \sec y - \int \frac{1}{2} x^2 \sec y dy = \frac{1}{2} x^2 \sec y - \frac{1}{2} x^2 \ln |\sec y + \tan y| + C$$

$$(56) \quad 3y^2 \frac{dy}{dx} = 8x$$

$$3y^2 dy = 8x dx \Rightarrow \int 3y^2 dy = \int 8x dx \Rightarrow y^3 = 4x^2 + C$$

$$(57) \quad x \frac{dy}{dx} = 3xy + 4y$$

$$\frac{dy}{y} = (3x + 4) dx \Rightarrow \int \frac{dy}{y} = \int (3x + 4) dx \Rightarrow \ln y = \frac{3}{2} x^2 + 4x + C$$

أجد الحل الخاص الذي يحقق الشرط الأولي المعطى لكل معادلة تفاضلية مما يأتي:

$$(58) \quad \frac{dy}{dx} + 4y = 8; y(0) = 3$$

$$\frac{dy}{dx} + 4y = 8 \Rightarrow \frac{dy}{dx} = 8 - 4y = 4(2 - y)$$

$$\frac{dy}{2 - y} = 4 dx \Rightarrow \int \frac{dy}{2 - y} = \int 4 dx \Rightarrow -\ln |2 - y| = 4x + C$$

الحل الخاص $|4 - y| = 4x \ln -$ نعوض $1 = 0 + C \Rightarrow C = 0$ $x=0, y=3 \ln -$

$$(59) \quad \frac{dy}{dx} = 5e^y(2x+1)(x-2); y(-3) = 0$$

$$dy 5e^y = dx (2x+1)(x-2) \Rightarrow \int 5e^y dy = \int (2x+1)(x-2) dx = A(2x+1) + B(x-2) \Rightarrow A(x-2) + B(2x$$

$$\begin{aligned} +1) = 1x = 2 \Rightarrow B = 15x = -12 \Rightarrow A = -25 \int dy 5ey = \int (-252x + 1 + 15x - 2) dx - \\ 5 + C 5 + 15 \ln 15 \ln - = 15 - \text{الحل العام } |x-2| + C |2x+1| + 15 \ln e^{-y} 5 = -15 \ln \\ |x-2| - 15 \Rightarrow 1 - |2x+1| + 15 \ln e^{-y} 5 = -15 \ln - \text{نعوض } \Rightarrow C = -15 \quad x = -3, y = 0 \\ \text{الحل الخاص } ||x-2| 2x+1| x-2 2x+1| \Rightarrow 1 - e^{-y} = \ln e^{-y} 5 = 15 \ln \end{aligned}$$

أسماك: يتغير عدد الأسماك في إحدى البحيرات بمعدل يمكن نمذجته بالمعادلة التفاضلية: $\frac{dx}{dt} = 0.2x$, حيث x عدد الأسماك، و t الزمن بالسنوات منذ هذه السنة:

(60) أحل المعادلة التفاضلية لإيجاد عدد الأسماك في البحيرة بعد t سنة، علماً بأن عددها هذه السنة هو 300 سمكة.

$$\frac{dx}{x} = 0.2 dt + C \Rightarrow x = e^{0.2t + C} = e^C (e^{0.2t}) = K e^{0.2t} \Rightarrow \int dx x = \int 0.2 dt \Rightarrow \ln 0.2t$$

حيث k ثابت يساوي e^C وبملاحظة أن عدد الأسماك x أكبر من صفر (فيكون $|x| = x$)

$$\text{الحل الخاص } x(0) = 300 \Rightarrow 300 = K e^{0.2(0)} \Rightarrow K = 300 \quad x(t) = 300 e^{0.2t}$$

(61) أجد عدد الأسماك في البحيرة بعد 5 سنوات.

$$x(5) = 300 e^{0.2(5)} = 300 e \approx 815$$

إذن، عدد الأسماك في البحيرة بعد 5 سنوات هو 815 سمكة تقريباً.

(62) تجارة: يمثل الاقتران $p(x)$ سعر القطعة الواحدة (بالدينار) من منتج معين، حيث x عدد القطع المباعة من المنتج بالمئات. إذا كان: $p'(x) = -300x(9+x^2)^3$ هو معدل التغير في سعر القطعة الواحدة من المنتج، فأجد $p(x)$ ، علماً بأن سعر القطعة الواحدة هو 75 JD عندما يكون عدد القطع المباعة من المنتج 400 قطعة.

$$\begin{aligned} p(x) = \int -300x(9+x^2)^3 dx \quad u = 9+x^2 \Rightarrow dx = du 2x \quad p(u) = \int -300x u^3 2 du 2x = \\ \int -150u - 32 du = 300u + C \Rightarrow p(x) = 300(9+x^2) + C \quad p(4) = 300(5) + C \Rightarrow 75 = 60 + \\ C \Rightarrow C = 15 \Rightarrow p(x) = 15 + 300(9+x^2) \end{aligned}$$