

إجابات أسئلة الدرس الثاني

العناصر الأساسية المكونة للدارات الإلكترونية

السؤال الأول:

أرسم الرموز الفنية للعناصر الإلكترونية الأساسية الآتية:

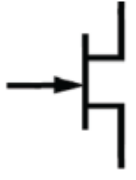



أ- الثايرستور الضوئي.

ب- مقوم محكوم نوع دياك.

ج- ترانزستور تأثير المجال ذي قناة سالبة.

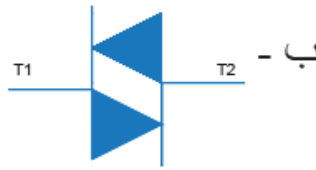
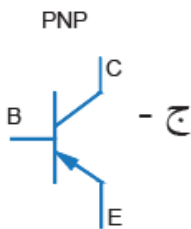
د- ثنائي سعوي (الفراكتور).

هـ- مقاومة PTC

	ج - ترانزستور تأثير المجال ذو الوصلة وذو قناة سالبة.		ب - مقوم محكوم نوع (ترياك)		أ - الثايرستور الضوئي
	هـ - مقاومة (PTC).		د - ثنائي سعوي (الفراكتور).		

السؤال الثاني:

أميز الرموز الفنية للعناصر الإلكترونية الأساسية الآتية:



أ- ثنائي ضوئي.

ب- مقوم سيليكوني محكوم نوع (دياك).

PNP ج- ترانزستور الوصلة ثنائي القطبية نوع (.)