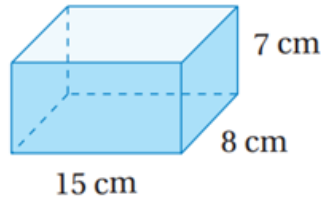


## أتحقق من فهمي

### حجم المنشور والأسطوانة

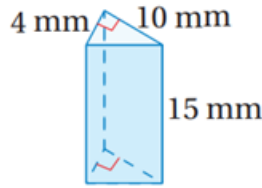
أتحقق من فهمي صفحة (97):

(3)



$840 \text{ cm}^3$

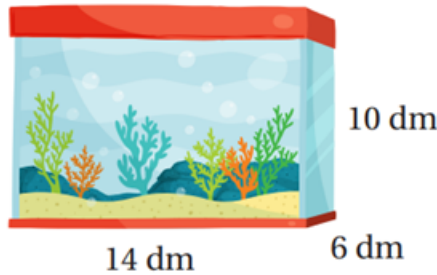
(4)



$300 \text{ mm}^3$

أتحقق من فهمي صفحة (97):

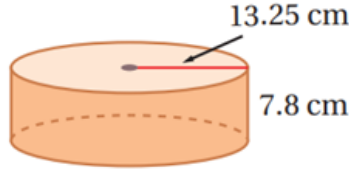
أحواض: أجد حجم حوض الأسماك المجاور.



$840 \text{ dm}^3$

أتحقق من فهمي صفحة (98):

أجد حجم الأسطوانة المجاورة، وأقرب إجابتي لأقرب جزء من مئة.



$4299.88 \text{ cm}^3$

أتحقق من فهمي صفحة (99):

كوب: كم سنتيمتراً مكعباً يتسع له الكوب المجاور.



$307.72 \text{ cm}^3$